

Единый государственный экзамен по ХИМИИ**Демонстрационный вариант
контрольных измерительных материалов единого
государственного экзамена 2026 года
по ХИМИИ**

подготовлен федеральным государственным бюджетным
научным учреждением
«ФЕДЕРАЛЬНЫЙ ИНСТИТУТ ПЕДАГОГИЧЕСКИХ ИЗМЕРЕНИЙ»

Единый государственный экзамен по ХИМИИ**Пояснения к демонстрационному варианту контрольных
измерительных материалов единого государственного экзамена
2026 года по ХИМИИ**

При ознакомлении с демонстрационным вариантом контрольных измерительных материалов (КИМ) единого государственного экзамена (ЕГЭ) 2026 г. следует иметь в виду, что задания, включённые в него, не отражают всех элементов содержания, которые будут проверяться с помощью вариантов КИМ в 2026 г. Полный перечень элементов содержания, которые могут контролироваться на едином государственном экзамене 2026 г., приведён в кодификаторе проверяемых требований к результатам освоения основной образовательной программы среднего общего образования и элементов содержания для проведения единого государственного экзамена по химии.



В демонстрационном варианте представлены конкретные примеры заданий, не исчерпывающие всего многообразия возможных формулировок заданий на каждой позиции варианта экзаменационной работы.

Назначение демонстрационного варианта заключается в том, чтобы дать возможность любому участнику ЕГЭ и широкой общественности составить представление о структуре будущих КИМ, количестве заданий, об их форме и уровне сложности.

В демонстрационном варианте представлено по несколько примеров заданий на некоторых позициях экзаменационной работы. В реальных вариантах экзаменационной работы на каждой позиции будет предложено только одно задание.

Приведённые критерии оценки выполнения заданий с развёрнутым ответом, включённые в этот вариант, дают представление о требованиях к полноте и правильности записи развёрнутого ответа.

Эти сведения позволят выпускникам выработать стратегию подготовки к ЕГЭ в 2026 г.

РАСТВОРИМОСТЬ КИСЛОТ, СОЛЕЙ И ОСНОВАНИЙ В ВОДЕ

	H ⁺	Li ⁺	K ⁺	Na ⁺	NH ₄ ⁺	Ba ²⁺	Ca ²⁺	Mg ²⁺	Sr ²⁺	Al ³⁺	Cr ³⁺	Fe ²⁺	Fe ³⁺	Mn ²⁺	Zn ²⁺	Ag ⁺	Hg ²⁺	Pb ²⁺	Sn ²⁺	Cu ²⁺
OH ⁻		P	P	P	P	P	М	Н	М	Н	Н	Н	Н	Н	Н	—	—	Н	Н	Н
F ⁻	P	М	P	P	P	М	Н	Н	Н	М	Н	Н	Н	P	P	P	—	Н	P	P
Cl ⁻	P	P	P	P	P	P	P	P	P	P	P	P	P	P	P	Н	P	М	P	P
Br ⁻	P	P	P	P	P	P	P	P	P	P	P	P	P	P	P	Н	М	М	P	P
I ⁻	P	P	P	P	P	P	P	P	P	P	?	P	?	P	P	Н	Н	Н	М	?
S ²⁻	P	P	P	P	P	—	—	—	Н	—	—	Н	—	Н	Н	Н	Н	Н	Н	Н
HS ⁻	P	P	P	P	P	P	P	P	P	?	?	?	?	?	?	?	?	?	?	?
SO ₃ ²⁻	P	P	P	P	P	Н	Н	М	Н	?	—	Н	?	?	М	Н	Н	Н	?	?
HSO ₃ ⁻	P	?	P	P	P	P	P	P	P	?	?	?	?	?	?	?	?	?	?	?
SO ₄ ²⁻	P	P	P	P	P	Н	М	P	Н	P	P	P	P	P	P	М	—	Н	P	P
HSO ₄ ⁻	P	P	P	P	P	?	?	?	—	?	?	?	?	?	?	?	?	Н	?	?
NO ₃ ⁻	P	P	P	P	P	P	P	P	P	P	P	P	P	P	P	P	P	P	—	P
NO ₂ ⁻	P	P	P	P	P	P	P	P	P	?	?	?	?	?	?	М	?	?	?	?
PO ₄ ³⁻	P	Н	P	P	—	Н	Н	Н	Н	Н	Н	Н	Н	Н	Н	Н	Н	Н	Н	Н
HPO ₄ ²⁻	P	?	P	P	P	Н	Н	М	Н	?	?	Н	?	Н	?	?	?	М	Н	?
H ₂ PO ₄ ⁻	P	P	P	P	P	P	P	P	P	?	?	P	?	P	P	P	?	—	?	?
CO ₃ ²⁻	P	P	P	P	P	Н	Н	Н	Н	?	?	Н	—	Н	Н	Н	Н	Н	?	Н
HCO ₃ ⁻	P	P	P	P	P	P	P	P	P	?	?	P	?	?	?	?	?	P	?	?
CH ₃ COO ⁻	P	P	P	P	P	P	P	P	P	—	P	P	—	P	P	P	P	P	—	P
SiO ₃ ²⁻	Н	Н	P	P	?	Н	Н	Н	Н	?	?	Н	?	Н	Н	?	?	Н	?	?
MnO ₄ ⁻	P	P	P	P	P	P	P	P	P	P	?	?	?	?	P	?	?	?	?	?
Cr ₂ O ₇ ²⁻	P	P	P	P	P	М	P	?	Н	?	?	?	P	?	?	Н	Н	М	?	P
CrO ₄ ²⁻	P	P	P	P	P	Н	P	P	Н	?	?	?	Н	Н	Н	Н	Н	Н	Н	Н
ClO ₃ ⁻	P	P	P	P	P	P	P	P	P	P	P	?	?	P	P	P	P	P	?	P
ClO ₄ ⁻	P	P	P	P	P	P	P	P	P	P	P	P	P	P	P	P	P	P	?	P

«Р» – растворяется (> 1 г на 100 г H₂O);

«М» – мало растворяется (от 0,1 г до 1 г на 100 г H₂O)

«Н» – не растворяется (меньше 0,01 г на 1000 г воды);

«—» – в водной среде разлагается

«?» – нет достоверных сведений о существовании соединений

РЯД АКТИВНОСТИ МЕТАЛЛОВ / ЭЛЕКТРОХИМИЧЕСКИЙ РЯД НАПРЯЖЕНИЙ

Li Rb K Ba Sr Ca Na Mg Al Mn Zn Cr Fe Cd Co Ni Sn Pb (H₂) Sb Bi Cu Hg Ag Pt Au →

активность металлов уменьшается

Периодическая система химических элементов Д.И. Менделеева

		Г р у п п ы									
		I	II	III	IV	V	VI	VII	VIII		
п е р и о д ы	1	1 H 1,008 Водород						(H)			2 He 4,00 Гелий
	2	3 Li 6,94 Литий	4 Be 9,01 Бериллий	5 10,81 B Бор	6 12,01 C Углерод	7 14,00 N Азот	8 16,00 O Кислород	9 19,00 F Фтор			10 Ne 20,18 Неон
	3	11 Na 22,99 Натрий	12 Mg 24,31 Магний	13 26,98 Al Алюминий	14 28,09 Si Кремний	15 30,97 P Фосфор	16 32,06 S Сера	17 35,45 Cl Хлор			18 Ar 39,95 Аргон
	4	19 K 39,10 Калий	20 Ca 40,08 Кальций	21 Sc 44,96 Скандий	22 Ti 47,90 Титан	23 V 50,94 Ванадий	24 Cr 52,00 Хром	25 Mn 54,94 Марганец	26 Fe 55,85 Железо	27 Co 58,93 Кобальт	28 Ni 58,69 Никель
		29 63,55 Cu Медь	30 65,39 Zn Цинк	31 69,72 Ga Галлий	32 72,59 Ge Германий	33 74,92 As Мышьяк	34 78,96 Se Селен	35 79,90 Br Бром			36 Kr 83,80 Криптон
	5	37 Rb 85,47 Рубидий	38 Sr 87,62 Стронций	39 Y 88,91 Иттрий	40 Zr 91,22 Цирконий	41 Nb 92,91 Ниобий	42 Mo 95,94 Молибден	43 Tc 98,91 Технеций	44 Ru 101,07 Рутений	45 Rh 102,91 Родий	46 Pd 106,42 Палладий
		47 107,87 Ag Серебро	48 112,41 Cd Кадмий	49 114,82 In Индий	50 118,69 Sn Олово	51 121,75 Sb Сурьма	52 127,60 Te Теллур	53 126,90 I Иод			54 Xe 131,29 Ксенон
	6	55 Cs 132,91 Цезий	56 Ba 137,33 Барий	57 La * 138,91 Лантан	72 Hf 178,49 Гафний	73 Ta 180,95 Тантал	74 W 183,85 Вольфрам	75 Re 186,21 Рений	76 Os 190,2 Осмий	77 Ir 192,22 Иридий	78 Pt 195,08 Платина
		79 196,97 Au Золото	80 200,59 Hg Ртуть	81 204,38 Tl Таллий	82 207,2 Pb Свинец	83 208,98 Bi Висмут	84 [209] Po Полоний	85 [210] At Астат			86 Rn [222] Радон
	7	87 Fr [223] Франций	88 Ra 226 Радий	89 Ac ** [227] Актиний	104 Rf [261] Резерфордий	105 Db [262] Дубний	106 Sg [266] Сиборгий	107 Bh [264] Борий	108 Hs [269] Хассий	109 Mt [268] Мейтнерий	110 Ds [271] Дармштадтий
		111 [280] Rg Рентгений	112 [285] Cn Коперниций	113 [286] Nh Нихоний	114 [289] Fl Флеровий	115 [290] Mc Московский	116 [293] Lv Ливерморий	117 [294] Ts Теннессин			118 Og [294] Оганесон

* Лантаноиды

58 Ce 140 Церий	59 Pr 141 Празеодим	60 Nd 144 Неодим	61 Pm [145] Прометий	62 Sm 150 Самарий	63 Eu 152 Европий	64 Gd 157 Гадолиний	65 Tb 159 Тербий	66 Dy 162,5 Диспрозий	67 Ho 165 Гольмий	68 Er 167 Эрбий	69 Tm 169 Тулий	70 Yb 173 Иттербий	71 Lu 175 Лютеций
------------------------------	----------------------------------	-------------------------------	-----------------------------------	--------------------------------	--------------------------------	----------------------------------	-------------------------------	------------------------------------	--------------------------------	------------------------------	------------------------------	---------------------------------	--------------------------------

** Актиноиды

90 Th 232 Торий	91 Pa 231 Протактиний	92 U 238 Уран	93 Np 237 Нептуний	94 Pu [244] Плутоний	95 Am [243] Америций	96 Cm [247] Кюрий	97 Bk [247] Берклий	98 Cf [251] Калифорний	99 Es [252] Эйнштейний	100 Fm [257] Фермий	101 Md [258] Менделеев	102 No [259] Нобелий	103 Lr [262] Лоуренсий
------------------------------	------------------------------------	----------------------------	---------------------------------	-----------------------------------	-----------------------------------	--------------------------------	----------------------------------	-------------------------------------	-------------------------------------	----------------------------------	-------------------------------------	-----------------------------------	-------------------------------------

4 Из предложенного перечня выберите два вещества молекулярного строения, в которых присутствуют как ковалентная полярная, так и ковалентная неполярная связи.

- 1) фенолят натрия
- 2) сероводород
- 3) бутadiен-1,3
- 4) ацетилен
- 5) диметилвый эфир

Запишите номера выбранных ответов.

Ответ:

--	--

5 Среди предложенных формул/названий веществ, расположенных в пронумерованных ячейках, выберите формулы/названия:

- А) средней соли;
Б) основания;
В) амфотерного оксида.

1 (NH ₄) ₂ SO ₄	2 гашёная известь	3 HClO
4 CaHPO ₄	5 гидроксид хрома(III)	6 BaO ₂
7 оксид фосфора(III)	8 оксид железа(III)	9 Zn(OH) ₂

Запишите в таблицу номера ячеек, в которых расположены выбранные вещества, под соответствующими буквами.

Ответ:

А	Б	В

6 В одну пробирку с раствором бромида алюминия добавили избыток раствора вещества X и в результате реакции наблюдали образование осадка белого цвета и выделение газа. В другую пробирку с раствором бромида алюминия добавили по каплям избыток раствора вещества Y и в результате наблюдали сначала образование осадка белого цвета, а затем его растворение. Из предложенного перечня выберите вещества X и Y, которые могут вступать в описанные реакции.

- 1) NH₄Cl
- 2) Fe₂(SO₄)₃
- 3) CuCl₂
- 4) Na₂CO₃
- 5) NaOH

Запишите в таблицу номера выбранных веществ под соответствующими буквами.

Ответ:

X	Y

7 Установите соответствие между веществом и реагентами, с каждым из которых это вещество может взаимодействовать: к каждой позиции, обозначенной буквой, подберите соответствующую позицию, обозначенную цифрой.

ВЕЩЕСТВО

- А) CO₂
Б) Sr
В) FeSO₄ (p-p)
Г) HClO₃

РЕАГЕНТЫ

- 1) NaOH, CuO, SiO₂
2) C, KOH, Mg
3) HNO₃, S, Br₂
4) NH₃, Mg, Na₂SO₄
5) NaOH, NH₃·H₂O, Ba(NO₃)₂

Запишите в таблицу выбранные цифры под соответствующими буквами.

Ответ:

А	Б	В	Г

- 8 Установите соответствие между исходными веществами, вступающими в реакцию, и продуктами этой реакции: к каждой позиции, обозначенной буквой, подберите соответствующую позицию, обозначенную цифрой.

ИСХОДНЫЕ ВЕЩЕСТВА

- А) KOH и Cr₂(SO₄)₃ (изб.)
 Б) Cr₂(SO₄)₃ и K₂SO₃ (p-p)
 В) KCrO₂ и HBr
 Г) K₂Cr₂O₇ и HBr

ПРОДУКТЫ РЕАКЦИИ

- 1) CrBr₃, KBr и H₂O
 2) Cr(OH)₃, SO₂ и K₂SO₄
 3) Cr(OH)₃, KBr, Br₂ и H₂O
 4) Cr(OH)₃ и K₂SO₄
 5) CrBr₃, KBr, Br₂ и H₂O
 6) KCrO₂, K₂SO₄ и H₂O

Запишите в таблицу выбранные цифры под соответствующими буквами.

Ответ:

А	Б	В	Г

- 9 Задана схема превращений веществ:



Определите, какие из указанных веществ являются веществами X и Y.

- 1) Cu(NO₂)₂
 2) CuCl
 3) CuO
 4) CuCl₂
 5) Cu

Запишите в таблицу номера выбранных веществ под соответствующими буквами.

Ответ:

X	Y

- 10 Установите соответствие между общей формулой класса органических веществ и веществом, которое принадлежит к этому классу: к каждой позиции, обозначенной буквой, подберите соответствующую позицию, обозначенную цифрой.

ОБЩАЯ ФОРМУЛА

- А) C_nH_{2n}O₂
 Б) C_nH_{2n}O
 В) C_nH_{2n-2}O

ВЕЩЕСТВО

- 1) гексановая кислота
 2) циклогексанол
 3) гексанол-1
 4) циклогексанон

Запишите в таблицу выбранные цифры под соответствующими буквами.

Ответ:

А	Б	В

- 11 Из предложенного перечня выберите два вещества, которые являются гомологами *n*-гексана.

- 1) пентен-1
 2) пропан
 3) 2-метилпентан
 4) циклогексан
 5) *n*-октан

Запишите номера выбранных ответов.

Ответ:

--	--

- 12 Из предложенного перечня выберите **все** вещества, с которыми вступают в реакцию как пропан, так и глицерин.

- 1) кислород
 2) хлороводород
 3) перманганат калия (p-p)
 4) бром (водн.)
 5) азотная кислота

Запишите номера выбранных ответов.

Ответ: _____.

13 Из предложенного перечня выберите два вещества, с которыми взаимодействует глицин, но не взаимодействует фениламин.

- 1) гидроксид кальция
- 2) кислород
- 3) азотная кислота
- 4) бромоводород
- 5) гидроксид натрия

Запишите номера выбранных ответов.

Ответ:

--	--

14 Установите соответствие между веществом и схемой реакции, в результате которой может быть получено это вещество: к каждой позиции, обозначенной буквой, подберите соответствующую позицию, обозначенную цифрой.

ВЕЩЕСТВО

- А) бензол
- Б) ацетилен
- В) дивинил
- Г) метан

РЕАКЦИЯ ПОЛУЧЕНИЯ

- 1) $\text{C}_2\text{H}_5\text{Cl} + \text{Na} \rightarrow$
- 2) $\text{CH}_4 \xrightarrow{t^\circ}$
- 3) $\text{C}_2\text{H}_5\text{OH} \xrightarrow{t^\circ, \text{кат.}}$
- 4) $\text{C}_2\text{H}_2 \xrightarrow{t^\circ, \text{кат.}}$
- 5) $\text{CH}_3\text{Cl} + \text{NaOH} \rightarrow$
- 6) $\text{Al}_4\text{C}_3 + \text{H}_2\text{O} \rightarrow$

Запишите в таблицу выбранные цифры под соответствующими буквами.

Ответ:

А	Б	В	Г

15 Установите соответствие между схемой реакции и органическим веществом, преимущественно образующимся в результате этой реакции: к каждой позиции, обозначенной буквой, подберите соответствующую позицию, обозначенную цифрой.

СХЕМА РЕАКЦИИ

- А) $\text{C}_6\text{H}_5\text{CH}_2\text{OH} \xrightarrow{\text{CuO}, t^\circ}$
- Б) $\text{C}_6\text{H}_5\text{CH}_2\text{CH}_2\text{OH} \xrightarrow{\text{H}_2\text{SO}_4, t^\circ}$
- В) $\text{C}_6\text{H}_5\text{CHO} \xrightarrow{\text{KMnO}_4 (\text{H}^+)}$
- Г) $\text{C}_6\text{H}_5\text{COONa}_{(\text{тв.})} + \text{NaOH}_{(\text{тв.})} \xrightarrow{t^\circ}$

ПРОДУКТ РЕАКЦИИ

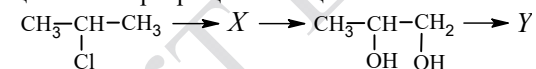
- 1) бензол
- 2) толуол
- 3) фенол
- 4) бензальдегид
- 5) бензойная кислота
- 6) стирол

Запишите в таблицу выбранные цифры под соответствующими буквами.

Ответ:

А	Б	В	Г

16 Задана следующая схема превращений веществ:



Определите, какие из указанных веществ являются веществами X и Y.

- 1) 2-хлорпропан
- 2) пропанол-1
- 3) ацетон
- 4) пропен
- 5) 1,2-дихлорпропан

Запишите в таблицу номера выбранных веществ под соответствующими буквами.

Ответ:

X	Y

17

Установите соответствие между химической реакцией и типами реакций, к которым она относится: к каждой позиции, обозначенной буквой, подберите соответствующую позицию, обозначенную цифрой.

ХИМИЧЕСКАЯ РЕАКЦИЯ

- А) дегидрирование этана
Б) гидратация ацетилена
В) взаимодействие уксусной кислоты с раствором гидроксида натрия

ТИПЫ РЕАКЦИЙ

- 1) разложения, каталитическая
2) присоединения, каталитическая
3) обмена, гомогенная
4) замещения, гетерогенная

Запишите в таблицу выбранные цифры под соответствующими буквами.

Ответ:

А	Б	В

18

Из предложенного перечня выберите **все** внешние воздействия, которые приводят к увеличению скорости химической реакции серы с железом.

- 1) повышение давления в системе
2) добавление индикатора
3) измельчение железа
4) измельчение серы
5) повышение температуры

Запишите номера выбранных ответов.

Ответ: _____.

19

Установите соответствие между уравнением реакции и свойством атома водорода в этой реакции: к каждой позиции, обозначенной буквой, подберите соответствующую позицию, обозначенную цифрой.

УРАВНЕНИЕ РЕАКЦИИ

- А) $2\text{NO}_2 + 2\text{KOH} = \text{KNO}_2 + \text{KNO}_3 + \text{H}_2\text{O}$
Б) $2\text{NH}_3 + 3\text{Ca} = \text{Ca}_3\text{N}_2 + 3\text{H}_2$
В) $\text{H}_2 + \text{Ca} = \text{CaH}_2$

СВОЙСТВО
АТОМА ВОДОРОДА

- 1) только восстановитель
2) и окислитель, и восстановитель
3) не проявляет окислительно-восстановительных свойств
4) только окислитель

Запишите в таблицу выбранные цифры под соответствующими буквами.

Ответ:

А	Б	В

ИЛИ

Установите соответствие между схемой реакции и изменением степени окисления восстановителя в этой реакции: к каждой позиции, обозначенной буквой, подберите соответствующую позицию, обозначенную цифрой.

СХЕМА РЕАКЦИИ

- А) $\text{Cu}_2\text{O} + \text{H}_2\text{SO}_4 \rightarrow \text{CuSO}_4 + \text{SO}_2 + \text{H}_2\text{O}$
Б) $\text{Cu} + \text{HNO}_3 \rightarrow \text{Cu}(\text{NO}_3)_2 + \text{NO}_2 + \text{H}_2\text{O}$
В) $\text{CuO} + \text{H}_2 \rightarrow \text{Cu} + \text{H}_2\text{O}$

ИЗМЕНЕНИЕ
СТЕПЕНИ ОКИСЛЕНИЯ
ВОССТАНОВИТЕЛЯ

- 1) $+6 \rightarrow +4$
2) $+1 \rightarrow +2$
3) $0 \rightarrow +2$
4) $0 \rightarrow +1$

Запишите в таблицу выбранные цифры под соответствующими буквами.

Ответ:

А	Б	В

20

Установите соответствие между веществом и продуктами электролиза водного раствора этой соли, которые выделяются на инертных электродах: к каждой позиции, обозначенной буквой, подберите соответствующую позицию, обозначенную цифрой.

СОЛЬ

- А) нитрат ртути(II)
Б) нитрат рубидия
В) хлорид алюминия

ПРОДУКТЫ ЭЛЕКТРОЛИЗА

- 1) водород, галоген
2) водород, кислород
3) металл, кислород
4) металл, галоген

Запишите в таблицу выбранные цифры под соответствующими буквами.

Ответ:

А	Б	В

ИЛИ

Установите соответствие между веществом и возможным способом его получения путём электролиза: к каждой позиции, обозначенной буквой, подберите соответствующую позицию, обозначенную цифрой.

ВЕЩЕСТВО

- А) алюминий
Б) фтор
В) калий

ПОЛУЧЕНИЕ ЭЛЕКТРОЛИЗОМ

- 1) раствора Al_2O_3 в расплавленном криолите
2) водного раствора KF
3) водного раствора $AlCl_3$
4) расплава KF

Запишите в таблицу выбранные цифры под соответствующими буквами.

Ответ:

А	Б	В

Для выполнения задания 21 используйте следующие справочные данные.

Концентрация (молярная, моль/л) показывает отношение количества растворённого вещества (n) к объёму раствора (V).

pH («пэ аш») – водородный показатель; величина, которая отражает концентрацию ионов водорода в растворе и используется для характеристики кислотности среды.

Шкала pH водных растворов электролитов



21

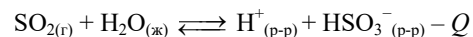
Для веществ, приведённых в перечне, определите характер среды их водных растворов.

- 1) NaOH
2) Na_2S
3) $MgCl_2$
4) HCl

Запишите номера веществ в порядке возрастания значения pH их водных растворов, учитывая, что концентрация веществ во всех растворах (моль/л) одинаковая.

Ответ: → → →

- 22 Установите соответствие между способом воздействия на равновесную систему



и смещением химического равновесия в результате этого воздействия: к каждой позиции, обозначенной буквой, подберите соответствующую позицию, обозначенную цифрой.

ВОЗДЕЙСТВИЕ
НА СИСТЕМУ

ХИМИЧЕСКОЕ РАВНОВЕСИЕ

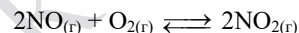
- | | |
|--|---|
| А) повышение давления | 1) смещается в сторону прямой реакции |
| Б) понижение температуры | 2) смещается в сторону обратной реакции |
| В) добавление твёрдого гидросульфита калия | 3) практически не смещается |
| Г) добавление HCl | |

Запишите в таблицу выбранные цифры под соответствующими буквами.

Ответ:

А	Б	В	Г

- 23 В реактор постоянного объёма поместили оксид азота(II) и кислород. При этом концентрация кислорода составляла 0,06 моль/л. В результате протекания обратимой реакции



в реакционной системе установилось химическое равновесие, при котором концентрации оксида азота(II) и оксида азота(IV) стали равными 0,06 моль/л. Определите исходную концентрацию NO (X) и равновесную концентрацию O₂ (Y).

Выберите из списка номера правильных ответов.

- 1) 0,01 моль/л
- 2) 0,02 моль/л
- 3) 0,03 моль/л
- 4) 0,10 моль/л
- 5) 0,12 моль/л
- 6) 0,18 моль/л

Запишите выбранные номера в таблицу под соответствующими буквами.

Ответ:

X	Y

- 24 Установите соответствие между двумя веществами и реактивом, с помощью которого можно различить эти вещества: к каждой позиции, обозначенной буквой, подберите соответствующую позицию, обозначенную цифрой.

ВЕЩЕСТВА

РЕАКТИВ

- | | |
|--|-----------------------------------|
| А) Zn и Fe | 1) KOH (p-p) |
| Б) BaCl ₂ (p-p) и Ba(NO ₃) ₂ (p-p) | 2) CH ₃ COOK (p-p) |
| В) K ₂ SO ₄ (p-p) и MgSO ₄ (p-p) | 3) Al ₂ O ₃ |
| Г) HBr (p-p) и HNO ₃ (p-p) | 4) KBr (p-p) |
| | 5) AgNO ₃ (p-p) |

Запишите в таблицу выбранные цифры под соответствующими буквами.

Ответ:

А	Б	В	Г

ИЛИ

Установите соответствие между реагирующими веществами и признаком протекающей между ними реакции: к каждой позиции, обозначенной буквой, подберите соответствующую позицию, обозначенную цифрой.

РЕАГИРУЮЩИЕ ВЕЩЕСТВА

ПРИЗНАК РЕАКЦИИ

- | | |
|---|---|
| А) C ₂ H ₂ и [Ag(NH ₃) ₂]OH | 1) образование раствора синего цвета |
| Б) C ₂ H ₂ и Br ₂ (p-p) | 2) образование осадка |
| В) HOCH ₂ CH ₂ OH и Cu(OH) ₂ | 3) обесцвечивание раствора |
| Г) C ₆ H ₅ OH (p-p) и KOH (p-p) | 4) образование металлического серебра |
| | 5) видимые признаки реакции отсутствуют |

Запишите в таблицу выбранные цифры под соответствующими буквами.

Ответ:

А	Б	В	Г

25

Установите соответствие между областью применения и веществом: к каждой позиции, обозначенной буквой, подберите соответствующую позицию, обозначенную цифрой.

ОБЛАСТЬ ПРИМЕНЕНИЯ

- А) в качестве антисептика
Б) в качестве пищевой добавки
В) в качестве растворителя

ВЕЩЕСТВО

- 1) сульфат бария
2) толуол
3) пероксид водорода
4) лимонная кислота

Запишите в таблицу выбранные цифры под соответствующими буквами.

Ответ:

А	Б	В

ИЛИ

Установите соответствие между мономером и полимером, образующимся при его полимеризации: к каждой позиции, обозначенной буквой, подберите соответствующую позицию, обозначенную цифрой.

МОНОМЕР

- А) хлорэтен
Б) 2-хлорбутадиен-1,3
В) бутадиен-1,3

ПОЛИМЕР

- 1) натуральный каучук
2) поливинилхлорид
3) дивиниловый каучук
4) хлоропреновый каучук

Запишите в таблицу выбранные цифры под соответствующими буквами.

Ответ:

А	Б	В

ИЛИ

Установите соответствие между процессом и аппаратом химического производства, в котором этот процесс происходит: к каждой позиции, обозначенной буквой, подберите соответствующую позицию, обозначенную цифрой.

ПРОЦЕСС

- А) получение натрия
Б) перегонка нефти
В) получение гидроксида натрия

АППАРАТ

- 1) ректификационная колонна
2) доменная печь
3) электролизёр
4) колонна синтеза

Запишите в таблицу выбранные цифры под соответствующими буквами.

Ответ:

А	Б	В

Ответом к заданиям 26–28 является число. Запишите это число в поле ответа в тексте работы, соблюдая при этом указанную степень точности. Затем перенесите это число в БЛАНК ОТВЕТОВ № 1 справа от номера соответствующего задания, начиная с первой клеточки. Каждый символ пишите в отдельной клеточке в соответствии с приведёнными в бланке образцами. Единицы измерения физических величин в бланке ответа указывать не нужно.

При проведении расчётов для всех элементов, кроме хлора, используйте значения относительных атомных масс, выраженные целыми числами ($A_r(Cl) = 35,5$).

26

К 115 г раствора с массовой долей нитрата калия 20 % добавили 58 мл воды и 27 г этой же соли. Вычислите массовую долю соли в полученном растворе. (Запишите число с точностью до целых.)

Ответ: _____ %.

27

Определите количество теплоты, которое выделится при сгорании 2,3 г этилового спирта в соответствии с термохимическим уравнением реакции



(Запишите число с точностью до десятых.)

Ответ: _____ кДж.

28

Технический сульфит натрия массой 14 г, в котором массовая доля примеси сульфата натрия составляет 10 %, растворили в избытке соляной кислоты. Определите объём (н.у.) выделившегося при этом газа. (Запишите число с точностью до сотых.)

Ответ: _____ л.

ИЛИ

Вычислите объём газа (н.у.), полученного с выходом 90 % при сжигании в кислороде 19,2 г сульфида меди(II). (Запишите число с точностью до целых.)

Ответ: _____ л.



Не забудьте перенести все ответы в БЛАНК ОТВЕТОВ № 1 в соответствии с инструкцией по выполнению работы. Проверьте, чтобы каждый ответ был записан в строке с номером соответствующего задания.

Часть 2

Для записи ответов на задания 29–34 используйте **БЛАНК ОТВЕТОВ № 2**. Запишите сначала номер задания (29, 30 и т.д.), а затем его подробное решение. Ответы записывайте чётко и разборчиво.

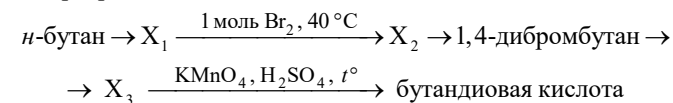
Для выполнения заданий 29 и 30 используйте следующий перечень веществ: хлорид железа(II), хлорид марганца(II), оксид хрома(III), нитрат цинка, гидроксид натрия, перманганат калия. Допустимо использование водных растворов веществ.

- 29** Из предложенного перечня выберите окислитель и восстановитель, реакция между которыми в соответствующей среде протекает с образованием оксида, соли и кислоты. В качестве среды для протекания реакции можно использовать воду или вещество, приведённое в перечне. В ответе запишите уравнение только одной из возможных окислительно-восстановительных реакций с участием выбранных веществ. Составьте электронный баланс (запишите уравнения процессов окисления и восстановления), укажите окислитель и восстановитель.

- 30** Из предложенного перечня выберите два вещества, между которыми возможна реакция ионного обмена, протекающая с образованием амфотерного гидроксида. Запишите молекулярное, полное и сокращённое ионные уравнения только одной возможной реакции.

- 31** Аллюминат калия растворили в необходимом количестве серной кислоты. К полученному при этом раствору добавили раствор сульфата натрия. Выделившийся газ разделили на две части, одну из которых поглотили раствором дихромата натрия, подкисленным серной кислотой, а другую – бромной водой. Напишите молекулярные уравнения четырёх описанных реакций.

- 32** Напишите уравнения реакций, с помощью которых можно осуществить следующие превращения:



При написании уравнений реакций указывайте преимущественно образующиеся продукты, используйте структурные формулы органических веществ.

- 33** Вещество А содержит по массе 19,25 % углерода, 7,49 % азота, 17,11 % серы, 51,34 % кислорода и водорода. Вещество А образуется при действии избытка разбавленной серной кислоты на натриевую соль Б. На основании данных условия задачи:
- 1) проведите необходимые вычисления и установите молекулярную формулу вещества А;
 - 2) составьте структурную формулу вещества А, которая однозначно отражает порядок связи атомов в его молекуле;
 - 3) напишите уравнение реакции получения вещества А при взаимодействии натриевой соли Б с серной кислотой (используйте структурные формулы органических веществ).

- 34** Смесь сульфидов цинка и железа(II) растворили в избытке соляной кислоты, получив раствор, в котором массовая доля соли цинка в 3,21 раза больше массовой доли второй соли. Выделившийся при растворении газ прореагировал в сернокислотной среде точно со 100 мл раствора перманганата калия, концентрация которого 0,16 моль/л. Рассчитайте массовую долю сульфида цинка в исходной смеси сульфидов металлов. В ответе запишите уравнения реакций, которые указаны в условии задачи, и приведите все необходимые вычисления (указывайте единицы измерения искомых физических величин).



Проверьте, чтобы каждый ответ был записан рядом с номером соответствующего задания.

Система оценивания экзаменационной работы по химии

Часть 1

Правильное выполнение каждого из заданий 1–5, 9–13, 16–21, 25–28 оценивается 1 баллом. Задание считается выполненным верно, если ответ записан в той форме, которая указана в инструкции по выполнению задания, и полностью совпадает с эталоном ответа. В ответах на задания 1, 3, 4, 11, 12, 13, 18 порядок записи символов значения не имеет.

Правильное выполнение каждого из заданий 6, 7, 8, 14, 15, 22, 23, 24 оценивается 2 баллами. Задание считается выполненным верно, если ответ записан в той форме, которая указана в инструкции по выполнению задания, и полностью совпадает с эталоном ответа: каждый символ в ответе стоит на своём месте, лишние символы в ответе отсутствуют. Выставляется 1 балл, если на любой одной позиции ответа записан не тот символ, который представлен в эталоне ответа. Во всех других случаях выставляется 0 баллов. Если количество символов в ответе больше требуемого, выставляется 0 баллов вне зависимости от того, были ли указаны все необходимые символы.

Номер задания	Правильный ответ
1	12
2	135
3	13
4	34
5	128
6	45
7	2352
8	4215
9	34
10	124
11	25
12	15
13	15
14	4236

Номер задания	Правильный ответ		
15	4651		
16	45		
17	123		
18	345		
19	344	234	
20	321	144	
21	4321		
22	1222		
23	53		
24	1515	2315	
25	342	243	313
26	25		
27	68,7		
28	2,24	4	

Часть 2

Критерии оценивания выполнения заданий с развёрнутым ответом



При наличии уравнений химических реакций, отражающих дополнительные/альтернативные химические превращения, не противоречащие условиям заданий, а также соответствующих им расчётов (в заданиях 33 и 34) эксперт оценивает правильность представленного экзаменуемым решения в соответствии со шкалой и критериями оценивания.

Для выполнения заданий 29 и 30 используйте следующий перечень веществ: хлорид железа(II), хлорид марганца(II), оксид хрома(III), нитрат цинка, гидроксид натрия, перманганат калия. Допустимо использование водных растворов веществ.

29

Из предложенного перечня выберите окислитель и восстановитель, реакция между которыми в соответствующей среде протекает с образованием оксида, соли и кислоты. В качестве среды для протекания реакции можно использовать воду или вещество, приведённое в перечне. В ответе запишите уравнение только одной из возможных окислительно-восстановительных реакций с участием выбранных веществ. Составьте электронный баланс (запишите уравнения процессов окисления и восстановления), укажите окислитель и восстановитель.

Содержание верного ответа и указания по оцениванию (допускаются иные формулировки ответа, не искажающие его смысла)	Баллы
Вариант ответа: $3\text{MnCl}_2 + 2\text{KMnO}_4 + 2\text{H}_2\text{O} = 5\text{MnO}_2 + 2\text{KCl} + 4\text{HCl}$ $\begin{array}{l} 2 \quad \text{Mn}^{+7} + 3\bar{e} \rightarrow \text{Mn}^{+4} \\ 3 \quad \text{Mn}^{+2} - 2\bar{e} \rightarrow \text{Mn}^{+4} \end{array}$ Марганец в степени окисления +7 (или перманганат калия) является окислителем. Марганец в степени окисления +2 (или хлорид марганца(II)) является восстановителем	
Ответ правильный и полный, содержит следующие элементы: • выбраны вещества, и записано уравнение окислительно-восстановительной реакции; • составлен электронный баланс, указаны окислитель и восстановитель	2
Правильно записан один элемент ответа	1
Все элементы ответа записаны неверно	0
Максимальный балл	2

Примечание. Если молекулярное уравнение реакции не соответствует условию задания или в нём неверно определены продукты реакции, то электронный баланс не оценивается (выставляется 0 баллов).

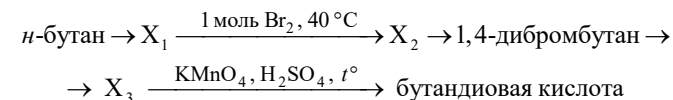
- 30** Из предложенного перечня выберите два вещества, между которыми возможна реакция ионного обмена, протекающая с образованием амфотерного гидроксида. Запишите молекулярное, полное и сокращённое ионные уравнения только одной возможной реакции.

Содержание верного ответа и указания по оцениванию (допускаются иные формулировки ответа, не искажающие его смысла)	Баллы
Вариант ответа: $\text{Zn}(\text{NO}_3)_2 + 2\text{NaOH} = 2\text{NaNO}_3 + \text{Zn}(\text{OH})_2$ $\text{Zn}^{2+} + 2\text{NO}_3^- + 2\text{Na}^+ + 2\text{OH}^- = \text{Zn}(\text{OH})_2 + 2\text{Na}^+ + 2\text{NO}_3^-$ $\text{Zn}^{2+} + 2\text{OH}^- = \text{Zn}(\text{OH})_2$	
Ответ правильный и полный, содержит следующие элементы: • выбраны вещества, и записано молекулярное уравнение реакции ионного обмена; • записаны полное и сокращённое ионные уравнения реакции	2
Правильно записан один элемент ответа	1
Все элементы ответа записаны неверно	0
<i>Максимальный балл</i>	2

- 31** Аллюминат калия растворили в необходимом количестве серной кислоты. К полученному при этом раствору добавили раствор сульфата натрия. Выделившийся газ разделили на две части, одну из которых поглотили раствором дихромата натрия, подкисленным серной кислотой, а другую – бромной водой. Напишите молекулярные уравнения четырёх описанных реакций.

Содержание верного ответа и указания по оцениванию (допускаются иные формулировки ответа, не искажающие его смысла)	Баллы
Вариант ответа: $1) 2\text{KAlO}_2 + 4\text{H}_2\text{SO}_4 = \text{Al}_2(\text{SO}_4)_3 + \text{K}_2\text{SO}_4 + 4\text{H}_2\text{O}$ $2) \text{Al}_2(\text{SO}_4)_3 + 3\text{Na}_2\text{SO}_3 + 3\text{H}_2\text{O} = 2\text{Al}(\text{OH})_3 + 3\text{SO}_2 + 3\text{Na}_2\text{SO}_4$ $3) 3\text{SO}_2 + \text{Na}_2\text{Cr}_2\text{O}_7 + \text{H}_2\text{SO}_4 = \text{Cr}_2(\text{SO}_4)_3 + \text{Na}_2\text{SO}_4 + \text{H}_2\text{O}$ $4) \text{SO}_2 + \text{Br}_2 + 2\text{H}_2\text{O} = \text{H}_2\text{SO}_4 + 2\text{HBr}$	
Правильно записаны четыре уравнения реакций	4
Правильно записаны три уравнения реакций	3
Правильно записаны два уравнения реакций	2
Правильно записано одно уравнение реакции	1
Все элементы ответа записаны неверно	0
<i>Максимальный балл</i>	4

- 32** Напишите уравнения реакций, с помощью которых можно осуществить следующие превращения:



При написании уравнений реакций указывайте преимущественно образующиеся продукты, используйте структурные формулы органических веществ.

Содержание верного ответа и указания по оцениванию (допускаются иные формулировки ответа, не искажающие его смысла)	Баллы
Вариант ответа: $1) \text{CH}_3\text{--CH}_2\text{--CH}_2\text{--CH}_3 \xrightarrow{\text{кат.}, t^\circ} \text{CH}_2=\text{CH--CH}=\text{CH}_2 + 2\text{H}_2$ $2) \text{CH}_2=\text{CH--CH}=\text{CH}_2 + \text{Br}_2 \rightarrow \text{BrCH}_2\text{--CH}=\text{CH--CH}_2\text{Br}$ $3) \text{BrCH}_2\text{--CH}=\text{CH--CH}_2\text{Br} + \text{H}_2 \xrightarrow{\text{Ni}, t^\circ} \text{CH}_2\text{Br--(CH}_2)_2\text{--CH}_2\text{Br}$ $4) \text{CH}_2\text{Br--(CH}_2)_2\text{--CH}_2\text{Br} + 2\text{KOH} \xrightarrow{\text{H}_2\text{O}} \text{CH}_2(\text{OH})\text{--(CH}_2)_2\text{--CH}_2\text{OH} + 2\text{KBr}$ $5) 5\text{HOCH}_2(\text{CH}_2)_2\text{CH}_2\text{OH} + 8\text{KMnO}_4 + 12\text{H}_2\text{SO}_4 \xrightarrow{t^\circ} 5\text{HOOC}(\text{CH}_2)_2\text{COOH} + 8\text{MnSO}_4 + 4\text{K}_2\text{SO}_4 + 22\text{H}_2\text{O}$	
Правильно записаны пять уравнений реакций	5
Правильно записаны четыре уравнения реакций	4
Правильно записаны три уравнения реакций	3
Правильно записаны два уравнения реакций	2
Правильно записано одно уравнение реакции	1
Все уравнения реакций записаны неверно	0
<i>Максимальный балл</i>	5

Примечание. Допустимо использование структурных формул разного вида (развёрнутой, сокращённой, скелетной), однозначно отражающих порядок связи атомов и взаимное расположение заместителей и функциональных групп в молекуле органического вещества.

33 Вещество А содержит по массе 19,25 % углерода, 7,49 % азота, 17,11 % серы, 51,34 % кислорода и водород.

Вещество А образуется при действии избытка разбавленной серной кислоты на натриевую соль Б.

На основании данных условия задачи:

- 1) проведите необходимые вычисления и установите молекулярную формулу вещества А;
- 2) составьте структурную формулу вещества А, которая однозначно отражает порядок связи атомов в его молекуле;
- 3) напишите уравнение реакции получения вещества А при взаимодействии натриевой соли Б с серной кислотой (используйте структурные формулы органических веществ).

Содержание верного ответа и указания по оцениванию (допускаются иные формулировки ответа, не искажающие его смысла)	Баллы
<p>Вариант ответа: Проведены вычисления, и найдена молекулярная формула вещества А: Общая формула вещества А – $C_xH_yN_zS_mO_p$ $\omega(H) = 100 - 19,25 - 7,49 - 17,11 - 51,34 = 4,81\%$ $x : y : z : m : p = 19,25 / 12 : 4,81 / 1 : 7,49 / 14 : 17,11 / 32 : 51,34 / 16 = 3 : 9 : 1 : 1 : 6$ Молекулярная формула вещества А – $C_3H_9NSO_6$ Структурная формула вещества А:</p> $\begin{array}{c} \text{CH}_3 \\ \\ \text{HO}-\text{C}-\text{CH}-\text{NH}_3^+ \text{HSO}_4^- \end{array}$ <p>Уравнение реакции получения вещества А:</p> $\begin{array}{c} \text{CH}_3 \\ \\ \text{NH}_2-\text{CH}-\text{C}=\text{O} \\ \\ \text{O}^- \text{Na}^+ \end{array} + 2\text{H}_2\text{SO}_4 \longrightarrow \begin{array}{c} \text{CH}_3 \\ \\ \text{HO}-\text{C}-\text{CH}-\text{NH}_3^+ \text{HSO}_4^- \end{array} + \text{NaHSO}_4$ <p>(Возможна запись соли β-аланина.)</p>	
<p>Ответ правильный и полный, содержит следующие элементы:</p> <ul style="list-style-type: none"> • правильно произведены вычисления, необходимые для установления молекулярной формулы вещества, и записана молекулярная формула вещества; • записана структурная формула органического вещества, которая отражает порядок связи и взаимное расположение заместителей и функциональных групп в молекуле в соответствии с условием задания; • с использованием структурной формулы органического вещества записано уравнение реакции, на которую даётся указание в условии задания 	3

Правильно записаны два элемента ответа	2
Правильно записан один элемент ответа	1
Все элементы ответа записаны неверно	0
Максимальный балл	3

34

Смесь сульфидов цинка и железа(II) растворили в избытке соляной кислоты, получив раствор, в котором массовая доля соли цинка в 3,21 раза больше массовой доли второй соли. Выделившийся при растворении газ прореагировал в сернокислотной среде точно со 100 мл раствора перманганата калия, концентрация которого 0,16 моль/л. Рассчитайте массовую долю сульфида цинка в исходной смеси сульфидов металлов. В ответе запишите уравнения реакций, которые указаны в условии задачи, и приведите все необходимые вычисления (указывайте единицы измерения искомых физических величин).

Содержание верного ответа и указания по оцениванию (допускаются иные формулировки ответа, не искажающие его смысла)	Баллы
<p>Вариант ответа: Уравнения реакций: $\text{FeS} + 2\text{HCl} = \text{FeCl}_2 + \text{H}_2\text{S}$ $\text{ZnS} + 2\text{HCl} = \text{ZnCl}_2 + \text{H}_2\text{S}$ $5\text{H}_2\text{S} + 2\text{KMnO}_4 + 3\text{H}_2\text{SO}_4 = 5\text{S} + 2\text{MnSO}_4 + \text{K}_2\text{SO}_4 + 8\text{H}_2\text{O}$</p> <p>Рассчитаны количества вещества и массы продуктов реакций и реагентов: $n(\text{KMnO}_4) = c \cdot V = 0,16 \cdot 0,1 = 0,016$ моль $n(\text{H}_2\text{S}) = 5/2 \cdot n(\text{KMnO}_4) = 0,016 \cdot 2,5 = 0,04$ моль Пусть $n(\text{FeS}) = x$ моль, $n(\text{ZnS}) = y$ моль, тогда: $x + y = 0,04$ $n(\text{FeCl}_2) = n(\text{FeS}) = x$ моль, $n(\text{ZnCl}_2) = n(\text{ZnS}) = y$ моль $m(\text{FeCl}_2) = n \cdot M = 127x$ г $m(\text{ZnCl}_2) = n \cdot M = 136y$ г По условию: $136y / 127x = 3,21$ $x + y = 0,04$ $x = 0,01 = n(\text{FeS}), y = 0,03 = n(\text{ZnS}).$</p> <p>Рассчитаны массы компонентов смеси и массовая доля сульфида цинка: $m(\text{FeS}) = n \cdot M = 0,01 \cdot 88 = 0,88$ г $m(\text{ZnS}) = n \cdot M = 0,03 \cdot 97 = 2,91$ г $\omega(\text{ZnS}) = 2,91 / (2,91 + 0,88) = 0,768$, или 76,8 %</p>	

<p>Ответ правильный и полный, содержит следующие элементы:</p> <ul style="list-style-type: none"> • правильно записаны уравнения реакций, соответствующих условию задания; • правильно произведены вычисления, в которых используются необходимые физические величины, заданные в условии задания; • продемонстрирована логически обоснованная взаимосвязь физических величин, на основании которой проводятся расчёты; • в соответствии с условием задания определена искомая физическая величина 	4
Правильно записаны три элемента ответа	3
Правильно записаны два элемента ответа	2
Правильно записан один элемент ответа	1
Все элементы ответа записаны неверно	0
<i>Максимальный балл</i>	<i>4</i>

Примечание. В случае, когда в ответе содержится ошибка в вычислениях, которая привела к неверному ответу, оценка за выполнение задания снижается только на 1 балл.

В соответствии с Порядком проведения государственной итоговой аттестации по образовательным программам среднего общего образования (приказ Минпросвещения России и Рособрнадзора от 04.04.2023 № 233/552, зарегистрирован Минюстом России 15.05.2023 № 73314)

«81. Проверка экзаменационных работ включает в себя:

1) проверку и оценивание предметными комиссиями ответов на задания КИМ для проведения ЕГЭ с развёрнутым ответом <...>, в том числе устных ответов, в соответствии с критериями оценивания по соответствующему учебному предмету, разработка которых организуется Рособрнадзором¹ <...>.

По результатам первой и второй проверок эксперты независимо друг от друга выставляют первичные баллы за каждый ответ на задания КИМ для проведения ЕГЭ с развёрнутым ответом <...>.

В случае существенного расхождения в первичных баллах, выставленных двумя экспертами, назначается третья проверка. Существенное расхождение в первичных баллах определено в критериях оценивания по соответствующему учебному предмету, разработка которых организуется Рособрнадзором.

Эксперту, осуществляющему третью проверку, предоставляется информация о первичных баллах, выставленных экспертами, ранее проверявшими экзаменационную работу».

1. Существенным считается расхождение между баллами, выставленными первым и вторым экспертами, на 2 или более балла за выполнение любого из заданий 29–34. В этом случае третий эксперт проверяет ответы только на те задания, которые вызвали столь существенное расхождение.

2. Расхождение в результатах оценивания двумя экспертами ответа на одно из заданий 29–34 заключается в том, что один эксперт указал на отсутствие ответа на задание, а другой выставил за выполнение этого задания ненулевой балл. В этом случае третий эксперт проверяет только ответы на задания (по всем критериям оценивания данного задания), которые были оценены со столь существенным расхождением.

3. Ситуации, в которых один эксперт указал на отсутствие ответа в экзаменационной работе, а второй эксперт выставил нулевой балл за выполнение этого задания, не являются ситуациями существенного расхождения в оценивании.

¹ Часть 14 статьи 59 Федерального закона от 29.12.2012 № 273-ФЗ «Об образовании в Российской Федерации».