

**Сборник тренировочных материалов для подготовки
к государственному выпускному экзамену
по ИСТОРИИ
для обучающихся по образовательным программам
ОСНОВНОГО общего образования**

ПОЯСНИТЕЛЬНАЯ ЗАПИСКА

Тренировочные материалы предназначены для подготовки к государственному выпускному экзамену по истории в устной и письменной формах.

В части I представлены тренировочные материалы для подготовки к устному экзамену. Устный экзамен проводится по билетам, каждый из которых содержит два теоретических вопроса. В сборнике представлен весь перечень теоретических вопросов, которые могут использоваться в экзаменационных билетах.

В части II представлены тренировочные материалы для подготовке к ГВЭ-9 в письменной форме. Материалы сгруппированы по тематическому признаку следующим образом:

- **раздел 2.1** – задания на знание дат, фактов, персоналий, понятий и терминов, причин и следствий;
- **раздел 2.2** – задания на работу с историческими источниками;
- **раздел 2.3** – задания на знание основных фактов истории культуры России и на работу с иллюстративным материалом;
- **раздел 2.4** – задания на знание фактов истории Великой Отечественной войны;
- **раздел 2.5** – задания на работу с исторической картой (схемой);
- **раздел 2.6** – задания на работу со статистической информацией;
- **раздел 2.7** – задания на сравнение;
- **раздел 2.8** – задания на работу с информацией, данной в виде схемы;
- **раздел 2.9** – задания на анализ исторической ситуации (с развёрнутым ответом).

В каждом разделе представлены задания разных форм и разных уровней сложности. В конце разделов приведены ответы и критерии оценивания заданий.

**ЧАСТЬ I
Перечень теоретических вопросов билетов по истории
для проведения ГВЭ-9 в устной форме**

1. С какими событиями в истории России связаны понятия «Самозванец», «Семибоярщина», «Тушинский вор»? Объясните, чем эти события были вызваны.
2. Объясните, почему XVII в. в отечественной истории был назван «бунташным». Какие события дали основание для этого названия?
3. Преобразования Петра I: содержание, итоги.
4. С событиями какой из войн XVIII в. связаны названия Нарва, Лесная, Полтава, Гангут? Раскройте значение каждого из этих событий в истории этой войны.
5. Когда в истории России происходили дворцовые перевороты? Объясните, к каким последствиям они привели.
6. «Просвещённый абсолютизм» Екатерины II.
7. Внешняя политика Российской империи во второй половине XVIII в.: задачи, основные направления, итоги.
8. Культура и общественная мысль России во второй половине XVIII в.
9. Отечественная война 1812 г. Заграничный поход русской армии.
10. Объясните, как менялся характер внутренней политики Александра I в первой и во второй половине его царствования. В чём это выразилось?
11. Движение декабристов: предпосылки возникновения, участники, цели, основные выступления, значение.

12. К какому периоду отечественной истории относится понятие «золотой век русской культуры»? Творчество каких деятелей культуры дало основание для этого названия?
13. С какими событиями отечественной истории связаны понятия «выкупные платежи», «отрезки», «уставные грамоты», «временнообязанные крестьяне»? Объясните, как они характеризуют эти события.
14. Общественные движения в России в 70–90-х г. XIX в.: организации, участники, деятельность.
15. К какому периоду (периодам) истории России относится понятие «многопартийность»? Объясните, с какими событиями, процессами оно связано.
16. Революция 1905–1907 гг. в России: причины, основные события, итоги.
17. С какими событиями, процессами в истории России связаны понятия «отруб», «хутор», «Крестьянский банк»? Объясните их значение.
18. Великая российская революция 1917 г.: основные события, их участники, итоги.
19. Гражданская война в России: причины, участники, итоги.
20. Переход от политики «военного коммунизма» к новой экономической политике: причины введения, основной мероприятия и результаты нэпа.
21. Сравните периоды восстановления хозяйства России, СССР после Гражданской войны и после Великой Отечественной войны. Объясните, в чём заключались общие черты и различия.
22. С каким событием отечественной истории 1920–1930-х гг. связаны понятия «автономизация», «федеральное устройство»? Объясните, какие позиции партийных руководителей они отражали.
23. Общественно-политическая жизнь в СССР в 1920–1930-х гг.

24. Великая Отечественная война: основные этапы, события, причины победы советского народа.
25. Что означает понятие «коренной перелом в ходе Великой Отечественной войны»? Объясните, с какими событиями, процессами оно связано.
26. СССР в 1945–1953 гг.: основные направления и события внутренней и внешней политики.
27. К какому периоду отечественной истории относятся понятия «реабилитация», «совнархоз», «освоение целины»? Объясните, какие характерные черты этого периода они отражали.
28. «Оттепель» в СССР: изменения в политической, социально-экономической жизни, культуре. Итоги «оттепели».
29. Сравните внешнюю политику СССР в середине 1950-х – середине 1960-х гг. и в 1970-х гг. Объясните, что было общим, в чём заключались различия.
30. К какому периоду отечественной истории относятся понятия «гласность», «политический плюрализм», «парад суверенитетов»? Объясните, какие черты, процессы этого периода отражали названные понятия?

ЧАСТЬ II**Раздел 2.1****Задания на знание дат, фактов, персоналий, понятий и терминов, причин и следствий**

1 В каком веке согласно летописному преданию в Новгород на княжение были призваны варяги?

- 1) VII в.
- 2) VIII в.
- 3) IX в.
- 4) X в.

Ответ:

2 Какая из названных битв произошла 26 августа (7 сентября) 1812 г.?

- 1) сражение на реке Березине
- 2) Смоленское сражение
- 3) сражение у Бородино
- 4) сражение при Малоярославце

Ответ:

3 В каком году в СССР началась сплошная коллективизация сельского хозяйства?

- 1) 1918 г.
- 2) 1921 г.
- 3) 1926 г.
- 4) 1929 г.

Ответ:

4 Начало «холодной войны» относится

- 1) ко второй половине 1940-х гг.
- 2) к первой половине 1950-х гг.
- 3) ко второй половине 1950-х гг.
- 4) к первой половине 1960-х гг.

Ответ:

5 Какое из указанных событий произошло в XIII в.?

- 1) разорение Северо-Восточной Руси ханом Батыем
- 2) сожжение Москвы ханом Тохтамышем
- 3) поход князя Игоря на Царьград
- 4) Куликовская битва

Ответ:

6 В каком веке проходила Семилетняя война?

- 1) XVI в.
- 2) XVII в.
- 3) XVIII в.
- 4) XIX в.

Ответ:

7 Что из перечисленного произошло позже других?

- 1) вступление СССР в Лигу Наций
- 2) включение Прибалтийских республик в состав СССР
- 3) Генуэзская конференция
- 4) подписание Брестского мирного договора

Ответ:

8 Начало экономических реформ А.Н. Косыгина относится к

- 1) началу 1950-х гг.
- 2) середине 1960-х гг.
- 3) концу 1970-х гг.
- 4) середине 1980-х гг.

Ответ:

9 В каком веке была составлена Правда Ярослава?

- 1) VIII в.
- 2) IX в.
- 3) X в.
- 4) XI в.

Ответ:

10 Какое из указанных событий военной истории произошло раньше остальных?

- 1) переход войск А.В. Суворова через Альпы
- 2) сражение при Кунерсдорфе
- 3) Чесменское сражение
- 4) Полтавская битва

Ответ:

11 Какое из перечисленных событий произошло раньше других?

- 1) подписание Рапалльского договора с Германией
- 2) советско-финляндская война
- 3) вступление СССР в Лигу Наций
- 4) вооружённый конфликт с Японией в районе озера Хасан

Ответ:

12 В каком году состоялись выборы Президента РСФСР?

- 1) 1978 г.
- 2) 1985 г.
- 3) 1991 г.
- 4) 1996 г.

Ответ:

13 Укажите период, когда произошло окончательное освобождение Руси от ордынской зависимости.

- 1) первая половина XIV в.
- 2) конец XIV в.
- 3) вторая половина XV в.
- 4) начало XVI в.

Ответ:

14 Жалованная грамота дворянству была дарована в

- 1) в первой четверти XVIII в.
- 2) во второй четверти XVIII в.
- 3) в третьей четверти XVIII в.
- 4) в четвёртой четверти XVIII в.

Ответ:

15 Договор об образовании СССР был подписан в

- 1) 1917 г.
- 2) 1920 г.
- 3) 1922 г.
- 4) 1924 г.

Ответ:

16 Какое из перечисленных событий произошло раньше остальных?

- 1) избрание М.С. Горбачёва Генеральным секретарём ЦК КПСС
- 2) образование Содружества Независимых Государств
- 3) издание Указа о либерализации цен
- 4) ввод войск стран Организации Варшавского договора в Чехословакию

Ответ:

17 Укажите год, когда на российский престол вступил первый представитель династии Романовых.

- 1) 1598 г.
- 2) 1613 г.
- 3) 1649 г.
- 4) 1672 г.

Ответ:

18 Какое из перечисленных событий произошло позже остальных?

- 1) издание «Чугунного устава»
- 2) создание Верховного тайного совета
- 3) открытие первой железной дороги в России
- 4) восстание Черниговского полка

Ответ:

19 В каком году в связи с поражением Германии в Первой мировой войне был аннулирован Брестский мир?

- 1) 1918 г.
- 2) 1922 г.
- 3) 1933 г.
- 4) 1939 г.

Ответ:

20 Н.С. Хрущёв занимал пост Первого секретаря ЦК КПСС в период

- 1) 1945–1953 гг.
- 2) 1953–1964 гг.
- 3) 1965–1985 гг.
- 4) 1985–1991 гг.

Ответ:

21 К какому веку относится монгольское нашествие на Русь?

- 1) X в.
- 2) XI в.
- 3) XIII в.
- 4) XVI в.

Ответ:

22 Когда была создана Табель о рангах?

- 1) в первой четверти XVIII в.
- 2) во второй половине XVIII в.
- 3) в первой половине XIX в.
- 4) во второй половине XIX в.

23 В какой период в СССР началось стахановское движение?

- 1) во второй половине 1920-х гг.
- 2) в середине 1930-х гг.
- 3) в начале 1940-х гг.
- 4) в конце 1950-х гг.

Ответ:

24 Какое из перечисленных событий произошло в конце 1940-х гг.?

- 1) ввод войск Организации Варшавского договора в Чехословакию
- 2) создание Совета экономической взаимопомощи
- 3) Карибский кризис
- 4) создание Лиги Наций

Ответ:

25 «Повесть временных лет» сообщает о призвании на Русь варяжских князей, которое произошло в

- 1) 862 г.
- 2) 882 г.
- 3) 907 г.
- 4) 945 г.

Ответ:

26 Решающие сражения Северной войны произошли в

- 1) XVI в.
- 2) XVII в.
- 3) XVIII в.
- 4) XIX в.

Ответ:

27 Проведение политики сплошной коллективизации было начато в

- 1) 1917 г.
- 2) 1921 г.
- 3) 1929 г.
- 4) 1933 г.

Ответ:

28 Начало массового освоения целинных земель относится к

- 1) 1930-м гг.
- 2) 1940-м гг.
- 3) 1950-м гг.
- 4) 1960-м гг.

Ответ:

29 Какое из перечисленных событий произошло в X в.?

- 1) поход войск хана Батые на русские земли
- 2) призвание варягов
- 3) введение уроков и погостов
- 4) создание Русской Правды

Ответ:

30 Укажите год основания города Санкт-Петербурга.

- 1) 1700 г.
- 2) 1703 г.
- 3) 1721 г.
- 4) 1725 г.

Ответ:

31 Какое из перечисленных событий произошло позже остальных?

- 1) принятие Декрета о земле
- 2) подписание Брестского мира с Германией
- 3) образование СССР
- 4) принятие первой конституции РСФСР

Ответ:

32 Начало экономических реформ А.Н. Косыгина относится к

- 1) 1950-м гг.
- 2) 1960-м гг.
- 3) 1970-м гг.
- 4) 1980-м гг.

Ответ:

33 В каком веке произошли Соляной и Медный бунты в Москве?

- 1) XV в. 2) XVI в. 3) XVII в. 4) XVIII в.

Ответ:

34 В каком году была издана жалованная грамота дворянству?

- 1) 1714 г.
- 2) 1731 г.
- 3) 1762 г.
- 4) 1785 г.

Ответ:

35 К какому периоду относится осуществление в Советской России политики «военного коммунизма»?

- 1) 1914–1917 гг.
- 2) 1918–1921 гг.
- 3) 1921–1929 гг.
- 4) 1930–1932 гг.

Ответ:

36 Какое из перечисленных событий произошло в 1988 г.?

- 1) принятие XIX конференцией КПСС резолюции «О демократизации советского общества и реформе политической системы»
- 2) создание Совета экономической взаимопомощи (СЭВ)
- 3) подписание Беловежского соглашения о создании СНГ
- 4) принятие XXII съездом КПСС Программы построения коммунизма в СССР

Ответ:

37 К какому веку относится правление московского князя Василия III?

- 1) XIV в.
- 2) XV в.
- 3) XVI в.
- 4) XVII в.

Ответ:

38 Какое из перечисленных событий произошло раньше остальных?

- 1) взятие крепости Измаил
- 2) сражение у о. Гренгам
- 3) Полтавская битва
- 4) Чесменское сражение

Ответ:

39 В каком году было принято постановление ЦК ВКП(б) «О мерах по ликвидации кулачества как класса»?

- 1) 1921 г.
- 2) 1925 г.
- 3) 1930 г.
- 4) 1937 г.

Ответ:

40 Какое из перечисленных событий произошло в конце 1940-х гг.?

- 1) строительство Берлинской стены
- 2) разрыв отношений между СССР и Югославией
- 3) Карибский кризис
- 4) создание Лиги Наций

Ответ:

41 Походы князя Игоря на Византию состоялись в

- 1) 907 и 911 гг.
- 2) 941 и 944 гг.
- 3) 970 и 972 гг.
- 4) 988 и 990 гг.

Ответ:

42 В каком году был опубликован императорский манифест о создании в России Государственной думы?

- 1) 1810 г.
- 2) 1861 г.
- 3) 1905 г.
- 4) 1917 г.

Ответ:

43 В каком году был образован СССР?

- 1) 1917 г.
- 2) 1919 г.
- 3) 1922 г.
- 4) 1925 г.

Ответ:

44 Какое из перечисленных событий произошло раньше других?

- 1) созыв XIX партконференции
- 2) учреждение должности Президента СССР
- 3) созыв I Съезда народных депутатов СССР
- 4) преобразование СНК СССР в Совет Министров СССР

Ответ:

45 В каком веке была составлена Правда Ярослава?

- 1) IX в.
- 2) X в.
- 3) XI в.
- 4) XII в.

Ответ:

46 Какое из перечисленных событий произошло в 1815 г.?

- 1) подписание Тильзитского мира между Россией и Францией
- 2) создание Священного союза
- 3) начало Заграничного похода русской армии
- 4) сражение при Малоярославце

Ответ:

47 Какое из перечисленных событий произошло позже остальных?

- 1) Генуэзская конференция
- 2) принятие первой Конституции СССР
- 3) вступление СССР в Лигу Наций
- 4) выход статьи «Год великого перелома»

Ответ:

48 Что из перечисленного произошло в конце 1960-х гг.?

- 1) роспуск Организации Варшавского договора
- 2) советско-китайский пограничный конфликт на о. Даманский
- 3) подписание Заключительного акта Совещания по безопасности и сотрудничеству в Европе
- 4) первый визит руководителя СССР в США

Ответ:

49 Из-за длительного сопротивления монгольскому войску «злым городом» был назван

- 1) Смоленск
- 2) Владимир
- 3) Новгород
- 4) Козельск

Ответ:

50 В ходе какой войны произошло сражение под Нарвой?

- 1) Семилетней
- 2) Северной
- 3) Отечественной 1812 г.
- 4) русско-турецкой 1877–1878 гг.

Ответ:

51 Что из перечисленного произошло в годы Гражданской войны?

- 1) проведение реформ П.А. Столыпина
- 2) восстание матросов на броненосце «Князь Потёмкин-Таврический»
- 3) отречение от престола императора Николая II
- 4) восстание Чехословацкого корпуса

Ответ:

52 Какое из перечисленных событий связано с внешней политикой СССР в годы «перестройки»?

- 1) ввод войск Организации Варшавского договора в Чехословакию
- 2) подписание Договора о прекращении ядерных испытаний в атмосфере, в космосе и под водой
- 3) подписание Заключительного акта Совещания по безопасности и сотрудничеству в Европе
- 4) вывод советских войск из Афганистана

Ответ:

53 Что из перечисленного было осуществлено Избранной радой?

- 1) введение патриаршества в России
- 2) принятие Соборного уложения
- 3) создание коллегий
- 4) ограничение местничества на период военных действий

Ответ:

54 Общим в программных документах Северного и Южного обществ декабристов было положение об (о)

- 1) установлении республики
- 2) освобождении крестьян от крепостной зависимости
- 3) делении всех угодий на общественные и частные земли
- 4) установлении имущественного ценза для участия в выборах

Ответ:

55 Как назывались центральные органы государственного управления, существовавшие в СССР в 1920–1930-х гг.?

- 1) наркоматы
- 2) ликбезы
- 3) совнархозы
- 4) министерства

Ответ:

56 Апрельский (1985 г.) пленум ЦК КПСС принял решение о

- 1) либерализации цен
- 2) приватизации государственной собственности
- 3) разработке нового союзного договора
- 4) курсе на ускорение научно-технического прогресса

Ответ:

57 В каком городе в период политической раздробленности Руси сложилась республиканская форма правления, при которой высшим органом управления являлось вече?

- 1) в Москве
- 2) в Новгороде
- 3) во Владимире
- 4) в Рязани

Ответ:

58 Какой документ был создан в эпоху дворцовых переворотов?

- 1) Табель о рангах
- 2) Соборное уложение
- 3) Судебник
- 4) Кондиции

Ответ:

59 Укажите характерную черту политики «военного коммунизма».

- 1) свобода рыночной торговли
- 2) деятельность иностранных концессий
- 3) активное развитие товарно-денежных отношений
- 4) введение всеобщей трудовой повинности

Ответ:

60 Авария на Чернобыльской АЭС произошла в период

- 1) последних лет руководства страной И.В. Сталина
- 2) «оттепели»
- 3) «застоя»
- 4) «перестройки»

Ответ:

61 Как называлось собрание свободных жителей древнерусского города?

- 1) рада
- 2) вервь
- 3) собор
- 4) вече

Ответ:

62 Во время забастовки в 1905 г. в Иваново-Вознесенске рабочими был(-о) образован(-о)

- 1) Собрание русских фабрично-заводских рабочих
- 2) Совет рабочих уполномоченных
- 3) Комитет рабочей партии
- 4) профсоюз текстильных рабочих

Ответ:

63 Одним из важнейших изменений, произошедших в Русской Православной Церкви в 1917 г., стало

- 1) восстановление патриаршества
- 2) закрытие всех монастырей
- 3) восстановление роли Святейшего Синода как государственного учреждения
- 4) создание особого министерства, управлявшего делами церкви в стране

Ответ:

64 Какой из перечисленных нормативных актов был принят в СССР в годы «перестройки»?

- 1) постановление «Об освоении целинных и залежных земель»
- 2) постановление «О мерах по борьбе с космополитизмом»
- 3) Закон «Об индивидуальной трудовой деятельности»
- 4) Закон «О преобразовании Совета Народных Комиссаров в Совет Министров СССР»

Ответ:

65 Как называется порядок замещения высших должностей в зависимости от знатности рода?

- 1) местничество
- 2) земщина
- 3) кормление
- 4) рекрутчина

Ответ:

66 В эпоху дворцовых переворотов по приглашению Верховного тайного совета на престол взошла

- 1) Екатерина I
- 2) Анна Иоанновна
- 3) Елизавета Петровна
- 4) Екатерина II

Ответ:

67 Какое из перечисленных событий произошло в 1917 г.?

- 1) создание Временного правительства
- 2) начало осуществления политики «военного коммунизма»
- 3) роспуск Учредительного собрания
- 4) образование СССР

Ответ:

68 Укажите характерную черту политики «ускорения», провозглашённой М.С. Горбачёвым в середине 1980-х гг.

- 1) ликвидация машинно-тракторных станций и передача техники колхозам
- 2) ликвидация совнархозов и восстановление отраслевых министерств
- 3) утверждение курса на ускорение научно-технического прогресса
- 4) свёртывание ваучерной приватизации

Ответ:

69 В первой половине XVI в. крестьяне, которые проживали на государственных землях, назывались

- 1) владельческие
- 2) черносошные
- 3) дворцовые
- 4) приписные

Ответ:

70 Какие населённые пункты соединила между собой первая железная дорога, построенная в 1837 г.?

- 1) Петербург и Царское Село
- 2) Петербург и Гатчину
- 3) Петербург и Москву
- 4) Москву и Тверь

Ответ:

71 Что из перечисленного предусматривалось политикой «военного коммунизма»?

- 1) разрешение аренды мелких и средних предприятий
- 2) введение уравнительной оплаты труда
- 3) замена продразвёрстки продналогом
- 4) свобода рыночной торговли

Ответ:

72 Какое из перечисленных событий связано с внешней политикой СССР в годы «оттепели»?

- 1) подписание Декларации о прекращении «холодной войны»
- 2) вывод советских войск из Афганистана
- 3) подписание Заключительного акта Совещания по безопасности и сотрудничеству в Европе
- 4) подписание Договора о прекращении ядерных испытаний в атмосфере, в космосе и под водой

Ответ:

73 Разорение Москвы ханом Тохтамышем произошло в княжение

- 1) Александра Невского
- 2) Ивана Калиты
- 3) Дмитрия Донского
- 4) Василия III

Ответ:

74 Как назывались учреждённые в 1802 г. центральные органы государственного управления России?

- 1) коллегии
- 2) приказы
- 3) земства
- 4) министерства

Ответ:

75 Правительство, созданное в октябре 1917 г., называлось

- 1) Совет Министров
- 2) Совет труда и обороны
- 3) Совет Народных Комиссаров
- 4) Государственный совет

Ответ:

76 Что из перечисленного было предпринято в рамках рыночных реформ, проведённых в России в 1990-х гг.?

- 1) создание совнархозов
- 2) либерализация цен
- 3) введение госприёмки на предприятиях
- 4) национализация собственности

Ответ:

77 В первой четверти XIV в. московские князья вели борьбу за лидерство в Северо-Восточной Руси с

- 1) Новгородом
- 2) Тверью
- 3) Смоленском
- 4) Полоцком

Ответ:

78 II Отделение собственной Его Императорского Величества канцелярии, возглавляемое М.М. Сперанским, занималось

- 1) созданием военных поселений
- 2) цензурным надзором
- 3) подготовкой и проведением реформы государственной деревни
- 4) составлением Свода законов Российской империи

Ответ:

79 В статье И.В. Сталина «Головокружение от успехов» высказывалось мнение, что

- 1) необходимо выполнить пятилетку в четыре года
- 2) нельзя проводить индустриализацию за счёт ресурсов села
- 3) необходимо ускорить темпы коллективизации
- 4) не следует насаждать колхозы силой

Ответ:

80 В Древнерусском государстве полудьем называли

- 1) штраф, взимаемый в пользу князя
- 2) соседскую общину
- 3) сбор дани князем
- 4) народное собрание

Ответ:

81 В царствование Александра I в состав Российского государства вошли

- 1) Хива и Бухара
- 2) Финляндия и Бессарабия
- 3) Эстляндия и Лифляндия
- 4) Правобережная Украина и Белоруссия

Ответ:

82 Новая экономическая политика (нэп) предусматривала

- 1) передачу в частную собственность крупных промышленных предприятий
- 2) выход на внешний рынок частных торговцев
- 3) создание бирж труда
- 4) выкуп сельскохозяйственных угодий в частную собственность

Ответ:

83 Что из перечисленного было новым для общественно-политической жизни России в 1990-х гг.?

- 1) провозглашение курса на обновление социализма
- 2) созыв Съездов народных депутатов
- 3) выборы Президента РФ
- 4) установление однопартийной системы

Ответ:

84 Каким из перечисленных документов впервые в общегосударственном масштабе крестьянский выход был ограничен двухнедельным периодом – по неделе до и после Юрьева дня?

- 1) Русская Правда
- 2) Судебник Ивана III
- 3) Судебник Ивана IV
- 4) Соборное уложение

Ответ:

85 Что из перечисленного было характерно для экономического развития России в начале XX в.?

- 1) многоукладность экономики
- 2) отказ от попыток привлечения иностранного капитала в экономику
- 3) невмешательство государства в экономику страны
- 4) низкие темпы роста промышленного производства

Ответ:

86 В основу Договора об образовании СССР был положен принцип

- 1) автономизации
- 2) унитарности
- 3) федерализма
- 4) конфедеративности

Ответ:

87 Что из перечисленного относится к экономическим реформам периода «перестройки» в СССР?

- 1) разрешение индивидуальной трудовой деятельности
- 2) усиление директивного планирования экономики
- 3) осуществление приватизации государственных предприятий
- 4) либерализация цен

Ответ:

88 Чернобыльская авария произошла, когда руководителем СССР был

- 1) Н.С. Хрущёв
- 2) Л.И. Брежнев
- 3) Ю.В. Андропов
- 4) М.С. Горбачёв

Ответ:

89 Укажите князя, в годы правления которого был заключён первый письменный договор между Русью и Византийской империей.

- 1) Ярослав Мудрый
- 2) Олег Вещий
- 3) Святослав Игоревич
- 4) Владимир Святой

Ответ:

90 Какая форма правления должна была установиться в России согласно «Русской правде» П.И. Пестеля?

- 1) конституционная монархия
- 2) самодержавная монархия
- 3) республика
- 4) сословно-представительная монархия

Ответ:

91 В ходе конфликта на реке Халхин-Гол советские и японские войска вели боевые действия на территории

- 1) Монголии
- 2) Китая
- 3) Кореи
- 4) Японии

Ответ:

92 Что из перечисленного характеризует внешнюю политику российского руководства в первом десятилетии XXI в.?

- 1) постоянное участие Президента РФ в работе «Большой восьмёрки»
- 2) организация деятельности Совета экономической взаимопомощи
- 3) начало переговоров об ограничении ядерных вооружений
- 4) вступление России в Совет Европы

Ответ:

93 К политике Ивана Калиты относится

- 1) прекращение выплаты дани Орде
- 2) назначение первого русского митрополита
- 3) борьба за лидерство в Северо-Восточной Руси с Тверью
- 4) издание нового свода законов

Ответ:

94 Какое из перечисленных событий относится к правлению Елизаветы Петровны?

- 1) издание манифеста о вольности дворянской
- 2) отмена внутренних таможенных пошлин
- 3) роспуск Верховного тайного совета
- 4) введение подушной подати

Ответ:

95 Укажите одну из характерных черт новой экономической политики (нэп).

- 1) развитие стахановского движения
- 2) создание предприятий с привлечением иностранных инвестиций
- 3) введение продразвёрстки
- 4) передача в частную собственность крупных промышленных предприятий

Ответ:

96 На Апрельском (1985 г.) пленуме ЦК КПСС было принято решение о необходимости

- 1) разработки программы приватизации государственной собственности
- 2) введения многопартийности в СССР
- 3) подготовки нового Союзного договора
- 4) существенного ускорения социально-экономического развития общества

Ответ:

97 Кто из перечисленных исторических лиц возглавил Второе ополчение, освободившее Москву от интервентов в 1612 г.?

- 1) К. Минин и Д. Пожарский
- 2) И. Болотников и И. Заруцкий
- 3) Д. Трубецкой и П. Ляпунов
- 4) В. Шуйский и В. Скопин-Шуйский

Ответ:

98 Конструкторами советских боевых самолётов были

- 1) С.В. Ильюшин и А.С. Яковлев
- 2) Г.С. Шпагин и В.А. Дегтярёв
- 3) И.В. Курчатов и С.П. Королёв
- 4) М.И. Кошкин и Ж.Я. Котин

Ответ:

Кто из перечисленных лиц являлся предводителем народного движения, происходившего в период Смутного времени в России?

99 1) К.А. Булавин 2) Е.И. Пугачёв 3) С.Т. Разин 4) И.И. Болотников

Ответ:

100 В работе научной станции «Северный полюс-1» участвовал

- 1) В.П. Чкалов
- 2) И.В. Курчатов
- 3) С.П. Королёв
- 4) И.Д. Папанин

Ответ:

101 Укажите, кто командовал русскими войсками в сражениях Северной войны.

- 1) П.А. Румянцев
- 2) П.С. Нахимов
- 3) Б.П. Шереметев
- 4) Ф.Ф. Ушаков

Ответ:

102 Должность народного комиссара по военным и морским делам в годы Гражданской войны занимал

- 1) И.В. Сталин
- 2) С.М. Будённый
- 3) Л.Д. Троцкий
- 4) Н.И. Бухарин

Ответ:

103 Г.А. Спиридов и Ф.Ф. Ушаков –

- 1) полководцы во время правления Петра I
- 2) флотоводцы во время правления Петра I
- 3) полководцы во время Семилетней войны
- 4) флотоводцы во время правления Екатерины II

Ответ:

104 Кто из перечисленных государственных деятелей был Председателем Совета Народных Комиссаров в 1917–1924 гг.?

- 1) В.И. Ленин
- 2) А.И. Рыков
- 3) В.М. Молотов
- 4) И.В. Сталин

Ответ:

105 Укажите имя князя, ко времени правления которого относится объединение Киева и Новгорода под единой княжеской властью.

- 1) Рюрик
- 2) Олег
- 3) Ярослав Мудрый
- 4) Владимир Мономах

Ответ:

106 Концепция «развитого социализма» была выдвинута в СССР в период руководства

- 1) Б.Н. Ельцина
- 2) Н.С. Хрущёва
- 3) Л.И. Брежнева
- 4) М.С. Горбачёва

Ответ:

107 Выдающимся русским флотоводцем во второй половине XVIII в. был

- 1) В.А. Корнилов
- 2) М.П. Лазарев
- 3) П.С. Нахимов
- 4) Ф.Ф. Ушаков

Ответ:

108 Выдающимися полководцами Великой Отечественной войны были

- 1) Г.К. Жуков, А.М. Василевский
- 2) М.Н. Тухачевский, М.В. Фрунзе
- 3) В.И. Чапаев, С.С. Каменев
- 4) А.А. Брусилов, Ф.Э. Дзержинский

Ответ:

109 Назовите правителя России, при котором действовало неофициальное правительство, получившее название Избранная рада.

- 1) Иван IV
- 2) Пётр II
- 3) Павел I
- 4) Александр I

Ответ:

110 Конструкторами советских танков были

- 1) С.В. Ильюшин и А.С. Яковлев
- 2) Г.С. Шпагин и В.А. Дегтярёв
- 3) И.В. Курчатов и С.П. Королёв
- 4) М.И. Кошкин и Ж.Я. Котин

Ответ:

111 Инициатором подачи петиции императору Николаю II 9 января 1905 г. был

- 1) В.М. Чернов
- 2) А.И. Гучков
- 3) Г.А. Гапон
- 4) П.Н. Милуков

Ответ:

112 В переговорах о выходе России из Первой мировой войны в Брест-Литовске участвовал

- 1) В.И. Ленин
- 2) Ю.О. Мартов
- 3) И.В. Сталин
- 4) Л.Д. Троцкий

Ответ:

113 Во время русско-турецкой войны 1877–1878 гг. на Балканах успешно действовали части русских войск под командованием

- 1) А.П. Ермолова
- 2) М.Д. Скобелева
- 3) В.А. Корнилова
- 4) И.Ф. Паскевича

Ответ:

114 Советско-германский Пакт о ненападении со стороны СССР подписал

- 1) М.М. Литвинов
- 2) И.В. Сталин
- 3) В.М. Молотов
- 4) Г.К. Жуков

Ответ:

115 Кто из перечисленных лиц был противником церковных реформ патриарха Никона?

- 1) Сергей Радонежский
- 2) протопоп Аввакум
- 3) патриарх Филарет
- 4) Иосиф Волоцкий

Ответ:

116 Кто из перечисленных лиц являлся лидером партии эсеров, в январе 1918 г. был избран председателем Учредительного собрания?

- 1) Г.В. Плеханов
- 2) Н.С. Чхеидзе
- 3) П.Н. Милоков
- 4) В.М. Чернов

Ответ:

117 План преобразования государственных органов Российской империи, в основе которого лежал принцип разделения властей, в начале XIX в. разработал

- 1) А.А. Аракчеев
- 2) М.М. Сперанский
- 3) А.Х. Бенкендорф
- 4) П.Д. Киселёв

Ответ:

118 План создания единого Советского государства на принципах автономизации был предложен

- 1) В.И. Лениным
- 2) И.В. Сталиным
- 3) А.В. Луначарским
- 4) Л.Д. Троцким

Ответ:

119 Укажите церковного деятеля, с которым связана реформа, приведшая к появлению старообрядчества.

- 1) митрополит Макарий
- 2) митрополит Филипп
- 3) патриарх Филарет
- 4) патриарх Никон

Ответ:

120 В период руководства СССР Л.И. Брежнева была разработана концепция

- 1) «развитого социализма»
- 2) «нового политического мышления»
- 3) «мирного сосуществования»
- 4) «построения социализма в одной отдельно взятой стране»

Ответ:

121 Что из перечисленного явилось одним из итогов Смуты начала XVII в.?

- 1) формирование приказной системы в Московском государстве
- 2) введение правила Юрьева дня, ограничившего сроки крестьянских переходов от одного владельца к другому
- 3) укрепление международного положения Российского государства
- 4) воцарение династии Романовых

Ответ:

122 Влияние европейских революций 1848–1849 гг. на внутреннюю политику императора Николая I проявилось в

- 1) либерализации судебной системы Российской империи
- 2) усилении цензурного гнёта
- 3) даровании конституций Финляндии и Польше
- 4) создании фабричного законодательства

Ответ:

123 В результате осуществления политики индустриализации в 1930-х гг.

- 1) экономика СССР по объёмам производства промышленной продукции достигла уровня 1913 г.
- 2) в СССР была создана атомная энергетика
- 3) уменьшился импорт промышленного оборудования
- 4) резко сократилась численность городского населения

Ответ:

124 Что из перечисленного было результатом народных волнений в Москве в 1648 г.?

- 1) учреждение опричнины
- 2) отмена медных денег
- 3) созыв Земского собора
- 4) ограничение времени перехода крестьян к другому владельцу Юрьевым днём

Ответ:

125 Что из перечисленного стало одним из последствий поражения России в Крымской войне?

- 1) осознание руководством страны необходимости проведения реформ
- 2) начало создания военных поселений
- 3) начало промышленного переворота в России
- 4) отказ от осуществления уже разработанных проектов реформ государственного строя

Ответ:

126 Левые эсеры вышли из состава советского правительства в результате

- 1) отказа большевиков от проведения политики «военного коммунизма»
- 2) подписания Брестского мира с Германией
- 3) отказа большевиков от идеи мировой революции
- 4) стремления большевиков наладить дипломатические отношения со странами Западной Европы

Ответ:

127 Что из перечисленного было одним из следствий крещения Руси?

- 1) походы Руси на Византию
- 2) укрепление власти киевского князя
- 3) начало военных столкновений Руси с печенегами
- 4) разгром Хазарского каганата

Ответ:

128 Что из перечисленного явилось одним из итогов внутренней политики Александра II?

- 1) освобождение крестьян от крепостной неволи
- 2) присоединение к России Финляндии
- 3) законодательное оформление привилегий дворянства
- 4) отмена внутренних таможенных пошлин

Ответ:

129 Что из перечисленного было одним из результатов свержения монархии в 1917 г.?

- 1) установление двоевластия
- 2) выход России из Первой мировой войны
- 3) ограничение монархии
- 4) приход к власти большевиков

Ответ:

130 В результате восстания древлян в 945 г.

- 1) произошёл распад Древнерусского государства
- 2) Киев потерял статус центра Древнерусского государства
- 3) погиб киевский князь Игорь
- 4) произошло крещение Руси

Ответ:

131 Что из перечисленного стало непосредственным результатом проведённого русской армией Тарутинского марш-манёвра в 1812 г.?

- 1) обеспечение условий для увеличения численности армии
- 2) разгром основных сил армии Наполеона
- 3) организация осады Смоленска русской армией
- 4) срыв плана Наполеона отступить по Смоленской дороге

Ответ:

132 Культ личности И.В. Сталина привёл к

- 1) массовой реабилитации политических заключённых
- 2) появлению оппозиционных партий
- 3) массовым репрессиям
- 4) развитию демократии в стране

Ответ:

133 Что из перечисленного относится к последствиям монгольского нашествия в XIII в. на Русь?

- 1) начало распада Древнерусского государства на самостоятельные земли
- 2) активизация культурных связей Руси со странами Европы
- 3) прекращение княжеских усобиц
- 4) ослабление хозяйственных связей северо-восточных земель с южными и юго-западными русскими землями

Ответ:

134 В результате проведённой С.Ю. Витте в конце XIX в. финансовой реформы

- 1) из денежного оборота были изъяты золотые монеты
- 2) вырос приток иностранного капитала в российскую экономику
- 3) выпуск бумажных ассигнаций был полностью прекращён
- 4) произошло резкое падение уровня благосостояния населения

Ответ:

135 Что из перечисленного относится к причинам перехода советского руководства к новой экономической политике (нэп) в 1921 г.?

- 1) угроза установления военной диктатуры генерала Л.Г. Корнилова
- 2) недовольство крестьян действиями продотрядов
- 3) начало Гражданской войны
- 4) установление дипломатических отношений со странами Запада

Ответ:

136 Что из перечисленного было следствием осуществления политики опричнины при Иване IV?

- 1) окончательное освобождение Руси от ордынской зависимости
- 2) экономическое разорение страны
- 3) формирование сословно-представительной монархии
- 4) учреждение патриаршества

Ответ:

137 Одним из итогов правления Александра II было

- 1) присоединение к Российской империи Крыма
- 2) присоединение к Российской империи Средней Азии
- 3) вхождение в состав Российской империи Царства Польского
- 4) получение Россией выхода к Балтийскому морю

Ответ:

138 В 1939 г. СССР был исключён из Лиги Наций из-за

- 1) отказа советского правительства признать Мюнхенское соглашение
- 2) отказа поддержать Чехословакию во время Судетского кризиса
- 3) оказания помощи республиканцам в ходе гражданской войны в Испании
- 4) войны против Финляндии

Ответ:

139 Что из перечисленного стало результатом реформ патриарха Никона?

- 1) учреждение патриаршества
- 2) создание Святейшего Синода
- 3) ликвидация монастырского землевладения
- 4) изменение церковных обрядов

Ответ:

140 Стремление ближайших сподвижников Петра I сохранить власть в своих руках после его смерти стало причиной

- 1) передачи власти юному Петру II
- 2) возведения на престол Елизаветы Петровны
- 3) учреждения Правительствующего сената
- 4) создания Верховного тайного совета

Ответ:

141 Что из перечисленного стало одним из следствий проведения нэпа?

- 1) ликвидация большевистской монополии на власть
- 2) достижение Советским Союзом довоенных показателей Российской империи в области промышленного производства
- 3) ликвидация государственной монополии внешней торговли
- 4) установление экономической блокады России капиталистическими странами

Ответ:

142 Что из перечисленного явилось следствием процесса укрепления и централизации Российского государства в конце XV – начале XVI в.?

- 1) появление постоянно действующих центральных органов управления
- 2) роспуск Боярской думы
- 3) прекращение деятельности Земских соборов
- 4) введение бессрочного сыска крестьян

Ответ:

143 Что из перечисленного было результатом судебной реформы 1864 г.?

- 1) ликвидация мировых судов
- 2) отмена телесных наказаний для крестьян
- 3) создание военно-полевых судов
- 4) учреждение суда присяжных

Ответ:

144 Исключение СССР из Лиги Наций стало следствием

- 1) участия советских военных специалистов в гражданской войне в Испании
- 2) начала войны между СССР и Финляндией
- 3) вступления Красной армии на территорию Польши
- 4) участия СССР в вооружённом конфликте на реке Халхин-Гол

Ответ:

145 Что из перечисленного было одной из причин объединения русских земель вокруг Москвы в XIV–XV вв.?

- 1) отсутствие альтернативных центров объединения
- 2) отсутствие разрушений в Москве во время Батыева нашествия
- 3) политика московских князей
- 4) образование Великого княжества Литовского

Ответ:

146 Причина поражения выступления декабристов на Сенатской площади была связана с

- 1) серьёзными разногласиями в рядах Южного общества
- 2) отъездом руководителей тайных обществ за границу
- 3) несовпадением реального хода событий с планом восстания
- 4) отсутствием офицеров в рядах восставших

Ответ:

147 Что из перечисленного было одним из следствий проведения индустриализации и коллективизации в СССР?

- 1) развитие многоукладной экономики
- 2) антибольшевистское восстание моряков Кронштадта
- 3) увеличение численности мелких и средних предпринимателей
- 4) достижение социальной однородности сельского населения

Ответ:

148 Что из перечисленного явилось одной из причин народного восстания в Москве в 1648 г.?

- 1) налоговая политика правительства
- 2) введение ассигнаций
- 3) отмена урочных лет
- 4) ликвидация «белых слобод»

Ответ:

149 В результате проведённой С.Ю. Витте в конце XIX в. финансовой реформы

- 1) были введены в обращение ассигнации
- 2) повысился уровень инфляции
- 3) из денежного оборота были изъяты золотые монеты
- 4) укрепилась денежная система страны

Ответ:

150 Что из перечисленного стало последствием коллективизации, осуществлённой в СССР в 1930-х гг.?

- 1) значительное улучшение уровня жизни крестьян
- 2) увеличение доли зажиточного крестьянства в структуре населения деревни
- 3) сведение к минимуму частного сектора в сельском хозяйстве
- 4) повсеместное создание агрогородов

Ответ:

151 Какое из перечисленных событий, явлений стало одним из следствий реформы патриарха Никона?

- 1) перенос резиденции главы Русской Православной Церкви из Владимира в Москву
- 2) учреждение Святейшего Синода
- 3) отмена кормлений
- 4) церковный раскол

Ответ:

152 Что из перечисленного было причиной Северной войны?

- 1) обострение борьбы между Англией, Францией и их союзниками за гегемонию в Европе
- 2) стремление России получить выход к Балтийскому морю
- 3) заключение Россией союза с Францией и Англией
- 4) угроза со стороны набирающей военную мощь Пруссии

Ответ:

153 В результате осуществления политики индустриализации

- 1) СССР вышел на первое место в мире по производству продукции на душу населения
- 2) была проведена либерализация цен
- 3) уменьшился импорт промышленного оборудования
- 4) увеличился приток иностранного капитала в страну

Ответ:

154 Что из перечисленного явилось следствием процесса укрепления и централизации Российского государства в конце XV – начале XVI в.?

- 1) прекращение деятельности Земских соборов
- 2) учреждение Святейшего Синода
- 3) полное закрепощение крестьян
- 4) появление постоянно действующих центральных органов управления

Ответ:

155 Что из перечисленного явилось одним из результатов внутренней политики Екатерины II?

- 1) введение свободы предпринимательства
- 2) замена коллегий министерствами
- 3) составление и издание Свода законов Российской империи
- 4) отмена подушного налогообложения

Ответ:

156 Что из перечисленного было одной из причин принятия курса на коллективизацию сельского хозяйства?

- 1) осознание советским руководством необходимости перехода к рыночной экономике
- 2) обеспечение опережающего в сравнении с промышленностью развития сельского хозяйства
- 3) стремление найти средства для финансирования индустриализации
- 4) необходимость создания условий для развития фермерских хозяйств

Ответ:

157 Расположите в хронологической последовательности следующие события. Укажите ответ в виде последовательности цифр выбранных элементов.

- 1) введение заповедных лет
- 2) создание свода законов Русская Правда
- 3) отмена кормлений
- 4) установление бессрочного сыска беглых крестьян

Ответ:

158 Расположите в хронологическом порядке следующие события. Укажите ответ в виде последовательности цифр выбранных элементов.

- 1) создание группы «Освобождение труда»
- 2) принятие Программы и Устава РСДРП
- 3) образование партий кадетов и октябристов
- 4) создание «Союза борьбы за освобождение рабочего класса»

Ответ:

159 Расположите в хронологическом порядке следующие события. Укажите ответ в виде последовательности цифр выбранных элементов.

- 1) вхождение Поволжья в состав России
- 2) присоединение Пскова к Москве
- 3) вхождение Западной Сибири в состав России
- 4) присоединение Твери к Москве

Ответ:

160 Расположите в хронологическом порядке следующие события. Укажите ответ в виде последовательности цифр выбранных элементов.

- 1) вывод советских войск из Афганистана
- 2) катастрофа на Чернобыльской АЭС
- 3) избрание Б.Н. Ельцина Президентом РСФСР
- 4) выступление ГКЧП

Ответ:

161 Расположите в хронологическом порядке следующие события. Укажите ответ в виде последовательности цифр выбранных элементов.

- 1) поход князя Олега на Царьград
- 2) начало составления Русской Правды
- 3) установление уроков и погостов
- 4) первое упоминание Москвы в летописи

Ответ:

162 Расположите в хронологическом порядке следующие события. Укажите ответ в виде последовательности цифр выбранных элементов.

- 1) начало Северной войны
- 2) присоединение к России Казанского ханства
- 3) переход русских войск под командованием А.В. Суворова через Альпы
- 4) присоединение к Российской империи Крыма

Ответ:

163 Расположите в хронологической последовательности исторические события. Запишите цифры, которыми обозначены исторические события, в правильной последовательности в таблицу.

- 1) битва на реке Воже
- 2) присоединение Новгородской земли к Московскому княжеству
- 3) первое упоминание Москвы в летописях
- 4) битва на реке Неве

Ответ:

164 Расположите в хронологическом порядке следующие события. Укажите ответ в виде последовательности цифр выбранных элементов.

- 1) провозглашение России империей
- 2) учреждение опричнины
- 3) издание манифеста о вольности дворянской
- 4) принятие Соборного уложения

Ответ:

165 Расположите в хронологической последовательности исторические события. Запишите цифры, которыми обозначены исторические события, в правильной последовательности в таблицу.

- 1) начало княжения Владимира Мономаха в Киеве
- 2) междоусобная война в Московском княжестве
- 3) присоединение к Московскому государству Новгородской земли
- 4) нашествие хана Батые на русские земли

Ответ:

166 Расположите в хронологической последовательности исторические события. Запишите цифры, которыми обозначены исторические события, в правильной последовательности в таблицу.

- 1) учреждение Верховного тайного совета
- 2) Гангутское сражение
- 3) издание жалованной грамоты дворянству
- 4) учреждение министерств

Ответ:

167 Расположите в хронологической последовательности исторические события. Запишите цифры, которыми обозначены исторические события, в правильной последовательности в таблицу.

- 1) заключение первого письменного русско-византийского договора
- 2) Любечский съезд князей
- 3) разгром Хазарского каганата
- 4) окончательный разгром печенегов

Ответ:

--	--	--	--

168 Расположите в хронологической последовательности исторические события. Запишите цифры, которыми обозначены исторические события, в правильной последовательности в таблицу.

- 1) учреждение Государственного совета Российской империи
- 2) заключение «Вечного мира» с Речью Посполитой
- 3) создание Верховного тайного совета
- 4) издание манифеста о незыблемости самодержавия

Ответ:

--	--	--	--

169 Установите соответствие между полководцами и битвами, в которых они сражались: к каждому элементу первого столбца подберите соответствующий элемент из второго столбца.

ПОЛКОВОДЦЫ

- А) А.В. Суворов
- Б) Ф.Ф. Ушаков
- В) П.А. Румянцев

БИТВЫ

- 1) сражение у мыса Калиакрия
- 2) битва на реке Рымник
- 3) Гангутское сражение
- 4) сражение при Кагуле

Запишите в таблицу выбранные цифры под соответствующими буквами.

Ответ:

А	Б	В	Г

170 Установите соответствие между событиями XVII в. и историческими деятелями, с которыми связаны эти события: к каждому элементу первого столбца подберите соответствующий элемент из второго столбца.

СОБЫТИЯ

- А) изгнание из Москвы польских интервентов
- Б) Соляной бунт
- В) Стрелецкий бунт 1682 г.

ИСТОРИЧЕСКИЕ ДЕЯТЕЛИ

- 1) И.А. Хованский
- 2) В.И. Шуйский
- 3) К. Минин
- 4) Б.И. Морозов

Запишите в таблицу выбранные цифры под соответствующими буквами.

Ответ:

А	Б	В	Г

171 Установите соответствие между монархами и событиями, которые относятся к периоду их правления: к каждому элементу первого столбца подберите соответствующий элемент из второго столбца.

МОНАРХИ

- А) Пётр III
- Б) Николай I
- В) Елизавета Петровна

СОБЫТИЯ

- 1) ликвидация внутренних таможенных барьеров
- 2) отмена обязательной службы для дворян
- 3) начало железнодорожного строительства
- 4) появление первых мануфактур

Запишите в таблицу выбранные цифры под соответствующими буквами.

Ответ:

А	Б	В	Г

- 172** Установите соответствие между сражениями и войнами, в ходе которых они произошли: к каждому элементу первого столбца подберите соответствующий элемент из второго столбца.

СРАЖЕНИЯ

ВОЙНЫ

- | | |
|---------------------------------|--|
| А) Синопское морское сражение | 1) Отечественная война 1812 г. |
| Б) оборона Шипкинского перевала | 2) Крымская война |
| В) Смоленское сражение | 3) русско-иранская война 1804–1813 гг. |
| | 4) русско-турецкая война 1877–1878 гг. |

Запишите в таблицу выбранные цифры под соответствующими буквами.

Ответ:

А	Б	В	Г

- 173** Установите соответствие между монархами России и территориями, вошедшими в состав России в эпоху их правления: к каждому элементу первого столбца подберите соответствующий элемент из второго столбца.

МОНАРХИ РОССИИ

ТЕРРИТОРИИ, ВОШЕДШИЕ
В СОСТАВ РОССИИ

- | | |
|-----------------------|--|
| А) Алексей Михайлович | 1) Балтийское побережье от Выборга до Риги |
| Б) Пётр I | 2) Среднее и Нижнее Поволжье |
| В) Екатерина II | 3) Левобережная Украина |
| | 4) Северное Причерноморье |

Запишите в таблицу выбранные цифры под соответствующими буквами.

Ответ:

А	Б	В	Г

- 174** Установите соответствие между правителями России и событиями, связанными с их деятельностью: к каждому элементу первого столбца подберите соответствующий элемент из второго столбца.

ПРАВИТЕЛИ РОССИИ

СОБЫТИЯ

- | | |
|----------------|---|
| А) Иван III | 1) присоединение к Московскому государству Твери |
| Б) Василий III | 2) присоединение к Московскому государству Пскова |
| В) Иван IV | 3) покорение Астраханского ханства |
| | 4) присоединение к России Левобережной Украины |

Запишите в таблицу выбранные цифры под соответствующими буквами.

Ответ:

А	Б	В	Г

- 175** Установите соответствие между событиями внешней политики и годами, в которые они произошли: к каждому элементу первого столбца подберите соответствующий элемент из второго столбца.

СОБЫТИЯ

ГОДЫ

- | | |
|---|------------|
| А) исключение СССР из Лиги Наций | 1) 1918 г. |
| Б) подписание Брестского мира с Германией | 2) 1922 г. |
| В) создание СЭВ | 3) 1939 г. |
| | 4) 1949 г. |

Запишите в таблицу выбранные цифры под соответствующими буквами.

Ответ:

А	Б	В	Г

- 176** Установите соответствие между направлениями общественной мысли и их представителями: к каждому элементу первого столбца подберите соответствующий элемент из второго столбца.

НАПРАВЛЕНИЯ ОБЩЕСТВЕННОЙ МЫСЛИ	ПРЕДСТАВИТЕЛИ
А) славянофильство	1) А.С. Хомяков
Б) анархизм	2) Г.В. Плеханов
В) марксизм	3) П.И. Пестель
	4) М.А. Бакунин

Запишите в таблицу выбранные цифры под соответствующими буквами.

Ответ:

А	Б	В	Г

- 177** Установите соответствие между событиями XX в. и годами, когда происходили эти события: к каждому элементу первого столбца подберите соответствующий элемент из второго столбца.

СОБЫТИЯ XX в.	ГОДЫ
А) ликвидация частной собственности на землю	1) 1906 г.
Б) переход к новой экономической политике (нэп)	2) 1917 г.
В) начало аграрной реформы П.А. Столыпина	3) 1921 г.
	4) 1928 г.

Запишите в таблицу выбранные цифры под соответствующими буквами.

Ответ:

А	Б	В

- 178** Установите соответствие между событиями и руководителями страны, с деятельностью которых эти события непосредственно связаны: к каждому элементу первого столбца подберите соответствующий элемент из второго столбца.

СОБЫТИЯ	РУКОВОДИТЕЛИ СТРАНЫ
А) создание Общественной палаты РФ	1) Н.С. Хрущёв
Б) подписание Беловежского соглашения	2) Л.И. Брежнев
В) подписание Хельсинкских соглашений	3) Б.Н. Ельцин
	4) В.В. Путин

Запишите в таблицу выбранные цифры под соответствующими буквами.

Ответ:

А	Б	В

- 179** Установите соответствие между событиями и московскими князьями, в период правления которых произошли эти события: к каждому элементу первого столбца подберите соответствующий элемент из второго столбца.

СОБЫТИЯ	КНЯЗЬЯ
А) начало похода Ермака в Сибирь	1) Иван Калита
Б) битва на реке Шелони	2) Дмитрий Донской
В) разорение Москвы ханом Тохтамышем	3) Иван III
	4) Иван IV

Запишите в таблицу выбранные цифры под соответствующими буквами.

Ответ:

А	Б	В

- 180** Установите соответствие между событиями и участниками этих событий: к каждой позиции первого столбца подберите соответствующую позицию из второго столбца.

СОБЫТИЯ	УЧАСТНИКИ
А) военный конфликт СССР и Японии на реке Халхин-Гол	1) З.П. Ляпунов
Б) свержение царя Василия Шуйского	2) П.Г. Каховский
В) восстание на Сенатской площади в Санкт-Петербурге	3) А.И. Желябов
	4) Г.К. Жуков

Запишите в таблицу выбранные цифры под соответствующими буквами.

Ответ:

А	Б	В

- 181** Какие из данных терминов появились в период 1953–1964 гг. Найдите в приведённом ниже списке два термина и запишите цифры, под которыми они указаны.

- 1) Берлинская стена
- 2) «план Маршалла»
- 3) «железный занавес»
- 4) «Ленинградское дело»
- 5) антипартийная групп»

Ответ:

--	--

182 Какие из данных событий произошли в период 1945–1953 гг.? Найдите в приведённом ниже списке два события и запишите цифры, под которыми они указаны.

- 1) начало осуществления «плана Маршалла»
- 2) образование Организации Североатлантического пакта (НАТО)
- 3) подписание Договора о прекращении ядерных испытаний в атмосфере, в космосе и под водой
- 4) ввод советских войск в Афганистан
- 5) возведение Берлинской стены

Ответ:

183 Какие реформы были осуществлены в эпоху великих реформ 1860–1870 гг.? Найдите в приведённом ниже списке две реформы и запишите цифры, под которыми они указаны.

- 1) губернская
- 2) министерская
- 3) церковная
- 4) земская
- 5) судебная

Ответ:

184 Что из перечисленного характеризует восстание под предводительством Е.И. Пугачёва? Найдите в приведённом ниже списке две характеристики и запишите цифры, под которыми они указаны.

- 1) совместное выступление крестьян и работных людей
- 2) широкое участие в движении представителей дворянства
- 3) ограниченность территории восстания районами проживания казачества
- 4) многонациональный состав участников восстания
- 5) в результате было отменено крепостное право в России

Ответ:

185 Что из перечисленного относится к особенностям устройства Новгородской земли в период с 1130-х по 1470-е гг.? Выберите две особенности и запишите цифры, под которыми они указаны.

- 1) Князь возглавлял городскую администрацию.
- 2) Власть князя передавалась по наследству, но была ограничена сильным боярством.
- 3) Верховной властью обладало вече.
- 4) Князя приглашало народное собрание.
- 5) Князь являлся крупным земельным собственником в Новгородской земле.

Ответ:

186 Кто из перечисленных военачальников был участником Отечественной войны 1812 г.? Найдите в приведённом ниже списке двух участников этой войны и запишите цифры, под которыми они указаны.

- 1) М.Д. Скобелев
- 2) П.С. Нахимов
- 3) П.И. Багратион
- 4) Н.Н. Раевский
- 5) А.М. Горчаков

Ответ:

187 Какие из перечисленных событий относятся к XVI в.? Найдите в приведённом ниже списке два события и запишите цифры, под которыми они указаны.

- 1) создание стрелецкого войска
- 2) заключение «Вечного мира» с Речью Посполитой
- 3) учреждение патриаршества в России
- 4) полная отмена местничества
- 5) введение подушной подати

Ответ:

188 Какие из перечисленных направлений содержала аграрная реформа П.А. Столыпина? Найдите в приведённом ниже списке два направления и запишите цифры, под которыми они указаны.

- 1) укрепление крестьянской общины
- 2) переселение малоземельных крестьян за Урал
- 3) ограничение использования в сельском хозяйстве наёмного труда
- 4) принудительное отчуждение помещичьих земель
- 5) поддержка деятельности Крестьянского банка

Ответ:

189 Кто из перечисленных военачальников командовал фронтами в Берлинской наступательной операции? Найдите в приведённом списке двух военачальников и запишите цифры, под которыми они указаны.

- 1) К.К. Рокоссовский
- 2) А.М. Василевский
- 3) И.Д. Черняховский
- 4) И.С. Конев
- 5) Н.Ф. Ватутин

Ответ:

190 Какие из перечисленных событий относятся ко времени правления Алексея Михайловича? Найдите в приведённом ниже списке два события и запишите цифры, под которыми они указаны.

- 1) присоединение к России Поволжья
- 2) учреждение опричнины
- 3) отмена урочных лет
- 4) введение заповедных лет
- 5) присоединение к России Левобережной Украины

Ответ:

191 Кто из перечисленных исторических лиц был участником выступления на Сенатской площади 14 декабря 1825 г.? Найдите в приведённом списке двух участников выступления и запишите цифры, под которыми они указаны.

- 1) К.Ф. Рылеев
- 2) П.И. Пестель
- 3) П.Г. Каховский
- 4) С.П. Трубецкой
- 5) Н.М. Муравьёв

Ответ:

192 Что из перечисленного относится к периоду правления Петра I? Выберите два ответа и запишите в таблицу цифры, под которыми они указаны.

- 1) введение подушной подати
- 2) учреждение Правительствующего сената
- 3) отделение церкви от государства
- 4) отмена местничества
- 5) создание III отделения императорской канцелярии

Ответ:

193 Запишите термин, о котором идёт речь.

«Политическая ситуация, сложившаяся в 1917 г., характеризующаяся одновременным существованием власти Временного правительства и Советов рабочих, солдатских и крестьянских депутатов».

Ответ: _____.

194 Запишите термин, о котором идёт речь.

«Процесс передачи государственного имущества Российской Федерации в частную собственность, который осуществлялся в России с начала 1990-х гг.»

Ответ: _____.

195 Запишите термин, о котором идёт речь.
«Передача частным предпринимателям во временное управление государственных предприятий. Характерна для периода проведения новой экономической политики (нэп)».

Ответ: _____.

196 Запишите понятие, о котором идёт речь.
«Собрание представителей всех слоёв населения (кроме крепостных крестьян) Российского государства для обсуждения политических, экономических и административных вопросов, существовавшее с XVI в.»

Ответ: _____.

197 Запишите понятие, о котором идёт речь.
«Свод законов Российского государства, созданный в 1497 г. в целях систематизации норм права».

Ответ: _____.

198 Запишите термин, о котором идёт речь.
«Высший нормативный акт государства. Впервые в истории России принят в качестве Основного закона в 1918 г.»

Ответ: _____.

199 Запишите название, о котором идёт речь.
«Под этим названием вошла в историю делегация, направленная Петром I в Европу в целях создания союза европейских государств против Османской империи».

Ответ: _____.

200 Запишите пропущенную аббревиатуру.
«В 1920 г. был разработан план _____ – первый единый государственный перспективный план развития народного хозяйства Советского государства на основе электрификации страны».

Ответ: _____.

201 Запишите термин, о котором идёт речь.
Одно из выборных должностных лиц, избиравшихся в Новгородской республике XII–XV вв. на вече; руководитель городского ополчения, в функции которого также входило осуществление контроля над сбором налогов и разбирательство в спорах по торговым делам.

Ответ: _____.

202 Запишите термин, о котором идёт речь.
Документ, изданный министром иностранных дел Временного правительства П.Н. Милюковым, разъяснявший союзным державам цели России в Первой мировой войне. Издание данного документа вызвало массовые протестные выступления населения Петрограда, что стало одной из причин отставки первого состава Временного правительства.

Ответ: _____.

203 Запишите термин, о котором идёт речь.
Название небольших по размеру произведений изобразительного искусства, которыми иллюстрировались рукописные книги в Древней Руси.

Ответ: _____.

204 Запишите термин, о котором идёт речь.
«Ежегодные погашения крестьянами части денежной суммы, выплаченной правительством за получение в собственность крестьянских наделов в ходе Крестьянской реформы 1861 г.»

Ответ: _____.

205 Ниже приведён перечень терминов. Все они, за исключением одного, относятся к продовольственной политике Советского государства в период Гражданской войны.

- 1) мешочки; 2) продотряды; 3) продразвёрстка; 4) реквизиции; 5) пятилетка.

Найдите и укажите порядковый номер термина, «выпадающего» из данного ряда.

Ответ: _____.

206 Ниже приведён перечень терминов. Все они, за исключением одного, непосредственно связаны с периодом правления Ивана IV.

- 1) Земский собор; 2) Соборное уложение; 3) Избранная рада; 4) опричное войско; 5) Стоглавый собор.

Найдите и запишите порядковый номер термина, «выпадающего» из данного ряда.

Ответ: _____.

207 Ниже приведён перечень терминов. Все они, за исключением одного, обозначают государственные органы Российской империи XVIII–XIX вв.

- 1) Правительствующий сенат; 2) Верховный тайный совет; 3) Государственная дума; 4) Государственный совет; 5) Военная коллегия.

Найдите и запишите порядковый номер термина, «выпадающего» из данного ряда.

Ответ: _____.

208 Ниже приведён перечень терминов. Все они, за исключением одного, обозначают социальные группы населения, существовавшие в СССР.

- 1) служащие; 2) рабочие; 3) купечество; 4) крестьянство; 5) пенсионеры.

Найдите и запишите порядковый номер термина, «выпадающего» из данного ряда.

Ответ: _____.

209 Ниже приведён перечень терминов. Все они, за исключением одного, относятся к периоду 1990-х гг.

- 1) приватизация; 2) дефолт; 3) ваучер; 4) национализация; 5) денежная реформа.

Найдите и запишите порядковый номер термина, «выпадающего» из данного ряда.

Ответ: _____.

210 Ниже приведён перечень терминов. Все они, за исключением одного, непосредственно связаны с освоением Сибири в XVII в.

- 1) ясак; 2) баскак; 3) казак; 4) острог; 5) землепроходцы.

Найдите и запишите порядковый номер термина, «выпадающего» из данного ряда.

Ответ: _____.

211 Ниже приведён перечень терминов. Все они, за исключением одного, относятся к периоду 1990-х гг.

- 1) референдум; 2) приватизация; 3) дефолт; 4) продотряды; 5) ваучер.

Найдите и запишите порядковый номер термина, «выпадающего» из данного ряда.

Ответ: _____.

212 Ниже приведён перечень терминов. Все они, за исключением одного, относятся к событиям периода 1964–1985 гг.

- 1) ограниченный суверенитет; 2) развитой социализм; 3) диссидентство; 4) либерализация цен; 5) разрядка.

Найдите и запишите порядковый номер термина, «выпадающего» из данного ряда.

Ответ: _____.

213 Ниже приведён перечень названий, терминов. Все они, за исключением одного, непосредственно связаны с событиями, явлениями, происходившими в СССР в период 1945–1953 гг.

1) *машинно-тракторные станции*; 2) *карточная система распределения товаров*; 3) *«враг народа»*; 4) *совхоз*; 5) *импичмент*.

Найдите и запишите порядковый номер названия (термина), «выпадающего» из данного ряда.

Ответ: _____.

214 Ниже приведён перечень терминов. Все они, за исключением одного, характеризуют общественное движение в Российской империи во второй половине XIX в.

1) *террор*; 2) *хождение в народ*; 3) *разночинцы*; 4) *марксисты*; 5) *«левые коммунисты»*.

Найдите и запишите порядковый номер термина, «выпадающего» из данного ряда.

Ответ: _____.

215 Ниже приведён перечень терминов, названий. Все они, за исключением одного, относятся к периоду 1930-х гг.

1) *колхоз*; 2) *пятилетка*; 3) *Реввоенсовет*; 4) *Госплан*; 5) *раскулачивание*.

Найдите и запишите порядковый номер термина (названия), «выпадающего» из данного ряда.

Ответ: _____.

216 Ниже приведён перечень терминов. Все они, за исключением одного, относятся к событиям, явлениям истории России XVII в.

1) *Соборное уложение*; 2) *стрельцы*; 3) *кормление*; 4) *подворная подать*; 5) *полки «иноземного строя»*.

Найдите и запишите порядковый номер термина, «выпадающего» из данного ряда.

Ответ: _____.

Система оценивания заданий раздела 2.1

Каждое из заданий раздела 2.1 части II считается выполненным верно, если ответ записан в той форме, которая указана в инструкции по выполнению задания.

Полный правильный ответ на задания 1–168, 184–215 оценивается 1 баллом; неполный, неверный ответ или его отсутствие – 0 баллов.

Полный правильный ответ на задания 169–183 оценивается 2 баллами; если допущена одна ошибка (в том числе отсутствует одна из цифр или имеется одна лишняя цифра) – 1 балл; если допущено две и более ошибки (в том числе отсутствуют две и более цифры или имеются две и более лишние цифры) или ответ отсутствует – 0 баллов.

№ задания	Ответ
1	3
2	3
3	4
4	1
5	1
6	3
7	2
8	2
9	4
10	4
11	1
12	3
13	3
14	4
15	3
16	4
17	2
18	3
19	1
20	2
21	3
22	1
23	2
24	2
25	1
26	3
27	3

28	3
29	3
30	2
31	3
32	2
33	3
34	4
35	2
36	1
37	3
38	3
39	3
40	2
41	2
42	3
43	3
44	4
45	3
46	2
47	3
48	2
49	4
50	2
51	4
52	4
53	4
54	2
55	1
56	4
57	2
58	4
59	4
60	4
61	4
62	2
63	1
64	3
65	1
66	2
67	1
68	3
69	2
70	1

71	2
72	4
73	3
74	4
75	3
76	2
77	2
78	4
79	4
80	3
81	2
82	3
83	3
84	2
85	1
86	3
87	1
88	4
89	2
90	3
91	1
92	1
93	3
94	2
95	2
96	4
97	1
98	1
99	4
100	4
101	3
102	3
103	4
104	1
105	2
106	3
107	4
108	1
109	1
110	4
111	3
112	4
113	2

114	3
115	2
116	4
117	2
118	2
119	4
120	1
121	4
122	2
123	3
124	3
125	1
126	2
127	2
128	1
129	1
130	3
131	1
132	3
133	4
134	2
135	2
136	2
137	2
138	4
139	4
140	4
141	2
142	1
143	4
144	2
145	3
146	3
147	4
148	1
149	4
150	3
151	4
152	2
153	3
154	4
155	1
156	3

157	2314
158	1423
159	4213
160	2134
161	1324
162	2143
163	3412
164	2413
165	1423
166	2134
167	1342
168	2314
169	214
170	341
171	231
172	241
173	314
174	123
175	314
176	142
177	231
178	432
179	432
180	412
181	15
182	12
183	45
184	14
185	34
186	34
187	13
188	25
189	14
190	35
191	13
192	12
193	двоевластие
194	приватизация
195	аренда
196	Земский собор
197	Судебник
198	Конституция
199	Великое посольство

200	ГОЭЛРО
201	тысяцкий
202	нота Милюкова; нота
203	миниатюры
204	выкупные платежи
205	5
206	2
207	3
208	3
209	4
210	2
211	4
212	4
213	5
214	5
215	3
216	3

Раздел 2.2

Задания на работу с историческими источниками

1 Прочтите отрывок из сочинения историка и укажите князя, о котором идёт речь.
«Этот князь дал сражение меченосцам на льду Чудского озера, убил у них четыреста рыцарей, взял в плен пятьдесят и истребил много чуди. Эта битва названа Ледовым побоищем. Он торжественно вошёл в Новгород, ведя за собой скованных пленников. Гроссмейстер боялся, что князь подступит к самой Риге, и обратился за помощью к Дании. Новгородский князь, довольный избавлением Пскова, заключил мир, по которому немцы отказались от некоторых владений».

- 1) Юрий Долгорукий
- 2) Александр Невский
- 3) Иван Калита
- 4) Дмитрий Донской

Ответ:

2 Прочтите отрывок из сочинения историка и укажите императрицу, в период правления которой произошли описанные события.
«Трудно было себе представить, как будет работать такая толпа разношерстных и разномастных депутатов, поэтому довольно быстро была предпринята попытка разделить их на комиссии: дирекционную (имевшую исполнительную власть, она же имела право учреждать частные кодификационные комиссии по конкретным вопросам); экспедиционную комиссию (редакторская работа); подготовительную комиссию (она должна была прочитывать указы с мест, сводить их воедино и представлять дальше). Всё возглавлял маршал собрания. Комиссия большая, где работали все, просуществовала весьма недолго: уже в декабре она была переведена в Петербург, в феврале начала работу, а ещё год спустя, осенью, Комиссия по составлению Уложения была вообще закрыта под предлогом войны с Турцией, куда многие депутаты должны были отправиться в качестве офицеров. Частные комиссии проработали ещё много лет».

- 1) Екатерина I
- 2) Анна Иоанновна
- 3) Елизавета Петровна
- 4) Екатерина II

Ответ:

3 Прочтите отрывок из сочинения историка и укажите государственного деятеля, о котором идёт речь.
«Как решился [он] выступить с докладом о Сталине, зная, что подавляющее большинство делегатов будет против разоблачения? Откуда он почерпнул такое мужество и такую уверенность в конечном успехе? То был один из редчайших случаев в истории, когда политический руководитель поставил на карту свою личную власть и даже жизнь во имя высших общественных целей. В составе послесталинского руководства не было ни одного деятеля, который решился бы выступить с подобным докладом о культе личности. Надо было обладать [его] натурой...»

- 1) А.Н. Косыгин
- 2) М.С. Горбачёв
- 3) Н.С. Хрущёв
- 4) Ю.В. Андропов

Ответ:

4 Прочтите отрывок из труда историка и укажите правителя, о котором идёт речь.
«Царь Фёдор умер. С его кончиной пресеклась династия Ивана Калиты, правившая Московским государством на протяжении трёхсот лет. Влияние правителя пошатнулось. Знать мирилась с его властью, пока он вершил дела именем законного царя. Однако в глазах великих бояр он оставался не более чем худородным временщиком.
Претензии правителя на обладание короной вызвали негодование потомков великих и удельных князей. "Временщик" не состоял в кровном родстве с царём и потому не имел никаких формальных прав на трон».

- 1) Василий Шуйский
- 2) Борис Годунов
- 3) Фёдор Мстиславский
- 4) Михаил Романов

Ответ:

5 Прочтите отрывок из исторического документа и укажите государственного деятеля – инициатора закона, о котором идёт речь
«Закон не ломает общины в тех местах, где хлебопашество имеет второстепенное значение, где существуют другие условия, которые делают общину лучшим способом использования земли.
Личный собственник, по смыслу закона, властен распоряжаться своей землёй, властен закрепить за собой свою землю, властен требовать отвода отдельных участков её к одному месту; он может прикупить себе земли, может заложить её в Крестьянском банке, может, наконец, продать её».

- 1) С.Ю. Витте
- 2) П.А. Столыпин
- 3) В.К. Плеве
- 4) М.Т. Лорис-Меликов

Ответ:

6 Прочтите отрывок из Указа и укажите руководителя страны, который подписал этот Указ.
«В соответствии с постановлением Съезда народных депутатов РСФСР постановляю:
1. Осуществить переход на применение свободных рыночных цен и тарифов, складывающихся под влиянием спроса и предложения, на продукцию производственно-технического назначения, товары народного потребления, работы и услуги.
2. Государственные закупки сельскохозяйственной продукции также производить по свободным (рыночным) ценам...»

- 1) Б.Н. Ельцин
- 2) М.С. Горбачёв
- 3) К.У. Черненко
- 4) Д.А. Медведев

Ответ:

7 Прочтите отрывок из сочинения историка и укажите год, когда происходили описываемые события.

«Узнав о формировании второго земского ополчения в Нижнем Новгороде и не имея возможности противодействовать этому, обеспокоенные интервенты обратились к патриарху Гермогену с требованием, чтобы он осудил подобное начинание. Патриарх отказался это сделать. Более того, по свидетельству летописца, он в сердцах проклял обратившихся к нему по поручению Гонсевского московских бояр как "окаянных изменников". Тогда его и начали "морить голодом". Вскоре Гермоген умер».

- 1) 1380 г.
- 2) 1480 г.
- 3) 1612 г.
- 4) 1812 г.

Ответ:

8 Прочтите отрывок из исторического документа и укажите монарха, которому он был адресован.

«Боже сохрани, чтоб не сделалось вместо одного самодержавного государя десяти самовластных и сильных фамилий; и так мы, шляхетство, совсем пропадём и принуждены будем горше прежнего идолопоклонничать и милости у всех искать, да ещё и сыскать будет трудно, понеже ныне между главными (т.е. "верховниками"), как бы согласно ни было, однако ж впредь, конечно, у них без раздоров не будет; и так один будет милостив, а другие, на того злобствуя, вредить и губить станут...»

- 1) Анна Иоанновна
- 2) Елизавета Петровна
- 3) Пётр III
- 4) Павел I

Ответ:

9 Прочтите отрывок из исторического источника и укажите государственного деятеля, о котором идёт речь.

«Вернувшись в свою квартиру на Староконошленном переулке Арбата, он сказал домашним: "Ну вот, теперь я в отставке. Может быть, самое главное из того, что я сделал, заключается в том, что они смогли меня снять простым голосованием, тогда как Сталин велел бы их всех арестовать"».

- 1) Ю.В. Андропов
- 2) Л.Д. Троцкий
- 3) Г.М. Маленков
- 4) Н.С. Хрущёв

Ответ:

10 Прочтите отрывок из сочинения историка и укажите век, когда князь, о котором идёт речь, правил в Киеве.

«Наверное, можно сказать, что по масштабу своей личности он уступал и своему отцу Владимиру Мономаху, и своему сыну Андрею Боголюбскому. Возможно, его биография менее интересна, более однообразна, скучна, однопланова: военные походы и подготовка к ним составляют её преимущественное содержание, и почти всё сводится к борьбе за Киев. Но масштаб личности не всегда напрямую определяет значимость той или иной фигуры, её место в истории».

- 1) IX в.
- 2) X в.
- 3) XI в.
- 4) XII в.

Ответ:

11 Прочтите отрывок из воспоминаний современника и укажите императора, о котором идёт речь.

«Целые два месяца Россия была в каком-то странном смущении и оцепенении; не только руки отпадали от всякого дела, но даже ум и чувства как будто омертвели. Покойного государя любили, обожали освобождённые крестьяне и бывшие дворовые люди; душевно были к нему расположены и преданы в обществе все лично его знавшие и те, которые много слышали о его сердечной доброте, о его всегдашнем расположении ко всякому доброму делу».

- 1) Пётр I
- 2) Павел I
- 3) Александр II
- 4) Николай II

Ответ:

12 Прочтите отрывок из труда экономиста и укажите период, к которому относятся описанные явления.

«Однако в последние 12–15 лет в развитии народного хозяйства СССР стала обнаруживаться тенденция к заметному снижению темпов роста национального дохода. Если в восьмой пятилетке среднегодовой прирост его составлял 7,5% и в девятой – 5,8%, то в десятой он снизился до 3,8%, а в первые годы одиннадцатой составил около 2,5% (при росте населения страны в среднем на 0,8% в год). Это не обеспечивает ни требуемых темпов роста жизненного уровня народа, ни интенсивного технического перевооружения производства».

- 1) последние годы руководства СССР И.В. Сталина
- 2) «оттепель»
- 3) «застой»
- 4) «перестройка»

Ответ:

13 Прочтите отрывок из сочинения историка и укажите событие, о котором идёт речь.

«Ахмат повторил свой набег. Оставив вправо от себя верховья Оки, он пришёл на её приток, в пограничные между Москвой и Литвой места. Но он не получил никакой помощи от Литвы, а Москва встретила его сильной ратью. Здесь и стали друг против друга два войска – оба в нерешимости начать прямой бой. Русский князь велел готовить столицу к осаде, отправил свою жену на север и сам приехал с <...> к Москве, боясь как [ордынцев], так и своих родных братьев. Они были с ним в ссоре и внушали ему подозрение в том, что изменят в решительную минуту».

- 1) битва на реке Калке
- 2) сражение у села Молоди
- 3) «стояние» на реке Угре
- 4) битва на реке Шелони

Ответ:

14 Прочтите отрывок из работы историка и укажите императрицу, о которой идёт речь.

«Заговор против Петра III возник в среде гвардейцев, а она стала его вдохновительницей и знаменем. Самыми близкими ей среди гвардейцев стали братья Орловы. Перелом произошёл 27 июня 1762 г. Был арестован один из тех, кто был осведомлён о подробностях заговора. Последствия могли стать катастрофическими. Необходимо было действовать, и немедленно. Воспользовавшись отсутствием Петра III в столице, при восторженных криках толпы, ядро которой составляли гвардейские полки, она провозглашена была императрицей, и ей принесена была присяга. Петра заставили отречься».

- 1) Анна Иоанновна
- 2) Елизавета Петровна
- 3) Екатерина I
- 4) Екатерина II

Ответ:

15 Прочтите отрывок из труда современного историка и укажите десятилетие, в котором произошли описанные события.

«В связи с изменениями в Восточной Европе Черчилль в своей речи в Фултоне (США), порицая "экспансионистскую политику Советского Союза", говорил, что "в настоящий момент от Штеттина на Балтийском море и до Триеста на Адриатическом море через весь материк опустился железный занавес". Начинаясь "холодная война"... Но выдвижение социалистических сил происходило не только за пресловутым "железным занавесом".

...В ноябре того же года состоялись выборы в Национальное собрание Франции. В результате выборов Коммунистическая партия Франции получила наибольшее число депутатских мандатов».

- 1) 1940-е гг.
- 2) 1950-е гг.
- 3) 1960-е гг.
- 4) 1970-е гг.

Ответ:

16 Прочтите отрывок из документа и назовите князя, о котором идёт речь.

«Заложил же и церковь святой Софии... затем церковь на Золотых воротах... И стала при нём вера христианская расширяться... Отец его, Владимир, землю... крещением просветил, [сын] же засеял книжными словами сердце верных людей, а мы пожинаем, ученье принимая книжное. ...Ещё при жизни дал он наставление сыновьям своим: "И если будете жить в любви между собой, Бог будет в вас и покорит вам врагов..." И так разделил он между ними города...»

- 1) Андрей Боголюбский
- 2) Ярослав Мудрый
- 3) Владимир Мономах
- 4) Дмитрий Донской

Ответ:

17 Прочтите отрывок из исторического документа и укажите год его создания.
«Ст. 2. Судебная власть... распространяется на лица всех сословий и на все дела, как гражданские, так и уголовные.

Ст. 3. Мировой судья есть власть единоличная, съезды мировых судей, окружные суды, судебные палаты и Сенат суть установления коллегиальные...»

- 1) 1803 г.
- 2) 1832 г.
- 3) 1864 г.
- 4) 1887 г.

Ответ:

18 Прочтите отрывок из заявления руководителя страны и укажите год, когда это заявление было сделано.

«Руководители Белоруссии, РСФСР и Украины заключили соглашение о создании Содружества Независимых Государств. Для меня как Президента страны главным критерием оценки этого документа является то, насколько он отвечает интересам граждан. ...Соглашение прямо объявляет о прекращении существования Союза ССР».

- 1) 1986 г.
- 2) 1988 г.
- 3) 1991 г.
- 4) 1993 г.

Ответ:

19 Прочтите отрывок из исторического источника и укажите год, когда произошли описанные события.

«Благочестивый же царь и великий князь Иван Васильевич всей Руси самодержец вышел из нового города Свияжска и пошёл к Казани со всем своим воинством. И начал он переправляться через великую реку Волгу, расположился на Царёвом луге и приказал выгружать из судов наряд и строить мосты, и плести туры. В то же время приехал на службу к государю из Казани Комай-мурза и с ним семь человек. Государь же приказал катить к городу туры и орудия...

...Из орудий же из всех из пушек и из огнестрельных пищалей – беспрестанно день и ночь били по городу, так что были слышны этот сильный грохот и сотрясение за многие версты от города.

...Город же взял благочестивый царь и государь в год <...> месяца октября во второй день – день памяти священномучеников Киприана и Устинии, в воскресенье, в пятом часу дня».

- 1) 1478 г.
- 2) 1514 г.
- 3) 1552 г.
- 4) 1583 г.

Ответ:

20 Прочтите отрывок из исторического документа и определите время его создания.

«35) Взыскания, налагаемые за неисправную работу, за прогул и за нарушение порядка, в общей их сложности не должны превышать одной трети заработка, действительно причитающегося рабочему к установленному сроку расплаты.

39) Взыскания с рабочих обращаются на составление особого при каждой фабрике капитала, состоящего в заведывании фабричного управления. Капитал этот может быть употребляем с разрешения инспекции только на удовлетворение нужд самих рабочих согласно правилам, издаваемым министром финансов по соглашению с министром внутренних дел».

- 1) 1820-е гг.
- 2) 1840-е гг.
- 3) 1860-е гг.
- 4) 1880-е гг.

Ответ:

21 Прочтите отрывок из заявления ТАСС и назовите руководителя СССР, при котором оно было сделано.

«Советское правительство и правительства союзных стран – Народной Республики Болгарии, Венгерской Народной Республики, Германской Демократической Республики, Польской Народной Республики, исходя из принципов нерасторжимой дружбы и сотрудничества и в соответствии с существующими договорными обязательствами, решили пойти навстречу упомянутой просьбе об оказании братскому чехословацкому народу необходимой помощи.

Советские воинские подразделения вместе с воинскими подразделениями названных союзных стран 21 августа вступили на территорию Чехословакии. Они будут незамедлительно выведены из ЧССР, как только создавшаяся угроза завоеваниям социализма в Чехословакии, угроза безопасности стран социалистического содружества будет устранена и законные власти сочтут, что в дальнейшем пребывании там этих воинских подразделений нет необходимости».

- 1) И.В. Сталин
- 2) Н.С. Хрущёв
- 3) Л.И. Брежнев
- 4) Ю.В. Андропов

Ответ:

22 Прочтите отрывок из исторического источника и укажите царя, в чьё правление был создан приказ, о котором идёт речь.

«Приказ Тайных дел, а в нём сидит диак, да подьячих с 10 человек, и ведают они и делают дела всякие царские, тайные и явные, и в тот Приказ бояре и думные люди не входят и дел не ведают, кроме самого царя...

А устроен тот Приказ при нынешнем царе, для того, чтоб его царская мысль и дела исполнились все по его хотению, а бояре б и думные люди о том ни о чём не ведали».

- 1) Борис Годунов
- 2) Василий Шуйский
- 3) Михаил Фёдорович
- 4) Алексей Михайлович

Ответ:

23 Прочтите отрывок из исторического источника и укажите год, когда произошли описанные события.

«Неприятель в бою этом потерял все суда, из них которые не были взорваны нашими бомбами во время сражения или сожжены самими турками...

Начальник эскадры Осман-паша и несколько офицеров сдались военнопленными. По окончании дела мною послан был парламентёр для объявления городовому начальству, что флот его императорского величества пришёл на Синопский рейд для истребления турецкого и что даже было приказано сколь возможно избегать стрельбы по городу, что и исполнено, сколько собственная оборона от выстрелов с батареей позволяла».

- 1) 1770 г.
- 2) 1791 г.
- 3) 1853 г.
- 4) 1904 г.

Ответ:

24 Прочтите отрывок из воспоминаний современника и укажите период, о котором идёт речь.

«Такой кампании ненависти и истерии я ещё не видел. У нас на глазах развёртывались одна за другой послевоенные идеологические кампании – против "низкопоклонства" перед Западом, "космополитизма", "уклонов" в литературе, кино, музыке, генетике, языкознании и других областях. Видели мы, как жестоко прорабатывают, "избивают" людей, ни в чём не повинных, – чтобы понять это, у большинства из нас уже хватало ума и опыта. И точно так же многие уже понимали, что в качестве научной истины провозглашают нелепости».

- 1) последние годы руководства страной И.В. Сталина
- 2) «оттепель»
- 3) «застой»
- 4) «перестройка»

Ответ:

25 Прочтите отрывок из письма церковного деятеля XVII в. и укажите великого государя, к которому он обращается.

«В прошлом... был я... поставлен на патриаршество, не своим изволом, а Божиим изволением и твоим, великого государя, и всего освящённого собора избранием...

И начал тебе, великому государю, досажать и раздражать и с патриаршества сошёл без твоего, великого государя, указу в Воскресенской монастырь...

И сих ради всех моих вин отвержен есмь в Ферапонтов монастырь в ссылку, и есть тому шестой год...»

- 1) Борис Годунов
- 2) Василий Шуйский
- 3) Михаил Фёдорович
- 4) Алексей Михайлович

Ответ:

26 Прочтите отрывок из воспоминаний современника и укажите императора, о котором идёт речь.

«Император сделал много, очень много. Его имя теперь стоит выше всех его предшественников. Он боролся во имя человеческих прав, во имя сострадания против хищной толпы закоснелых негодяев и сломил их. Этого ему ни народ русский, ни всемирная история не забудут. Из дали нашей ссылки мы приветствуем его именем, редко встречавшимся с самодержавием, не возбуждая горькой улыбки, – мы приветствуем его именем Освободителя».

- 1) Павел I
- 2) Александр II
- 3) Николай I
- 4) Николай II

Ответ:

27 Прочтите отрывок из доклада государственного деятеля и укажите год, когда этот доклад был сделан.

«В 6 часов 15 мин. 4 ноября с. г. советские войска приступили к проведению операции по наведению порядка и восстановлению народно-демократической власти в Венгрии. Действуя по заранее намеченному плану, наши части овладели основными опорными пунктами реакции в провинции, какими являлись Дьёр, Мишкольц, Дьёндьеш, Дебрецен, а также другими областными центрами Венгрии... В целях недопущения проникновения в Венгрию вражеской агентуры и бегства главарей мятежников из Венгрии нашими войсками заняты венгерские аэродромы и прочно перекрыты все дороги на австро-венгерской границе».

- 1) 1944 г.
- 2) 1956 г.
- 3) 1968 г.
- 4) 1979 г.

Ответ:

28 Прочтите отрывок из сочинения историка и укажите название исторического явления, о начале которого идёт речь.

«Делегация из духовенства и бояр отправилась в Александрову слободу. Прибывших под стражей как вражеских лазутчиков привели пред светлые царские очи. Царь повторил свои обвинения и после некоторого времени размышлений милостиво согласился вернуться на государство, но на следующих условиях: изменников казнить по своему усмотрению и выделить в стране территории с особым порядком управления».

- 1) междуцарствие
- 2) Семибоярщина
- 3) опричнина
- 4) стрелецкие бунты

Ответ:

29 Прочтите отрывок из сочинения историка и назовите царя, упоминаемого в тексте.

«14 декабря офицеры – члены тайного общества ещё затемно были в казармах и вели агитацию среди солдат. С горячей речью выступил перед солдатами Александр Бестужев. От присяги новому царю солдаты отказались и приняли решение идти на Сенатскую площадь. С развевающимся полковым знаменем, взяв боевые патроны и зарядив ружья, солдаты (...) полка первыми пришли на Сенатскую площадь. Во главе этих первых в истории России революционных войск шёл штабс-капитан лейб-гвардии драгунского полка Александр Бестужев».

- 1) Павел I
- 2) Александр I
- 3) Николай I
- 4) Александр II

Ответ:

30 Прочтите отрывок из Постановления Пленума ЦК КПСС и укажите руководителя страны в период, когда оно было принято.

«В течение последних 3–4 лет, когда партия взяла решительный курс на исправление ошибок и недостатков, порождённых культом личности, и ведёт успешную борьбу против ревизионистов марксизма-ленинизма как на международной арене, так и внутри страны, когда партией проведена большая работа по исправлению допущенных в прошлом извращений ленинской национальной политики, участники раскрытой теперь и полностью разоблачённой антипартийной группы постоянно оказывали прямое или косвенное противодействие этому курсу, одобренному XX съездом КПСС. Эта группа, по существу, пыталась противодействовать ленинскому курсу на мирное сосуществование между государствами с различными социальными системами, ослаблению международной напряжённости и установлению дружественных отношений СССР со всеми народами мира».

- 1) И.В. Сталин
- 2) Н.С. Хрущёв
- 3) Л.И. Брежнев
- 4) М.С. Горбачёв

Ответ:

- 31** Прочтите отрывок из источника и укажите век, к которому относятся описанные события.

«Пришла весть к великому князю, что царь Ахмат идёт в полном сборе, со своей Ордой и царевичами, да ещё в соглашении с королём Казимиром, ибо король и направил его против великого князя... Князь великий пошёл на Коломну и стал у Коломны, ...прочих князей и воевод – в иных местах, а других – по берегу.

Царь Ахмат, услышав, что князь великий стоит у Оки на берегу со всеми силами, пошёл к Литовской земле, обходя реку Оку и ожидая на помощь себе короля или его силы, и опытные проводники вели его к реке Угре на броды».

- 1) XII в.
- 2) XIII в.
- 3) XV в.
- 4) XVI в.

Ответ:

- 32** Прочтите отрывок из сочинения русского писателя и укажите название войны, о которой идёт речь.

«Дух в войсках выше всякого описания. Во время Древней Греции не было столько геройства. ...Корнилов, объезжая войска, говорил: "Нужно умирать, ребята, умрётё?" – и войска кричали: "Умрём, Ваше превосходительство. Ура!" ...Раненый солдат, почти умирающий, рассказывал мне, как они брали 24-ю французскую батарею и их не подкрепили; он плакал навзрыд. Рота моряков чуть не взбунтовалась за то, что их хотели сменить с батареи, на которой они простояли 30 дней под бомбами».

- 1) Отечественная 1812 г.
- 2) Семилетняя
- 3) Северная
- 4) Крымская

Ответ:

- 33** Прочтите отрывок из речи руководителя СССР и укажите этого руководителя.

«Я вместе с вами боролся с антипартийной группой. Вашу честность я ценю... Я пытался не иметь два поста, но ведь эти два поста дали мне вы! ...Уходя со сцены, повторяю: бороться с вами не собираюсь... Я сейчас переживаю и радуюсь, так как настал период, когда члены Президиума ЦК начали контролировать деятельность Первого секретаря ЦК и говорить полным голосом... Сегодняшнее заседание Президиума ЦК – это победа партии... Я благодарю вас за предоставляемую мне возможность уйти в отставку. Прошу вас, напишите за меня заявление, а я его подпишу. Я готов сделать всё во имя интересов партии... Я думал, что, может быть, вы сочтёте возможным учредить какой-либо почётный пост. Но я вас не прошу об этом. Где мне жить, решите сами. Я готов, если надо, уехать куда угодно. Ещё раз спасибо за критику, за совместную работу в течение ряда лет и за вашу готовность дать мне возможность уйти в отставку».

- 1) Н.С. Хрущёв
- 2) Л.И. Брежнев
- 3) Ю.В. Андропов
- 4) М.С. Горбачёв

Ответ:

- 34** Прочтите отрывок из письма церковного деятеля и назовите великого государя, к которому он обращается.

«В прошлом был я поставлен на патриаршество не своей волей, а Божиим изволением и твоим, великого государя, и всего освящённого собора избранием...

И начал тебе, великому государю, досажать и раздражать и с патриаршества сошёл без твоего, великого государя, указу в Воскресенской монастырь... И сих ради всех моих вин отправлен был в Ферапонтов монастырь в ссылку, и есть тому шестой год...»

- 1) Владимир Святославич
- 2) Иван III
- 3) Иван IV
- 4) Алексей Михайлович

Ответ:

- 35** Прочтите отрывок из исторического документа и укажите период, события которого описаны в отрывке.

«Истребление турецкого флота в Синопе эскадрой, состоящей под начальством моим, не может не оставить славной страницы в истории Черноморского флота. Изъявляю душевную мою признательность господам командирам кораблей и фрегатов за хладнокровное и точное постановление своих судов по данной диспозиции во время сильного неприятельского огня, равно и за непоколебимую их храбрость в продолжение самого дела, обращаюсь с признательностью к офицерам за неустрашимое и точное исполнение их своего долга, благодарю команды, которые дрались, как львы...»

- 1) 1790-е гг.
- 2) 1810-е гг.
- 3) 1850-е гг.
- 4) 1870-е гг.

Ответ:

- 36** Прочтите отрывок из воспоминаний современника и укажите год, когда произошли описываемые события.

«В течение нескольких дней велись интенсивные переговоры Москва – Вашингтон об условиях преодоления кризиса. При этом всё нужно было согласовать с Ф. Кастро, который не со всем соглашался. Необходимо было убедить его проявить большую гибкость. Ф. Кастро проявлял упорство в этом вопросе, за что Н.С. Хрущёв назвал его "бородатое дитя". Наконец была достигнута договорённость между СССР и США о том, что советские суда возвращаются домой, ракеты и ядерные боеголовки на Кубе не устанавливаются, блокада острова снимается».

- 1) 1949 г.
- 2) 1956 г.
- 3) 1962 г.
- 4) 1968 г.

Ответ:

Система оценивания заданий раздела 2.2

Каждое из заданий раздела 2.2 части II считается выполненным верно, если ответ записан в той форме, которая указана в инструкции по выполнению задания.

Полный правильный ответ на задания 1–36 оценивается 1 баллом; неполный, неверный ответ или его отсутствие – 0 баллов.

№ задания	Ответ
1	2
2	4
3	3
4	2
5	2
6	1
7	3
8	1
9	4
10	4
11	3
12	3
13	3
14	4
15	1
16	2
17	3
18	3
19	3
20	4
21	3
22	4
23	3
24	1
25	4
26	2
27	2
28	3
29	3
30	2
31	3
32	4
33	1
34	4
35	3
36	3

Раздел 2.3**Задания на знание основных фактов истории культуры России и на работу с иллюстративным материалом**

1 Укажите памятник древнерусской литературы, автором которого является монах Киево-Печерского монастыря Нестор.

- 1) «Слово о законе и благодати»
- 2) «Поучение детям»
- 3) «Повесть временных лет»
- 4) «Слово о полку Игореве»

Ответ:

2 Участие в создании серии плакатов «Окна РОСТА» принимал

- 1) Б.М. Кустодиев
- 2) С.Т. Конёнков
- 3) А.В. Щусев
- 4) В.В. Маяковский

Ответ:

3 Кто из перечисленных лиц создавал оборонительные сооружения в конце XVI – начале XVII в.?

- 1) Аристотель Фиораванти
- 2) Фёдор Конь
- 3) Симон Ушаков
- 4) Иван Фёдоров

Ответ:

4 Архитектурный стиль, господствовавший в советской архитектуре 1920-х – начале 1930-х гг., получил название

- 1) классицизм
- 2) модерн
- 3) конструктивизм
- 4) ампи́р

Ответ:

5 Какой из перечисленных памятников архитектуры был построен в XVI в.?

- 1) дом Пашкова в Москве
- 2) церковь Покрова в Филях
- 3) церковь Вознесения в Коломенском
- 4) Большой Кремлёвский дворец

Ответ:

6 Автором музыки к популярным советским кинофильмам 1930-х гг. был

- 1) А.А. Дейнека
- 2) С.В. Рахманинов
- 3) И.О. Дунаевский
- 4) В.Э. Мейерхольд

Ответ:

7 Автором теории «Москва – третий Рим» является

- 1) митрополит Макарий
- 2) патриарх Иов
- 3) монах Филофей
- 4) священник Сильвестр

Ответ:

8 Эпоха, когда руководителем СССР был Н.С. Хрущёв, получила своё образное название по одноимённой повести, написанной

- 1) И.Г. Эренбургом
- 2) А.И. Солженицыным
- 3) А.А. Фадеевым
- 4) А.Т. Твардовским

Ответ:

9 В формировании архитектурного ансамбля Московского Кремля принимали участие приглашённые из-за границы мастера

- 1) Чарлз Камерон и Джакомо Кваренги
- 2) Бартоломео Растрелли и Доменико Трезини
- 3) Огюст Монферран и Доменико Жилярди
- 4) Бон Фрязин и Алевиз Новый

Ответ:

10 Политика Советского государства в области развития образования в 1920–1930-х гг. была нацелена на

- 1) создание системы обязательного полного среднего образования
- 2) введение платного обучения в школе
- 3) ликвидацию неграмотности и введение всеобщего обязательного начального обучения
- 4) сотрудничество с религиозными организациями в сфере образования

Ответ:

11 Какое из перечисленных литературных произведений посвящено описанию события, относящегося к XIV в.?

- 1) «Слово о полку Игореве»
- 2) «Повесть о разорении Рязани Батыем»
- 3) «Сказание о Мамаевом побоище»
- 4) «Хождение за три моря»

Ответ:

12 Что из перечисленного относится к периоду «оттепели» в СССР?

- 1) «дело Пастернака»
- 2) принятие постановления Оргбюро ЦК ВКП(б) «О журналах "Звезда" и "Ленинград"»
- 3) открытия Н.И. Вавилова в области генетики
- 4) создание Седьмой (Ленинградской) симфонии Д.Д. Шостаковича

Ответ:

13 Какое из перечисленных литературных произведений посвящено событиям, происходившим в XII в.?

- 1) «Слово о полку Игореве»
- 2) «Хождение за три моря»
- 3) «Сказание о Мамаевом побоище»
- 4) «Житие Сергия Радонежского»

Ответ:

14 Признанными мастерами политических карикатур и плакатов были

- 1) И.Г. Эренбург, А.Т. Твардовский
- 2) И.А. Ильф, Е.П. Петров
- 3) М.В. Куприянов, П.Н. Крылов, Н.А. Соколов (Кукрыниксы)
- 4) И.О. Дунаевский, С.С. Прокофьев

Ответ:

15 Какой из перечисленных памятников архитектуры был построен в XVI в.?

- 1) Дмитриевский собор во Владимире
- 2) церковь Покрова в Филях
- 3) Покровский собор что на Рву (храм Василия Блаженного)
- 4) Большой Кремлёвский дворец

Ответ:

16 С поиском новых форм в театральном искусстве было непосредственно связано творчество

- 1) Н.С. Гумилёва
- 2) В.Э. Мейерхольда
- 3) С.В. Рахманинова
- 4) М.М. Зощенко

Ответ:

17 Фреска в Древней Руси – это

- 1) изображение, выполненное водяными красками по сырой штукатурке
- 2) картина из вдавленных в сырую штукатурку стекловидных камешков
- 3) техника изготовления ювелирных украшений
- 4) вид скульптуры, в котором изображение выполняется на плоскости из камня, глины, металла, дерева

Ответ:

18 Укажите характерную черту развития культуры СССР в период «оттепели».

- 1) преобладание авангардистского направления в изобразительном искусстве
- 2) отсутствие цензуры в литературе
- 3) партийный контроль над сферой духовной культуры
- 4) прекращение гонений на деятелей литературы и искусства

Ответ:

19 Какой из перечисленных памятников архитектуры был построен в XVI в.?

- 1) дом Пашкова в Москве
- 2) церковь Покрова в Филях
- 3) церковь Вознесения в Коломенском
- 4) Большой Кремлёвский дворец

Ответ:

20 Героям обороны Ленинграда посвящен памятник

- 1) «Разорванное кольцо»
- 2) «Родина-мать зовёт!»
- 3) «Героям-панфиловцам» у разезда Дубосеково
- 4) «Воин-освободитель» в Третьяков-парке

Ответ:

21 Представителями Серебряного века в русской поэзии были

- 1) А.А. Фет, Ф.И. Тютчев
- 2) М.Ю. Лермонтов, К.Ф. Рылев
- 3) М.И. Цветаева, Н.С. Гумилёв
- 4) Н.А. Некрасов, И.С. Тургенев

Ответ:

22 Что из перечисленного относится к периоду «оттепели» в СССР?

- 1) «дело Пастернака»
- 2) принятие постановления Оргбюро ЦК ВКП(б) «О журналах "Звезда" и "Ленинград"»
- 3) открытия Н.И. Вавилова в области генетики
- 4) создание Седьмой (Ленинградской) симфонии Д.Д. Шостаковича

Ответ:

23 Укажите архитектурный памятник, сооружённый в период правления Василия III.

- 1) Покровский собор что на Рву (храм Василия Блаженного)
- 2) Успенский собор во Владимире
- 3) церковь Вознесения в Коломенском
- 4) церковь Покрова в Филях


Ответ:

24 Кто из перечисленных писателей был удостоен Нобелевской премии?

- 1) М.А. Шолохов
- 2) А.А. Фадеев
- 3) В.М. Шукшин
- 4) М.А. Булгаков

Ответ:

25 Рассмотрите изображение.



Данный плакат создан в связи с событием, которое состоялось в СССР в

- 1) 1956 г.
- 2) 1974 г.
- 3) 1980 г.
- 4) 1985 г.

Ответ:

26 Рассмотрите изображение и выполните задание.



Укажите десятилетие, когда произошло событие, которому посвящена данная марка.

- 1) 1960-е гг.
- 2) 1970-е гг.
- 3) 1980-е гг.
- 4) 1990-е гг.

Ответ:

27 Рассмотрите изображение и выполните задание.



Укажите князя, изображённого на иллюстрации.

- 1) Олег Вещий
- 2) Игорь Рюрикович
- 3) Святослав Игоревич
- 4) Владимир Святославич

Ответ:

28 Рассмотрите изображение.



Данный плакат был создан в период

- 1) проведения аграрной реформы П.А. Столыпина
- 2) проведения новой экономической политики (нэп)
- 3) восстановления экономики СССР после Великой Отечественной войны
- 4) коллективизации

Ответ:

29 Рассмотрите изображение и выполните задание.




Укажите десятилетие, в которое была выпущена данная марка.

- 1) 1950-е гг.
- 2) 1960-е гг.
- 3) 1970-е гг.
- 4) 1980-е гг.

Ответ:

30 Рассмотрите изображение и ответьте на вопрос.



В каком году был создан данный плакат?

- 1) в 1919 г.
- 2) в 1929 г.
- 3) в 1939 г.
- 4) в 1949 г.

Ответ:

31 Рассмотрите изображение и выполните задание.



Укажите событие, участником которого был деятель, изображённый на данной памятной монете.

- 1) оборона Порт-Артура
- 2) Бородинское сражение
- 3) Брусиловский прорыв
- 4) оборона Севастополя

Ответ:

32 Рассмотрите изображение.



Здание, изображённое на памятной монете, было сооружено в период правления

- 1) Дмитрия Донского
- 2) Ивана III
- 3) Ивана IV
- 4) Бориса Годунова

Ответ:

33 Рассмотрите монету и выполните задание.



Изображённые на монете события произошли в годы правления

- 1) Петра I
- 2) Елизаветы Петровны
- 3) Екатерины II
- 4) Павла I

Ответ:

34 Рассмотрите монету и выполните задание.



Монета посвящена памяти выдающегося русского

- 1) композитора
- 2) скульптора
- 3) живописца
- 4) поэта

Ответ:

35 Рассмотрите изображение и выполните задание.



Укажите архитектурный памятник, детали оформления которого представлены на изображении.

- 1) собор святой Софии в Новгороде
- 2) Дмитриевский собор во Владимире
- 3) Успенский собор Московского Кремля
- 4) Петропавловский собор в Санкт-Петербурге

Ответ:

36 Рассмотрите изображение и выполните задание.



Деятель, которому посвящена данная памятная монета, прославился в области

- 1) музыкального искусства
- 2) архитектуры
- 3) театрального искусства
- 4) скульптуры

Ответ:

Система оценивания заданий раздела 2.3

Каждое из заданий раздела 2.3 части II считается выполненным верно, если ответ записан в той форме, которая указана в инструкции по выполнению задания.

Полный правильный ответ на задания 1–36 оценивается 1 баллом; неполный, неверный ответ или его отсутствие – 0 баллов.

№ задания	Ответ
1	3
2	4
3	2
4	3
5	3
6	3
7	3
8	1
9	4
10	3
11	3
12	1
13	1
14	3
15	3
16	2
17	1
18	3
19	3
20	1
21	3
22	1
23	3
24	1
25	3
26	2
27	4
28	4
29	2
30	2
31	4
32	2
33	4
34	1
35	2
36	3

Раздел 2.4**Задания на знание фактов истории Великой Отечественной войны**

- 1** В ходе Курской битвы
- 1) состоялось крупнейшее танковое сражение у станции Прохоровка
 - 2) велись бои за Мамаев курган
 - 3) был издан приказ № 227 «Ни шагу назад!»
 - 4) была окружена и уничтожена 6-я немецкая армия фельдмаршала Паулюса
- Ответ:
- 2** Какой из перечисленных городов **не был** занят фашистами в годы Великой Отечественной войны?
- 1) Орёл
 - 2) Белгород
 - 3) Тула
 - 4) Смоленск
- Ответ:
- 3** Одним из итогов проведения Восточно-Прусской наступательной операции Красной армии стало
- 1) занятие Красной армией Кёнигсберга
 - 2) освобождение Праги
 - 3) занятие Красной армией Мюнхена
 - 4) образование плацдармов на Одере близ Берлина
- Ответ:
- 4** Какое из перечисленных событий произошло в декабре 1941 г.?
- 1) начало контрнаступления советских войск под Москвой
 - 2) оборона Брестской крепости
 - 3) окончание Московской битвы
 - 4) освобождение Красной армией Белгорода
- Ответ:

5 Когда был освобождён от фашистов Киев?

- 1) в ноябре 1942 г.
- 2) в феврале 1943 г.
- 3) в ноябре 1943 г.
- 4) в январе 1944 г.

Ответ:

6 Коренной перелом в ходе Великой Отечественной войны был достигнут в результате разгрома фашистских войск

- 1) под Москвой
- 2) под Сталинградом и на Курской дуге
- 3) в Восточной Пруссии
- 4) в Белоруссии

Ответ:

7 Местами проведения конференций глав стран – союзниц по антигитлеровской коалиции были

- 1) Хельсинки и Женева
- 2) Москва и Париж
- 3) Тегеран и Ялта
- 4) Вена и Прага

Ответ:

8 Крупнейшее танковое сражение под Прохоровкой произошло в ходе

- 1) Сталинградской битвы
- 2) Курской битвы
- 3) операции «Багратион»
- 4) Висло-Одерской операции

Ответ:

9 Какая из перечисленных стран была союзницей Германии во Второй мировой войне?

- 1) Великобритания
- 2) Румыния
- 3) Польша
- 4) Югославия

Ответ:

10 Какой вопрос обсуждался на Тегеранской конференции «Большой тройки» в 1943 г.?

- 1) о распространении на СССР закона о ленд-лизе
- 2) о подписании договоров о военной помощи с Польшей и Чехословакией
- 3) о вхождении Литвы, Латвии и Эстонии в состав СССР
- 4) об открытии Второго фронта в Европе

Ответ:

11 Бои за Мамаев курган велись в ходе

- 1) Московской битвы
- 2) Сталинградской битвы
- 3) Курской битвы
- 4) освобождения Киева

Ответ:

12 Какое из перечисленных событий Великой Отечественной войны произошло в 1944 г.?

- 1) танковое сражение под Прохоровкой
- 2) издание приказа № 227 «Ни шагу назад!»
- 3) освобождение Севастополя
- 4) начало блокады Ленинграда

Ответ:

13 Прочтите отрывок из книги, написанной фронтовиком, и укажите фамилию, дважды пропущенную в тексте.

«Разгорелся неравный бой пехоты с танками...

_____ грузно прислонился к стене окопа и на мгновение опустил голову.

– Товарищ политрук, Вы ранены? – с тревогой спрашивает подбежавший боец. – Идите в медпункт.

– Да, что-то сильно обожгло здесь. Ничего, заживёт... Вот ещё ползут! – Встрепенувшись от сильной боли, бледный, он обращается к бойцам: Велика Россия, но отступить некуда – за нами Москва!

Со связкой гранат он бросается на надвигающийся танк. Примеру _____ следуют оставшиеся в живых бойцы.

У разъезда Дубосеково на израненном воронками снарядами и авиационных бомб поле замерли, объятые дымом и пламенем, вражеские танки...»

- 1) Н.Ф. Гастелло
- 2) В.В. Талалихин
- 3) А.М. Матросов
- 4) В.Г. Клочков

Ответ:

14 Прочтите отрывок из воспоминаний современника и укажите, в каком году происходили описанные события.

«Не пересказать всех подвигов бойцов, командиров и политработников 316-й стрелковой – ныне 8-й Гвардейской дивизии. Немецкое командование давно уже заменило одну танковую дивизию, истрёпанную на этих рубежах, другой, подтянуло из глубины ряд других дивизий. А славная дивизия Панфилова по-прежнему зорко и грозно обороняет дальние подступы к городу. И в эти дни – вчера, позавчера, сегодня – гвардейцы изматывают и разят врага».

- 1) 1941 г.
- 2) 1942 г.
- 3) 1943 г.
- 4) 1944 г.

Ответ:

15 Прочтите отрывок из воспоминаний фронтовика и укажите фамилию, дважды пропущенную в тексте.

«В ночь с шестого на седьмое августа в воздушном пространстве на подступах к столице _____ встретился с немецким бомбардировщиком. Советский лётчик обстрелял и поджёг фашиста. Развернувшись, "хейнкель" предпринял попытку уйти от последующей атаки, скрыться во тьме.

Манёвр не удался. Пылавший мотор демаскировал гитлеровца, и советский лётчик, не теряя его из виду, бросил свой истребитель в погоню, выпустил по врагу несколько очередей. Однако бомбардировщик продолжал уходить.

_____, прибавив газу, нажал гашетки... но патроны кончились. Надо выходить из боя. И тогда советский лётчик принял дерзкое решение – винтом своего самолёта отрубить хвостовое оперение "хейнкеля"... "Хейнкель" рухнул на подмосковную землю».

- 1) Н.Ф. Гастелло
- 2) В.В. Талалихин
- 3) И.Н. Кожедуб
- 4) А.И. Покрышкин

Ответ:

16 Прочтите отрывок из воспоминаний советского военачальника и укажите год, о событиях которого идёт речь.

«Не описать счастье наших солдат. Не смолкает стрельба. Стреляют из всех видов оружия и наши, и союзники. Палят в воздух, изливая свою радость...

Командир 3-го Гвардейского танкового корпуса генерал А.П. Панфилов, корпус которого первым встретился с британскими войсками, вручает мне приглашение фельдмаршала Монтгомери. На следующий день мы с группой генералов и офицеров едем в Висмар. Ещё до въезда в город нас встречают британские офицеры в обыкновенной полевой форме, только не в касках, а в беретах. После короткой официальной церемонии они сопровождают нас к резиденции своего командующего. Чувствуется, что англичане стараются сделать встречу как можно более тёплой. Мы отвечали тем же».

- 1) 1942 г.
- 2) 1943 г.
- 3) 1944 г.
- 4) 1945 г.

Ответ:

17 Прочтите отрывок из исторического источника и укажите время его создания.

«Фашизм со своим средневековым варварством, раздавив своим кровавым сапогом государства Европы и ввергнув их народы в нищету и голод, теперь напал на Советский Союз.

Теперь народ, провозгласивший мирную политику, вынужден вести войну...

С полной верой в победу, в победу справедливости, объединимся под красной звездой и поддержим борьбу Советского Союза!»

- 1) осень 1939 г.
- 2) осень 1940 г.
- 3) весна 1941 г.
- 4) лето 1941 г.

Ответ:

18 Прочтите отрывок из исторического источника и укажите, когда произошли описанные события.

«В Ставке ВГК возникает идея контрнаступления. Для претворения её в жизнь принимается решение о формировании в тылу страны 10 резервных армий. Однако для формирования и сосредоточения стратегических резервов требовалось не менее 20–25 суток. В течение этого решающего периода войска фронтов должны были любой ценой не допустить противника к Москве...

И.В. Сталин обсудил в Ставке с Г.К. Жуковым обстановку на фронте, чтобы выяснить возможность провести торжественное заседание по случаю годовщины Октябрьской революции и парад войск.

Москвичи воздвигают на улицах и площадях окраинных районов города баррикады, доты, стальные надолбы, роют противотанковые рвы.

Бюро Дзержинского РК ВКП(б) приняло постановление о закреплении за предприятиями улиц района для строительства баррикад».

- 1) в июне – июле 1941 г.
- 2) в октябре – ноябре 1941 г.
- 3) в феврале 1942 г.
- 4) в ноябре 1942 г. – феврале 1943 г.

Ответ:

19 Прочтите отрывок из исторического источника и укажите сражение, о котором идёт речь.

«Эта битва явила собой очередное крупное поражение сил вермахта. Красная армия, которую Гитлер намеревался надолго остановить, не только не была остановлена, но в короткие сроки на широком фронте форсировала одну из крупнейших рек Европы и нанесла вермахту серьёзное поражение, вынудив немецкие войска отступить по всему фронту. Освобождение столицы Украины имело большое политическое и моральное значение. Были освобождены важнейшие промышленные районы Донбасса и металлургические центры южной Украины, обширные территории с населением в десятки миллионов человек. А в начале 1944 года Красная армия начала освобождение Правобережной Украины».

- 1) Сталинградская битва
- 2) Курская битва
- 3) битва за Днепр
- 4) Висло-Одерская операция

Ответ:

20 Прочтите отрывок из воспоминаний участника событий и укажите город, об обороне которого идёт речь.

«Этот удар был исключительной силы. Несмотря на громадные потери, захватчики лезли напролом. Колонны пехоты на машинах и танках врывались в город. По-видимому, гитлеровцы считали, что участь его решена, и каждый из них стремился как можно скорее достичь Волги, центра города и там поживиться трофеями. Наши бойцы, снайперы, бронбойщики, артиллеристы, притаившись в домах, в подвалах и дзотах, за углами домов, видели, как ...гитлеровцы соскакивали с машин, играли на губных гармошках, бешено орали и плясали на тротуарах... Захватчики гибли сотнями, но свежие волны резервов все больше наводняли улицы...

Вскоре гитлеровцы поняли, что город нахрапом не возьмёшь, что кусается он очень больно. В дальнейшем они стали действовать осмотрительнее: атаки подготавливали тщательно и в бой шли без гармошек, без песен и плясок... Прямо скажем: шли на верную смерть».

- 1) Тула
- 2) Сталинград
- 3) Киев
- 4) Севастополь

Ответ:

21 Прочтите отрывок из сочинения историков и укажите город, о котором идёт речь.

«19 ноября Военный совет... фронта и горком партии на совместном заседании приняли решение создать военно-автомобильную дорогу по льду... озера для доставки грузов в [город]. В тот же день на лёд вышли отряды разведчиков, чтобы проложить будущую ледовую трассу, наметить на ней места для заправочных станций, обогревательных и медицинских пунктов. И вот 22 ноября по тонкому, ещё не окрепшему льду двинулась первая автоколонна. [Жители города] получили в этот день 33 тонны продовольствия. Так начала работать знаменитая ледовая трасса – "Дорога жизни", как называли её [жители города]. Голодная блокада была прорвана».

- 1) Москва
- 2) Севастополь
- 3) Киев
- 4) Ленинград

Ответ:

22 Прочтите отрывок из воспоминаний советского военачальника и укажите год, когда на фронтах Великой Отечественной войны сложилась описываемая ситуация.

«В те дни, оглядываясь на пройденные дороги войны и ведя бои глубоко в пределах родной земли, мы твёрдо верили, что главные трудности позади. Победа на Волге, ясная цель, всё возрастающая помощь тыла – всё это вдохновляло и звало вперёд, к окончательной победе. И мы уже были не теми, кого в июне 1941 года война взяла в суровые тиски, иной была и Красная армия. Совершенствовалось её воинское искусство, крепла боевая мощь. В ходе войны вырос отряд опытных, закалённых в сражениях командиров. В начале года личный состав сухопутных сил, ВВС и Флота впервые надел погоны, ставшие символом почётного солдатского и матросского долга советских воинов перед Родиной».

- 1) 1942 г.
- 2) 1943 г.
- 3) 1944 г.
- 4) 1945 г.

Ответ:

23 Прочтите отрывок из исторического источника и укажите время его создания.

«[Сегодня] в 4 часа утра немецкая авиация без всякого повода совершила налёты на наши аэродромы и города вдоль западной границы и подвергла их бомбардировке. Одновременно в разных местах германские войска открыли артиллерийский огонь и перешли нашу границу. В связи с неслыханным по наглости нападением со стороны Германии на Советский Союз приказываю: 1. Войскам всеми силами и средствами обрушиться на вражеские силы и уничтожить их в районах, где они нарушили советскую границу...»

- 1) осень 1939 г.
- 2) осень 1940 г.
- 3) весна 1941 г.
- 4) лето 1941 г.

Ответ:

24 Прочтите отрывок из сводки Совинформбюро и укажите год, когда произошли события, о которых в ней говорится.

«Войска 3-го Белорусского фронта после упорных уличных боёв завершили разгром группы немецких войск и сегодня штурмом овладели крепостью и главным городом Восточной Пруссии Кёнигсбергом – стратегически важным узлом обороны немцев на Балтийском море.

За день боёв к 20 часам войска фронта взяли в плен свыше 27 тысяч немецких солдат и офицеров, а также захватили большое количество вооружения и разного военного имущества».

- 1) 1942 г.
- 2) 1943 г.
- 3) 1944 г.
- 4) 1945 г.

Ответ:

Система оценивания заданий раздела 2.4

Каждое из заданий раздела 2.4 части II считается выполненным верно, если ответ записан в той форме, которая указана в инструкции по выполнению задания.

Полный правильный ответ на задания 1–24 оценивается 1 баллом; неполный, неверный ответ или его отсутствие – 0 баллов.

№ задания	Ответ
1	1
2	3
3	1
4	1
5	3
6	2
7	4
8	3
9	2
10	4
11	2
12	3
13	2
14	1
15	2
16	4
17	4
18	2
19	3
20	2
21	4
22	2
23	4
24	4

Раздел 2.5

Задания на работу с исторической картой (схемой)

1 Рассмотрите схему и выполните задание.

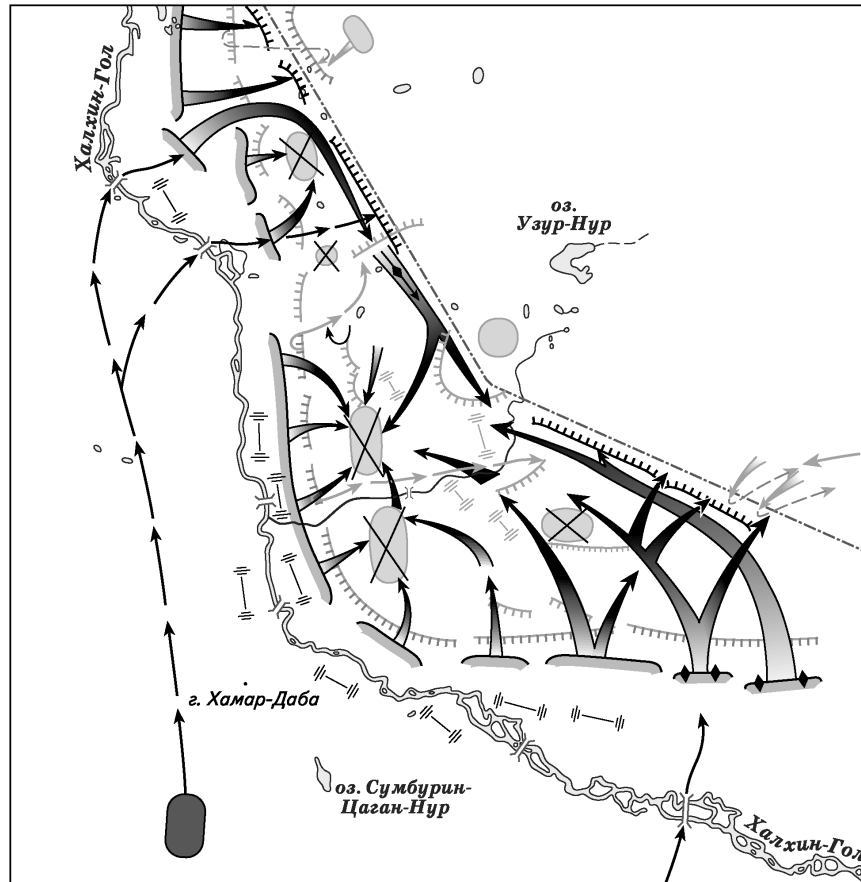


Укажите век, когда была совершена первая русская экспедиция по маршруту, изображённому на схеме.

- 1) XVI в.
- 2) XVII в.
- 3) XVIII в.
- 4) XIX в.

Ответ:

2 Рассмотрите карту.

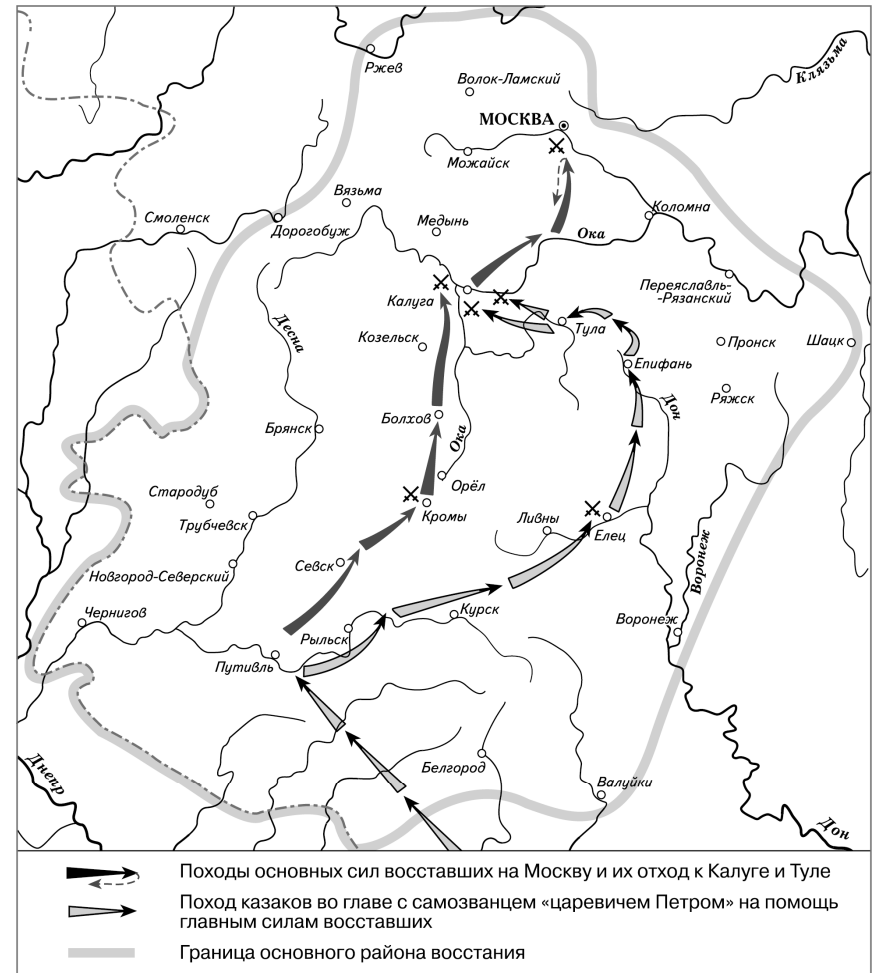


На карте изображены действия Красной армии против войск Японии в

- 1) 1929 г.
- 2) 1938 г.
- 3) 1939 г.
- 4) 1945 г.

Ответ:

3 Рассмотрите схему.

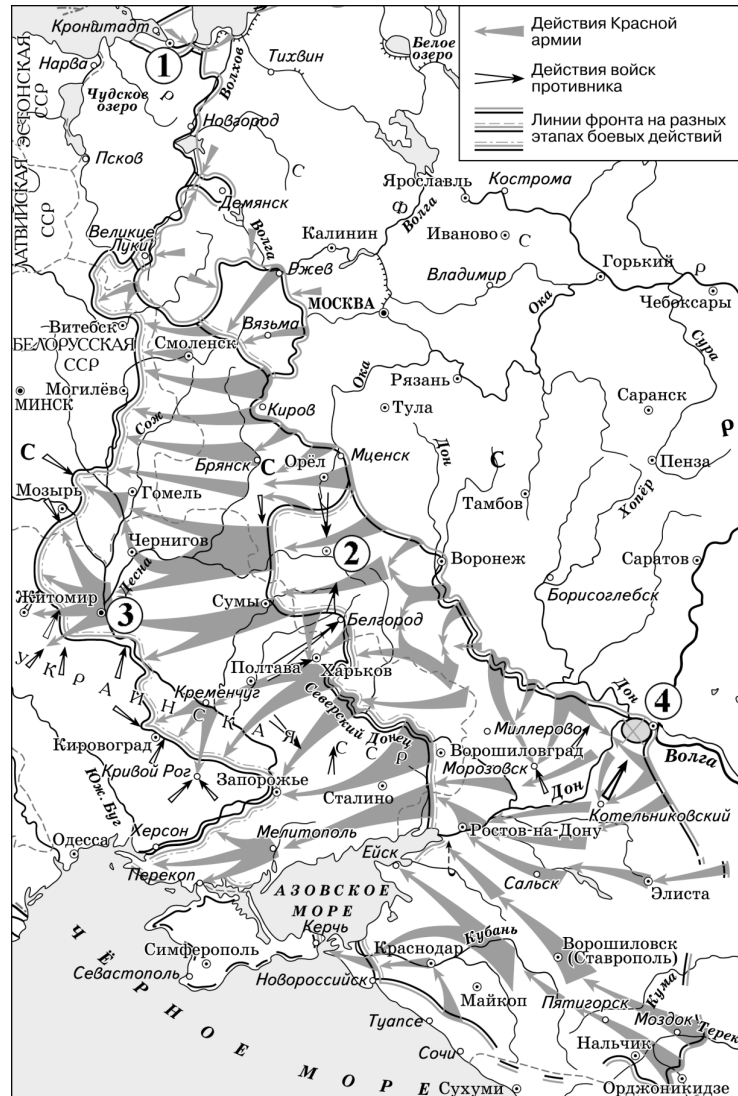


На схеме обозначены действия восставших и район народного восстания под предводительством

- 1) Е.И. Пугачёва
- 2) С.Т. Разина
- 3) К.А. Булавина
- 4) И.И. Болотникова

Ответ:

- 4 Рассмотрите схему одного из периодов Великой Отечественной войны и ответьте на вопрос.



Какой цифрой на схеме обозначен город, к которому была проложена «Дорога жизни»?

- 1) 1 2) 2 3) 3 4) 4

Ответ:

- 5 Рассмотрите схему одного из периодов Гражданской войны и ответьте на вопрос.



Кто из перечисленных военачальников являлся главнокомандующим белыми войсками, против которых были осуществлены действия Красной армии, обозначенные на схеме стрелками?

- 1) А.И. Деникин
- 2) Н.Н. Юденич
- 3) А.В. Колчак
- 4) П.Н. Врангель

Ответ:

6 Рассмотрите схему и выполните задание.



Назовите киевского князя, к деятельности которого относится успешный военный поход по маршруту, представленному на схеме.

- 1) Рюрик
- 2) Олег
- 3) Мстислав Великий
- 4) Юрий Долгорукий

Ответ:

7 Рассмотрите схему и выполните задание.

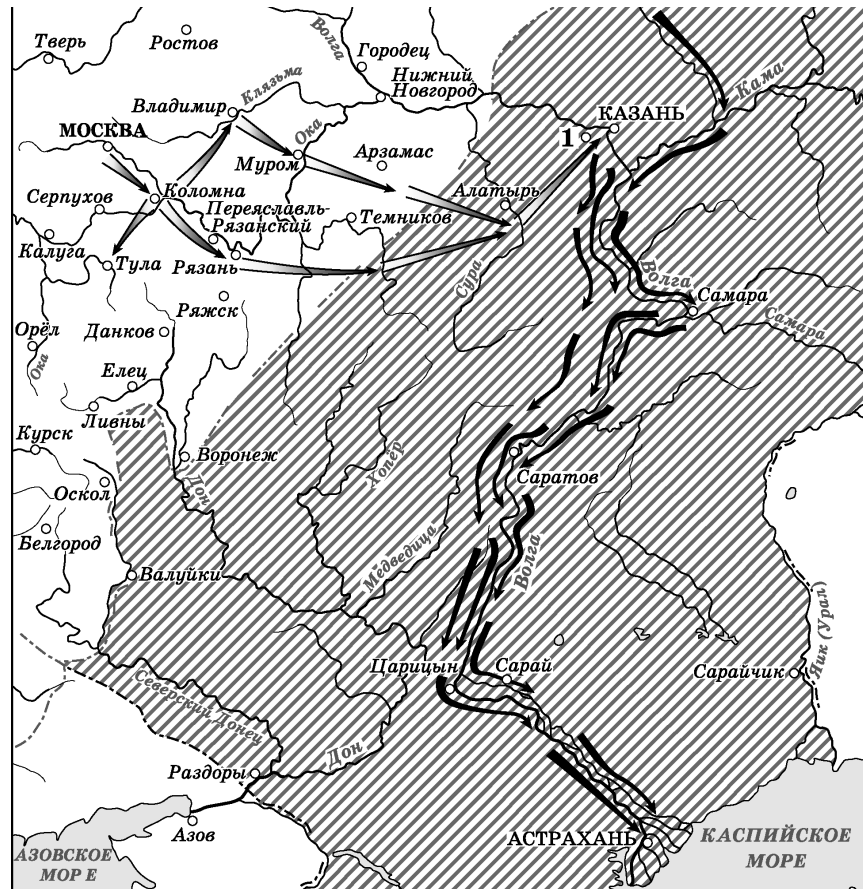


Укажите руководителя похода, изображённого на схеме чёрными стрелками.

- 1) Степан Разин
- 2) Емельян Пугачёв
- 3) Ермак Тимофеевич
- 4) Иван Болотников

Ответ:

8 Рассмотрите схему и выполните задание.

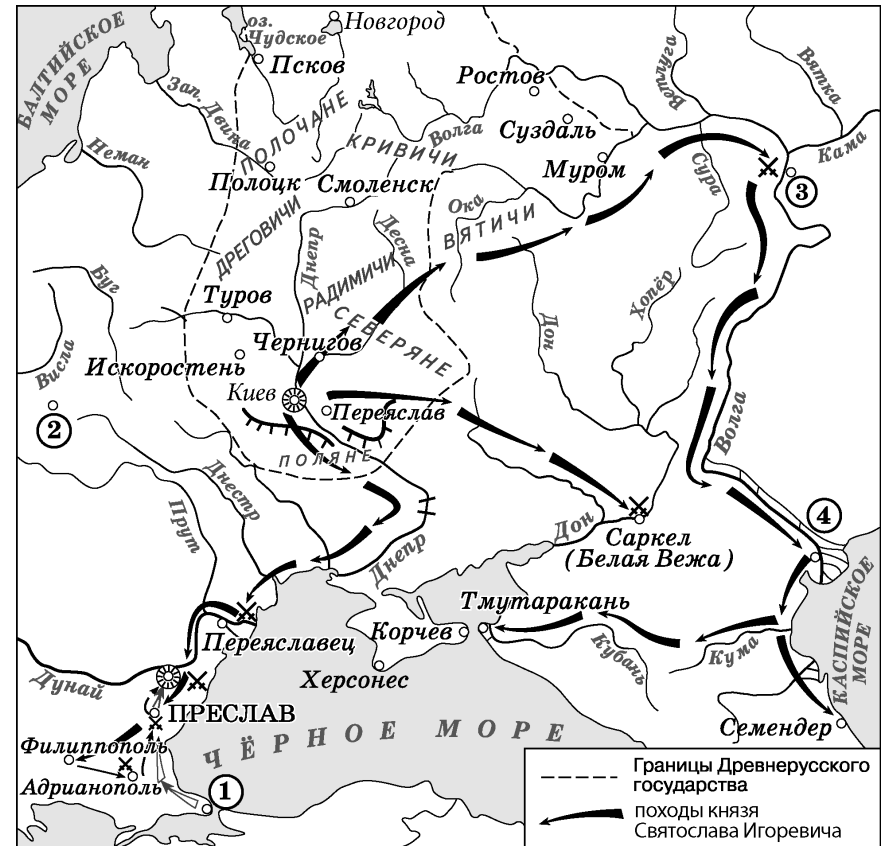


Укажите век, когда в состав Российского государства вошла заштрихованная на схеме территория.

- 1) XV в.
- 2) XVI в.
- 3) XVII в.
- 4) XVIII в.

Ответ:

9 Рассмотрите схему и ответьте на вопрос.

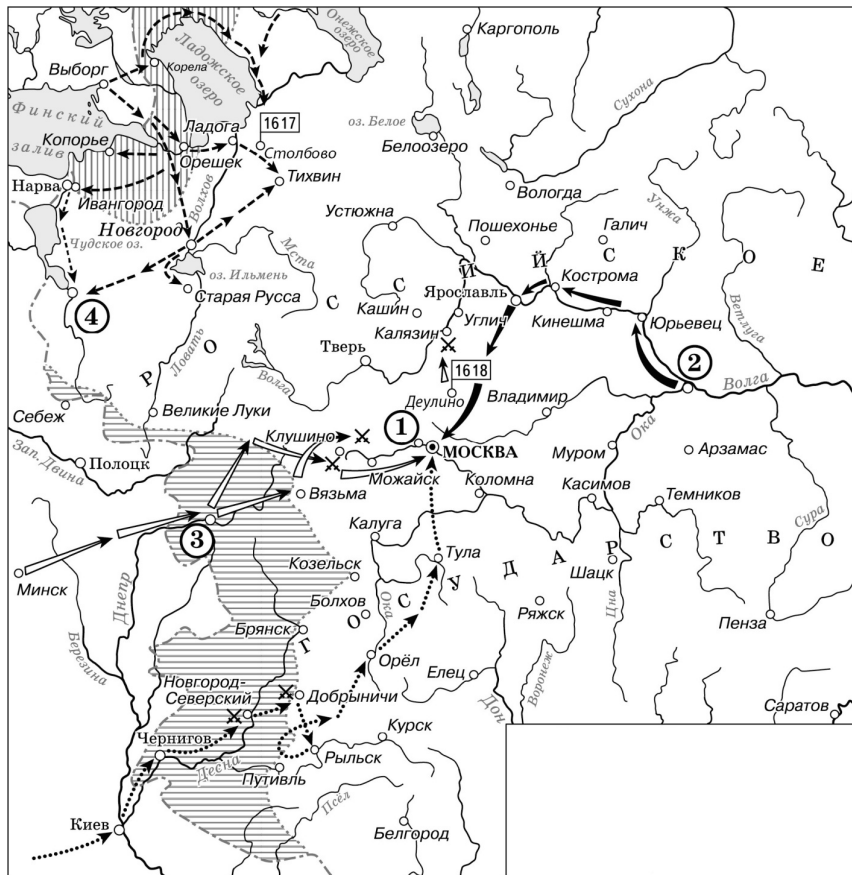


Какой цифрой на схеме обозначена столица Хазарского каганата?

- 1) 1
- 2) 2
- 3) 3
- 4) 4

Ответ:

10 Рассмотрите схему и ответьте на вопрос.

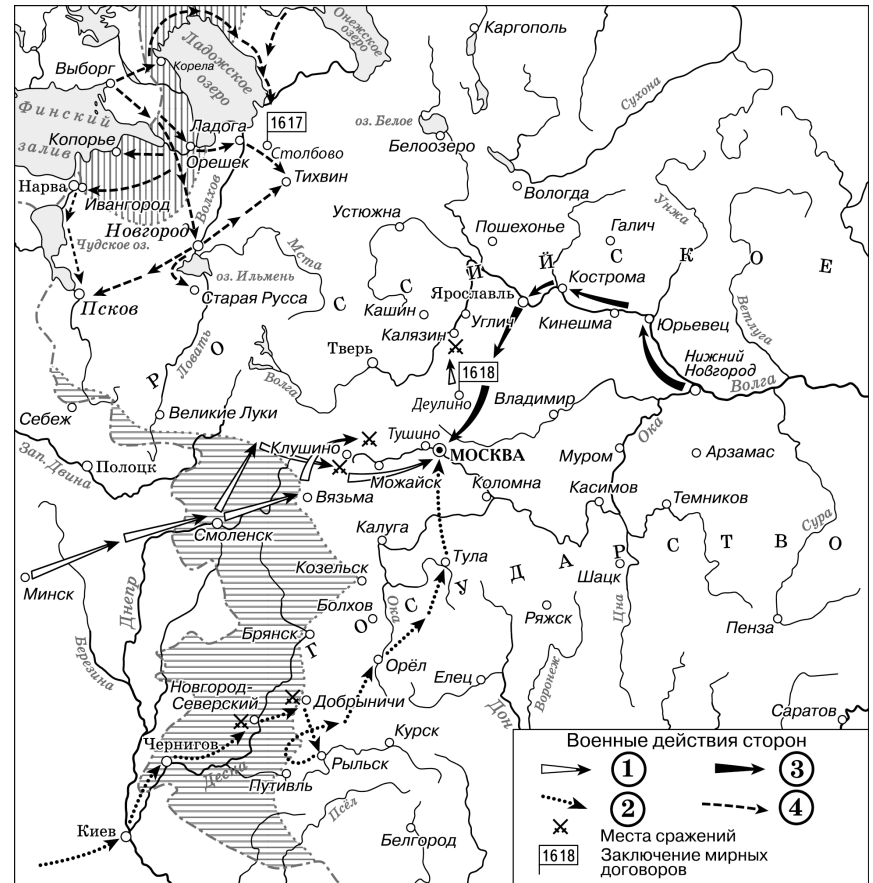


Какой цифрой на схеме обозначен город, в котором началось формирование ополчения во главе с Козьмой Мининым и Дмитрием Пожарским?

- 1) 1 2) 2 3) 3 4) 4

Ответ:

11 Рассмотрите схему и выполните задание.

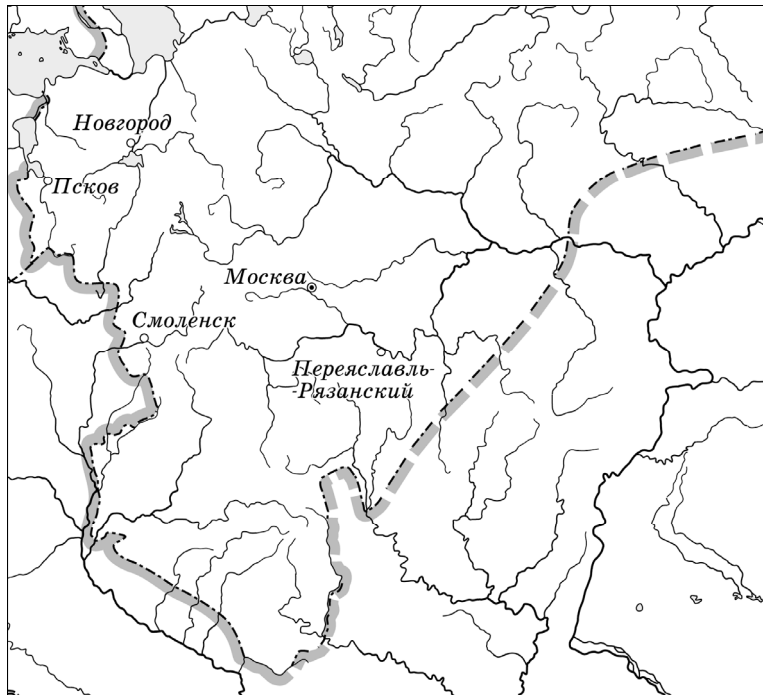


Укажите название государства, в состав которого вошли территории, обозначенные на схеме горизонтальной штриховкой по одному из договоров, места подписания которых отмечены на схеме.

- 1) Россия
2) Османская империя
3) Речь Посполитая
4) Швеция

Ответ:

- 12 Рассмотрите схему и выполните задание.



Обозначенная на схеме граница установилась в (во)

- 1) первой половине XV в.
- 2) последней четверти XV в.
- 3) первой четверти XVI в.
- 4) второй половине XVI в.

Ответ:

Система оценивания заданий раздела 2.5

Каждое из заданий раздела 2.5 части II считается выполненным верно, если ответ записан в той форме, которая указана в инструкции по выполнению задания.

Полный правильный ответ на задания 1–12 оценивается 1 баллом; неполный, неверный ответ или его отсутствие – 0 баллов.

№ задания	Ответ
1	2
2	3
3	4
4	1
5	3
6	2
7	3
8	2
9	4
10	2
11	3
12	3

Раздел 2.6

Задания на работу со статистической информацией

- 1 Используя данные статистической таблицы, завершите представленные ниже суждения, соотнесите их начальные части и варианты завершения.

Темпы роста производительности труда в промышленности СССР и РСФСР (выработка продукции на одного работающего; 1940 = 100).

	1940 г.	1965 г.	1970 г.	1975 г.	1980 г.
СССР	100	372	492	675	769
РСФСР	100	399	535	719	867

НАЧАЛА СУЖДЕНИЙ

ВАРИАНТЫ ЗАВЕРШЕНИЯ СУЖДЕНИЙ

- | | |
|---|--|
| <p>А) Темпы роста производительности труда в СССР были наибольшими в пятилетку</p> <p>Б) Темпы роста производительности труда в СССР были наименьшими в пятилетку</p> <p>В) Рост производительности труда в РСФСР, в период 1965–1980 гг.</p> | <p>1) 1965–1970 гг.</p> <p>2) 1970–1975 гг.</p> <p>3) 1975–1980 гг.</p> <p>4) всегда был выше соответствующего показателя в СССР</p> <p>5) не всегда был выше соответствующего показателя в СССР</p> |
|---|--|

Запишите в таблицу выбранные цифры под соответствующими буквами.

Ответ:

А	Б	В

- 2 Используя данные статистической таблицы, завершите представленные ниже суждения, соотнесите их начала и варианты завершения.

Распространение разных систем хозяйствования в чернозёмных и нечернозёмных губерниях после реформы 1861 г. (в % от числа губерний)

Местность	Преобладание отработочной системы	Преобладание смешанной системы	Преобладание капиталистической системы
Чернозёмные губернии	50%	12%	38%
Нечернозёмные губернии	28%	20%	52%

НАЧАЛА СУЖДЕНИЙ

ВАРИАНТЫ ЗАВЕРШЕНИЯ СУЖДЕНИЙ

- | | |
|---|--|
| <p>А) Капиталистическая система ведения хозяйства преобладала в большинстве</p> <p>Б) В нечернозёмной полосе доля губерний с преобладанием смешанной системы хозяйствования составляла</p> <p>В) В чернозёмной полосе доля губерний с преобладанием отработочной системы ведения хозяйства составляла</p> | <p>1) чернозёмных губерний</p> <p>2) половину от общего количества</p> <p>3) нечернозёмных губерний</p> <p>4) пятую часть от общего количества</p> <p>5) только десятую часть от общего количества</p> |
|---|--|

Запишите в таблицу выбранные цифры под соответствующими буквами.

Ответ:

А	Б	В

- 3** Используя данные таблицы, завершите представленные ниже суждения, соотнеся их начала и варианты завершения.

Соотношение численности Красной армии и белой армии в период Гражданской войны (тыс. человек)

	1918 г.	1919 г.	1920 г.
Красная армия	196	3000	5500
Белая армия	135	349	125

НАЧАЛА СУЖДЕНИЙ

ВАРИАНТЫ ЗАВЕРШЕНИЯ
СУЖДЕНИЙ

- | | |
|--|---|
| <p>А) Численность Красной армии была наибольшей в</p> <p>Б) Красная армия по своей численности</p> <p>В) Численность белой армии была наибольшей в</p> | <p>1) постоянно уменьшалась</p> <p>2) 1918 г.</p> <p>3) постоянно увеличивалась</p> <p>4) 1919 г.</p> <p>5) 1920 г.</p> |
|--|---|

Запишите в таблицу выбранные цифры под соответствующими буквами.

Ответ:

А	Б	В

- 4** Используя данные статистической таблицы, завершите представленные ниже суждения, соотнеся их начала и варианты завершения.

Численность политических партий России в 1917 г.

Партия	Число членов (тыс.)	
	Март	Октябрь
Большевики	24	350
Меньшевики	45	193
Социалисты-революционеры	500	700
Кадеты	10–12	70

НАЧАЛА СУЖДЕНИЙ

ВАРИАНТЫ ЗАВЕРШЕНИЯ
СУЖДЕНИЙ

- | | |
|--|---|
| <p>А) В марте – октябре 1917 г. наименьшую численность имела партия</p> <p>Б) Быстрее других по своей численности в марте – октябре 1917 г. росла партия</p> <p>В) Партия большевиков в октябре 1917 г. по своей численности</p> | <p>1) кадетов</p> <p>2) эсеров</p> <p>3) большевиков</p> <p>4) являлась крупнейшей из партий, представленных в таблице</p> <p>5) уступала по численности эсерам</p> |
|--|---|

Запишите в таблицу выбранные цифры под соответствующими буквами.

Ответ:

А	Б	В

- 5** Используя данные статистической таблицы, завершите представленные ниже суждения, соотнесите их начала и варианты завершения.

Население СССР, по данным Госкомстата, млн человек

Год	Население СССР	Городское	Сельское
1940	194,1	63,1	131,0
1950	178,5	69,4	109,1
1960	212,4	103,6	108,8
1970	241,7	136,0	105,7
1980	264,5	166,2	98,3

НАЧАЛА СУЖДЕНИЙ

- А) Население СССР сократилось в период
 Б) Численность городского населения впервые превысила численность сельского населения в период
 В) Численность населения СССР превышала 200 млн человек

ВАРИАНТЫ ЗАВЕРШЕНИЯ СУЖДЕНИЙ

- 1) 1940–1950 гг.
 2) 1950–1960 гг.
 3) 1960–1970 гг.
 4) во все годы, представленные в таблице
 5) не во все годы, представленные в таблице

Запишите в таблицу выбранные цифры под соответствующими буквами.

Ответ:

А	Б	В

- 6** Используя данные статистической таблицы, завершите представленные ниже суждения, соотнесите их начала и варианты завершения.

Количество зерна на душу населения после сбора урожая в 1850-х гг.

Местность	Помещики	Помещичьи крестьяне	Государственные крестьяне
Чернозёмные губернии	172 пуда	20 пудов	19 пудов
Нечернозёмные губернии	75 пудов	16,8 пуда	19 пудов

НАЧАЛА СУЖДЕНИЙ

- А) Количество зерна на душу населения было наивысшим у
 Б) Количество зерна на душу населения и в чернозёмных, и в нечернозёмных губерниях было одинаковым у
 В) У помещичьих крестьян чернозёмных губерний по сравнению с помещичьими крестьянами нечернозёмных губерний

ВАРИАНТЫ ЗАВЕРШЕНИЯ СУЖДЕНИЙ

- 1) государственных крестьян
 2) было больше зерна на душу населения
 3) помещиков нечернозёмных губерний
 4) помещиков чернозёмных губерний
 5) было меньше зерна на душу населения

Запишите в таблицу выбранные цифры под соответствующими буквами.

Ответ:

А	Б	В

- 7 Используя данные статистической таблицы, завершите представленные ниже суждения, соотнеся их начала и варианты завершения.

Текстильная промышленность России во второй половине XVIII в.

Годы	Суконные мануфактуры	Плотняные мануфактуры	Шёлковые мануфактуры
1760-е гг.	73	85	60
1790-е гг.	158	318	357

НАЧАЛО СУЖДЕНИЯ

ВАРИАНТЫ ЗАВЕРШЕНИЯ
СУЖДЕНИЯ

- | | |
|---|--|
| <p>А) Самыми низкими темпами росло количество предприятий по производству</p> <p>Б) Общее количество текстильных мануфактур</p> <p>В) В 1790-х гг. наибольшим было количество предприятий по производству</p> | <p>1) сукна</p> <p>2) выросло почти вдвое</p> <p>3) полотна</p> <p>4) увеличилось почти в 4 раза</p> <p>5) шёлка</p> |
|---|--|

Запишите в таблицу выбранные цифры под соответствующими буквами.

Ответ:

А	Б	В

- 8 Используя данные таблицы, завершите представленные ниже суждения, соотнеся их начала и варианты завершения.

Экспорт хлеба из России в 1820–1840 гг.

Показатель	1826–1830 гг.	1831–1835 гг.	1836–1840 гг.
Стоимость вывезенного хлеба, млн руб.	226,8	222,0	308,3
Доля в стоимости всего экспорта, %	15,7	15,4	14,8

НАЧАЛО СУЖДЕНИЯ

ВАРИАНТЫ ЗАВЕРШЕНИЯ
СУЖДЕНИЯ

- | | |
|--|--|
| <p>А) Стоимость вывезенного хлеба в период 1826–1840 гг.</p> <p>Б) Стоимость вывезенного хлеба была наименьшей в</p> <p>В) Доля хлеба в стоимости российского экспорта была наибольшей в</p> | <p>1) 1836–1840 гг.</p> <p>2) колебалась</p> <p>3) 1826–1830 гг.</p> <p>4) постоянно росла</p> <p>5) 1831–1835 гг.</p> |
|--|--|

Запишите в таблицу выбранные цифры под соответствующими буквами.

Ответ:

А	Б	В

- 9** Используя данные таблицы, завершите представленные ниже суждения, соотнесите их начала и варианты завершения.

Количество высших учебных заведений

Республики	1913 г. (данные по территории будущих республик)	1927 г.	1940 г.
РСФСР	72	90	481
Казахская ССР	0	1	20
Грузинская ССР	1	6	21

НАЧАЛО СУЖДЕНИЯ

**ВАРИАНТЫ ЗАВЕРШЕНИЯ
СУЖДЕНИЯ**

- | | |
|--|--|
| <p>А) Самое большое количество учебных заведений во все годы, представленные в таблице, находилось на территории</p> <p>Б) Годом, когда на территориях отдельных республик отсутствовали высшие учебные заведения, был</p> <p>В) В период 1927–1940 гг. наименьшее увеличение количества высших учебных заведений было зафиксировано в</p> | <p>1) 1913 г.</p> <p>2) 1927 г.</p> <p>3) Грузинской ССР</p> <p>4) РСФСР</p> <p>5) Казахской ССР</p> |
|--|--|

Запишите в таблицу выбранные цифры под соответствующими буквами.

Ответ:

А	Б	В

- 10** Используя данные статистической таблицы, завершите представленные ниже суждения, соотнесите их начала и варианты завершения.

*Численность студентов высших учебных заведений
на 10 000 человек населения*

	1940/41 уч. год	1950/51 уч. год	1960/61 уч. год
СССР	41	69	111
РСФСР	43	77	124
УССР	47	54	97

НАЧАЛО СУЖДЕНИЯ

**ВАРИАНТЫ ЗАВЕРШЕНИЯ
СУЖДЕНИЯ**

- | | |
|--|---|
| <p>А) Доля студентов в РСФСР была выше доли студентов в СССР</p> <p>Б) Доля студентов в УССР была выше доли студентов в РСФСР в</p> <p>В) Доля студентов в РСФСР была наибольшей в</p> | <p>1) 1940/41 учебном году</p> <p>2) во все годы, представленные в таблице</p> <p>3) 1950/51 учебном году</p> <p>4) 1960/61 учебном году</p> <p>5) не во все годы, представленные в таблице</p> |
|--|---|

Запишите в таблицу выбранные цифры под соответствующими буквами.

Ответ:

А	Б	В

- 11** Используя данные статистической таблицы, завершите представленные ниже суждения, соотнесите их начала и варианты завершения.

Структура валового национального продукта СССР по отраслям народного хозяйства (в процентах)

Отрасли народного хозяйства	1980 г.	1989 г.
Промышленность	41	32
Сельское хозяйство	13	18
Строительство	8	10
Сфера услуг	38	40

НАЧАЛО СУЖДЕНИЯ

ВАРИАНТЫ ЗАВЕРШЕНИЯ
СУЖДЕНИЯ

- | | |
|--|--|
| <p>А) Доля сферы услуг в структуре национального продукта СССР в период 1980–1989 гг.</p> <p>Б) В 1989 г. в структуре народного хозяйства СССР наименьшей была доля</p> <p>В) В период 1980–1989 гг. в структуре народного хозяйства СССР уменьшилась доля</p> | <p>1) промышленности</p> <p>2) увеличилась</p> <p>3) сельского хозяйства</p> <p>4) строительства</p> <p>5) уменьшилась</p> |
|--|--|

Запишите в таблицу выбранные цифры под соответствующими буквами.

Ответ:

А	Б	В

- 12** Используя данные статистической таблицы, завершите представленные ниже суждения, соотнесите их начала и варианты завершения.

Раздел мира после Первой мировой войны (в км²)

	Россия	Англия	Франция	Германия (с колониями)	Австро- Венгрия
Приобретённая в результате войны территория	–	3 065 000	924 520	–	–
Потерянная в результате войны территория	842 000	–	–	3 020 000	592 600

НАЧАЛО СУЖДЕНИЯ

ВАРИАНТЫ ЗАВЕРШЕНИЯ
СУЖДЕНИЯ

- | | |
|--|--|
| <p>А) В результате Первой мировой войны территориальные потери понесли</p> <p>Б) Больше других стран свою территорию увеличила</p> <p>В) Наибольшие территориальные потери понесла</p> | <p>1) Англия</p> <p>2) Германия</p> <p>3) только Германия и её союзник</p> <p>4) страны, участвовавшие в войне и на стороне Германии, и на стороне Антанты</p> <p>5) Франция</p> |
|--|--|

Запишите в таблицу выбранные цифры под соответствующими буквами.

Ответ:

А	Б	В

Система оценивания заданий раздела 2.6

Каждое из заданий раздела 2.6 части II считается выполненным верно, если ответ записан в той форме, которая указана в инструкции по выполнению задания.

Полный правильный ответ на задания 1–12 оценивается 2 баллами; если допущена одна ошибка (в том числе отсутствует одна из цифр или имеется одна лишняя цифра) – 1 балл; если допущено две и более ошибки (в том числе отсутствуют две и более цифры или имеются две и более лишние цифры) или ответ отсутствует – 0 баллов.

№ задания	Ответ
1	234
2	342
3	534
4	135
5	135
6	412
7	145
8	253
9	413
10	214
11	241
12	412

Раздел 2.7**Задания на сравнение**

1 Сравните организацию русского войска в годы правления Ивана III и правления Ивана IV. Выберите и запишите в первую колонку порядковые номера черт сходства, а во вторую – порядковые номера черт различия.

- 1) ограничение местничества при назначении на воинские должности
- 2) создание особого соединения царской рати – московского стрелецкого войска
- 3) больш́ая роль дворянской конницы
- 4) наличие артиллерии

Ответ:

Черты сходства	Черты различия

2 Сравните черты экономической политики Советского государства в 1920-х и 1930-х гг. Выберите и запишите в первую колонку порядковые номера черт сходства, а во вторую – порядковые номера черт различия.

- 1) директивно-плановое развитие тяжёлой промышленности
- 2) проведение денежной реформы
- 3) разрешение аренды земли
- 4) осуществление монополии внешней торговли

Ответ:

Черты сходства	Черты различия

3 Сравните черты развития культуры в период 1945–1953 гг. и в период 1953–1964 гг. Выберите и запишите в первую колонку порядковые номера черт сходства, а во вторую – порядковые номера черт различия.

- 1) господство социалистического реализма в литературе и искусстве
- 2) присуждение Нобелевской премии гражданам СССР
- 3) запрет на публикацию некоторых литературных произведений, созданных в СССР
- 4) осуществление космических полётов

Ответ:

Черты сходства	Черты различия

4 Сравните деятельность Первого и Второго ополчений в годы Смуты. Выберите и запишите в первую колонку порядковые номера черт сходства, а во вторую – порядковые номера черт различия.

- 1) выступление против польских захватчиков
- 2) участие Дмитрия Пожарского
- 3) формирование движения в Рязани
- 4) участие Кузьмы Минина

Ответ:

Черты сходства		Черты различия	

5 Сравните черты внешней политики СССР в период нэпа и в период 1930-х гг. Выберите и запишите в первую колонку порядковые номера черт сходства, а во вторую – порядковые номера черт различия.

- 1) участие советских дипломатов в работе международных конференций
- 2) участие в работе Лиги Наций
- 3) участие советских военнослужащих в военных действиях на территории Западной Европы
- 4) оказание помощи коммунистическим партиям в различных странах мира

Ответ:

Черты сходства		Черты различия	

6 Сравните черты общественно-политического положения в СССР в периоды 1953–1964 гг. и 1985–1991 гг. Выберите и запишите в первую колонку порядковые номера черт сходства, а во вторую – порядковые номера черт различия.

- 1) наличие официальной идеологии
- 2) существование всенародных выборов в высшие органы государственной власти, проводимых на альтернативной основе
- 3) существование многопартийности в СССР
- 4) реабилитация жертв сталинских репрессий

Ответ:

Черты сходства		Черты различия	

7 Сравните основные черты социально-экономического развития России в годы правления Александра I и Александра III. Выберите и запишите в первую колонку таблицы порядковые номера черт сходства, а во вторую – порядковые номера черт различия.

- 1) неравномерность экономического развития регионов страны
- 2) существование крестьянской общины
- 3) господство крепостнической системы хозяйствования
- 4) масштабное железнодорожное строительство

Ответ:

Черты сходства		Черты различия	

8 Сравните политику императоров Петра I и Николая I в области государственного управления. Выберите и запишите в первую колонку порядковые номера черт сходства, а во вторую – порядковые номера черт различия.

- 1) увеличение численности бюрократического аппарата
- 2) успешная кодификация законов
- 3) учреждение коллегий
- 4) сосредоточение всех вопросов управления страной в руках императора

Ответ:

Черты сходства		Черты различия	

9 Сравните черты социального-политического развития СССР во второй половине 1940-х гг. и в 1970-х гг. Выберите и запишите в первую колонку таблицы порядковые номера черт сходства, а во вторую – порядковые номера черт различия.

- 1) выдача паспортов колхозникам
- 2) отсутствие предпринимателей в составе населения страны
- 3) существование системы ГУЛаг
- 4) существование особого слоя – высшей партийной номенклатуры

Ответ:

Черты сходства		Черты различия	

10 Сравните особенности экономического развития Российской империи в первой четверти и во второй четверти XIX в. Выберите и запишите в первую колонку таблицы порядковые номера черт сходства, а во вторую – порядковые номера черт различия.

- 1) промышленный переворот в России
- 2) аграрный характер экономики
- 3) наличие железнодорожного транспорта
- 4) использование труда крепостных крестьян

Ответ:

Черты сходства		Черты различия	

11 Сравните черты социально-экономического развития СССР в период 1922–1929 гг. и России в период 1991–1999 гг. Выберите и запишите в первую колонку таблицы порядковые номера черт сходства, а во вторую – порядковые номера черт различия.

- 1) существование частных промышленных предприятий
- 2) проведение денежной реформы
- 3) ущемление предпринимателей в политических и гражданских правах
- 4) проведение «ваучерной» приватизации

Ответ:

Черты сходства		Черты различия	

12 Сравните внутреннюю политику Петра I и Николая I. Выберите и запишите в первую колонку таблицы порядковые номера черт сходства, а во вторую – порядковые номера черт различия.

- 1) установление категории почётных граждан для городских обывателей
- 2) подавление восстаний внутри страны
- 3) установление обязательной государственной и военной службы для дворян
- 4) расширение бюрократического аппарата

Ответ:

Черты сходства		Черты различия	

Система оценивания заданий раздела 2.7

Каждое из заданий раздела 2.7 части II считается выполненным верно, если ответ записан в той форме, которая указана в инструкции по выполнению задания.

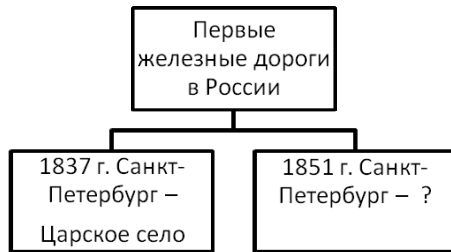
Полный правильный ответ на задания 1–12 оценивается 1 баллом; неполный, неверный ответ или его отсутствие – 0 баллов.

№ задания	Ответ
1	3412
2	1423
3	1324
4	1234
5	1423
6	1423
7	1234
8	1423
9	2413
10	2413
11	1234
12	2413

Раздел 2.8

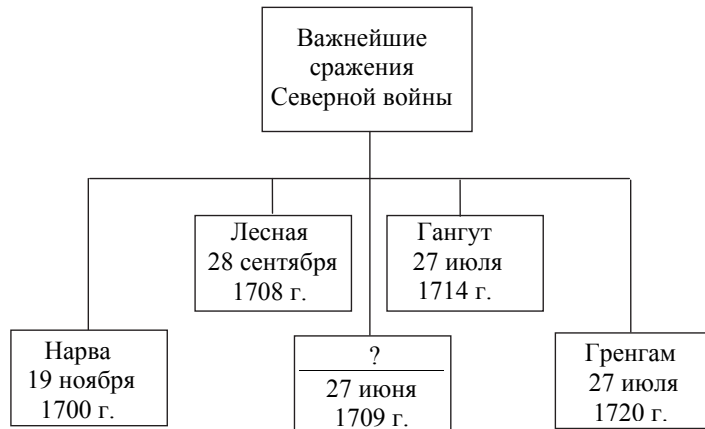
Задания на работу с информацией, данной в виде схемы

1 Запишите слово, пропущенное в схеме.



Ответ: _____.

2 Запишите слово, пропущенное в схеме.



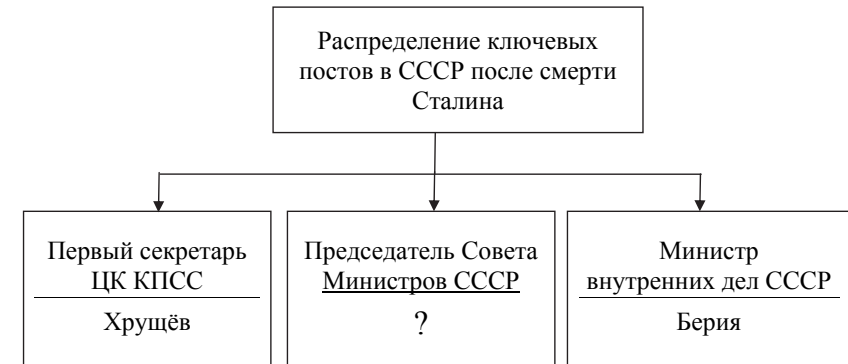
Ответ: _____.

3 Запишите название страны, пропущенное в схеме.



Ответ: _____.

4 Запишите фамилию, пропущенную в схеме.



Ответ: _____.

5 Запишите фамилию, пропущенную в схеме.




Ответ: _____.

6 Запишите фамилию, пропущенную в схеме.



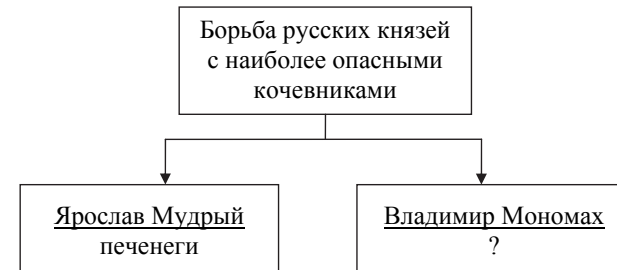
Ответ: _____.

7 Укажите правителя, пропущенного в схеме.



Ответ: _____.

8 Запишите слово, пропущенное в схеме.



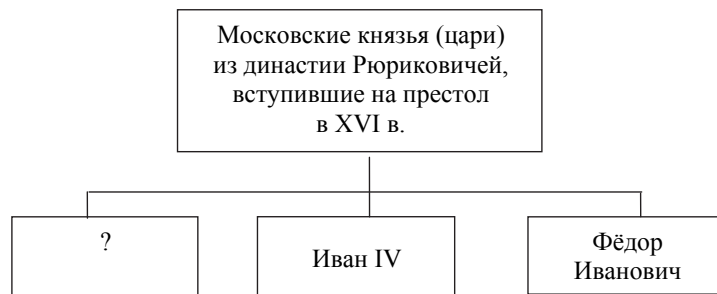
Ответ: _____.

9 Запишите слово, пропущенное в схеме.



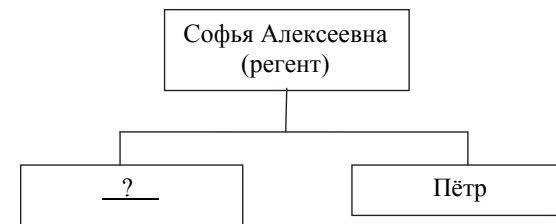
Ответ: _____.

10 Укажите князя (царя), пропущенного в схеме.



Ответ: _____.

11 Запишите имя, пропущенное в схеме.



Ответ: _____.

12 Укажите название города, пропущенное в схеме.



Ответ: _____.

Система оценивания заданий раздела 2.8

Каждое из заданий раздела 2.8 части II считается выполненным верно, если ответ записан в той форме, которая указана в инструкции по выполнению задания.

Полный правильный ответ на задания 1–12 оценивается 1 баллом; неполный, неверный ответ или его отсутствие – 0 баллов.

№ задания	Ответ
1	Москва
2	Полтава
3	Афганистан
4	Маленков
5	Ельцин
6	Косыгин
7	Пётр Первый
8	половцы
9	электростанция; станция
10	Василий Третий
11	Иван
12	Киев

Раздел 2.9

Задания на анализ исторической ситуации (с развёрнутым ответом)

1 Яков Рюмин, как и другие владельцы частных железоделательных заводов, использовал труд государственных крестьян, которые в счёт уплаты налогов несколько месяцев трудились на его заводах. Но ему хотелось, чтобы получившие квалификацию работники остались на производстве. Поэтому его очень обрадовал царский указ, который дал право ему и другим «недворянам» покупать крестьян «к фабрикам».

1. Назовите царя, издавшего упоминаемый в отрывке указ.
2. Назовите категорию крестьян, возникшую в связи с изданием данного указа.
3. Как отразилось использование владельцами заводов права покупать для работы крестьян на технической модернизации производства в последующие десятилетия?

2 В годы правления одного из российских монархов были предприняты первые попытки государственной охраны лесов. За самовольную рубку леса полагался крупный штраф в 10 рублей. Для нужд населения разрешены были рубки таких пород леса, как ольха, ива, ясень, орешник и липа. Вышли указы, полностью запрещающие рубку леса в ряде уездов, в том числе на берегах Невы и Финского залива, а лесами стало вестись созданное монархом Адмиралтейство.

1. Назовите царя, о котором идёт речь.
2. Укажите с точностью до четверти века период, к которому относятся описываемые события.
3. Чем были вызваны данные мероприятия?

3 По зимнему санному пути из Москвы в Кострому отправилось посольство. Прибыв в Ипатьевский монастырь, московские послы обратились к укрывавшемуся в его стенах 16-летнему юноше с просьбой принять приглашение вступить на престол. Несмотря на сомнения, которые терзали и самого юношу, и его мать инокиню Марфу, приглашение было принято. Юноша отправился в Москву, где 11 июля был венчан на царство.

1. Укажите название периода истории России, к завершению которого относятся описанные события.
2. Назовите царя, о котором идёт речь.
3. Укажите событие, в результате которого из Москвы в Кострому было направлено посольство.

4 После полугодичного царствования император был свергнут в результате дворцового переворота и вскоре лишился жизни. Личность и деятельность его долгое время расценивались историками единодушно отрицательно, однако затем появился и более взвешенный подход, отмечающий ряд государственных заслуг императора.

1. Укажите императора, о котором идёт речь.
2. Укажите причину, по которой император был свергнут с престола.
3. Назовите документ, изданный в годы правления этого императора, коренным образом изменивший положение российского дворянства.

5 В армии наступила полная неразбериха. Не командиры, а солдатские комитеты становились реальными хозяевами воинских частей. Решение о наступлении теперь принимается на митинге, а строгого офицера можно просто отстранить. Требование дисциплины «лишь только в строю» вызывало недоумение у командного состава. «Ваше превосходительство» и «ваше благородие» теперь в армии не услышишь, только: «господин генерал» и «господин полковник».

1. Укажите год, когда происходили эти события.
2. Как назывался орган власти, издавший документ, приведший к ситуации, о которой идёт речь?
3. Что стало следствием описанной ситуации?

6 Оглашение завещания огорчило двух братьев. Как ни велико отцовское наследство, и земли богатые, и работников на них хватает, и жить с земель этих можно всем в достатке, но не позволяет закон дробить их, всё отходит к брату старшему. Придётся остальным братьям из гнезда родного в город подаваться, «искать чинов».

1. Назовите монарха, в период правления которого было введено указанное ограничение в праве наследования.
2. Почему закон устанавливал право наследования только за одним сыном?
3. Как назывался документ, согласно которому была установлена эта норма?

7 Толпа горожан, возмущённых деятельностью бояр и богатых купцов, обвиняемых в тайных связях с врагом, ведшим в это время войну против России, – Речью Посполитой, устремилась к загородному дворцу царя в Коломенском. Царь был вынужден выйти к народу. Простолюдины окружили царя, держали его за пуговицы, но, когда царь дал слово расследовать дело, начали расходиться. Однако вскоре в Коломенское пришла другая, более воинственная толпа москвичей. Царь приказал подоспевшим стрельцам рубить мятежников. Бунт был подавлен, однако правительство, испугавшись новых выступлений, вынуждено было исправить ситуацию, сложившуюся в денежной системе страны. Ведь именно она была настоящей причиной бунта.

1. Укажите царя, о котором идёт речь.
2. Укажите год, когда произошли описанные события.
3. Какая была принята мера для исправления ситуации, сложившейся в денежной системе страны?

8 Выступая на съезде тайного общества, генерал, который семь лет назад принимал капитуляцию Парижа, потребовал от соратников права «действовать по своему усмотрению». Он был готов поднять свою дивизию и двинуть её на Москву с целью провозгласить временное правительство. Он верил, что его выступление поддержит Кавказская армия. Также на сторону восставших могли перейти гвардейские полки, где было сильно влияние офицеров-заговорщиков. Продуманный в деталях план генерала был отвергнут как преждевременный.

1. Назовите с точностью до четверти века период, к которому относятся описываемые события.
2. Укажите название, под которым вошли в историю России участники тайных обществ, одно из которых упоминается в тексте.
3. Чем было вызвано появление тайных обществ в среде русского офицерства в описываемое время?

9 19 августа <...> года в Берлине было подписано соглашение о предоставлении Советскому Союзу 200-миллионного кредита под 4,5% годовых. И в тот же день советское правительство дало согласие на прибытие в Москву И. Риббентропа.

- 1) Укажите год, пропущенный в условии задания.
- 2) Назовите документ, подписанный в ходе визита в Москву упоминаемого государственного деятеля.
- 3) Укажите любую одну причину, побудившую СССР пойти на подписание данного документа.

Система оценивания заданий раздела 2.9

Задания 1–9 раздела 2.9 оцениваются по специальным критериям в зависимости от полноты и правильности ответа от 0 до 3 баллов.

Критерии оценивания заданий с развёрнутым ответом.

1 Яков Рюмин, как и другие владельцы частных железодельных заводов, использовал труд государственных крестьян, которые в счёт уплаты налогов несколько месяцев трудились на его заводах. Но ему хотелось, чтобы получившие квалификацию работники остались на производстве. Поэтому его очень обрадовал царский указ, который дал право ему и другим «недворянам» покупать крестьян «к фабрикам».

1. Назовите царя, издавшего упоминаемый в отрывке указ.
2. Назовите категорию крестьян, возникшую в связи с изданием данного указа.
3. Как отразилось использование владельцами заводов права покупать для работы крестьян на технической модернизации производства в последующие десятилетия?

Содержание верного ответа и указания по оцениванию (допускаются иные формулировки ответа, не искажающие его смысла)	Баллы
Правильный ответ должен содержать следующие <u>элементы</u> : 1) <u>царь</u> – Пётр I; 2) <u>категория крестьян</u> – посессионные крестьяне; 3) <u>ответ на вопрос</u> : использование дешёвого подневольного труда тормозило техническую модернизацию предприятий	
Правильно названы царь, категория крестьян, дан ответ на вопрос	3
Правильно указаны любые два элемента ответа	2
Правильно указан любой один элемент ответа	1
Ответ неверный	0
<i>Максимальный балл</i>	3

2 В годы правления одного из российских монархов были предприняты первые попытки государственной охраны лесов. За самовольную рубку леса полагался крупный штраф в 10 рублей. Для нужд населения разрешены были рубки таких пород леса, как ольха, ива, ясень, орешник и липа. Вышли указы, полностью запрещающие рубку леса в ряде уездов, в том числе на берегах Невы и Финского залива, а лесами стало вестись созданное монархом Адмиралтейство.

1. Назовите царя, о котором идёт речь.
2. Укажите, с точностью до четверти века, период, к которому относятся описываемые события.
3. Чем были вызваны данные мероприятия?

Содержание верного ответа и указания по оцениванию (допускаются иные формулировки ответа, не искажающие его смысла)	Баллы
Правильный ответ должен содержать следующие <u>элементы</u> : 1) <u>царь</u> – Пётр I; 2) <u>период</u> – первая четверть XVIII в.; 3) <u>ответ на вопрос</u> : данные мероприятия были вызваны потребностью в лесе для нужд флота	
Правильно указаны царь, период, дан ответ на вопрос	3
Правильно указаны любые два элемента ответа	2
Правильно указан любой один элемент ответа	1
Ответ неверный	0
<i>Максимальный балл</i>	3

3 По зимнему санному пути из Москвы в Кострому отправилось посольство. Прибыв в Ипатьевский монастырь, московские послы обратились к укрывавшемуся в его стенах 16-летнему юноше с просьбой принять приглашение вступить на престол. Несмотря на сомнения, которые терзали и самого юношу, и его мать инокиню Марфу, приглашение было принято. Юноша отправился в Москву, где 11 июля был венчан на царство.

1. Укажите название периода истории России, к завершению которого относятся описанные события.
2. Назовите царя, о котором идёт речь.
3. Укажите событие, в результате которого из Москвы в Кострому было направлено посольство.

Содержание верного ответа и указания по оцениванию (допускаются иные формулировки ответа, не искажающие его смысла)	Баллы
Правильный ответ должен содержать следующие <u>элементы</u> : 1) <u>название периода</u> – Смута (Смутное время); 2) <u>царь</u> – Михаил Романов; 3) <u>событие</u> – избрание нового царя Земским собором	
Правильно указаны период, царь и событие	3
Правильно указаны любые два элемента ответа	2
Правильно указан любой один элемент ответа	1
Ответ неправильный	0
<i>Максимальный балл</i>	3

4 После полугодового царствования император был свергнут в результате дворцового переворота и вскоре лишился жизни. Личность и деятельность его долгое время расценивались историками единодушно отрицательно, однако затем появился и более взвешенный подход, отмечающий ряд государственных заслуг императора.

- 1) Укажите императора, о котором идёт речь.
- 2) Укажите причину, по которой император был свергнут с престола.
- 3) Назовите документ, изданный в годы правления этого императора, коренным образом изменивший положение российского дворянства.

Содержание верного ответа и указания по оцениванию (допускаются иные формулировки ответа, не искажающие его смысла)	Баллы
Правильный ответ должен содержать следующие <u>элементы</u> : 1) <u>император</u> – Пётр III; 2) <u>причина</u> , например: прекращение военных действий против Пруссии в Семилетней войне и заключение с прусским королём Петербургского мира на крайне невыгодных для России условиях; (Может быть названа другая верная причина.) 3) <u>документ</u> – манифест о вольности дворянской	
Правильно названы три элемента ответа	3
Правильно названы два любые элемента ответа	2
Правильно назван один любой элемент ответа	1
Ответ неверный	0
<i>Максимальный балл</i>	3

5 В армии наступила полная неразбериха. Не командиры, а солдатские комитеты становились реальными хозяевами воинских частей. Решение о наступлении теперь принимается на митинге, а строгого офицера можно просто отстранить. Требование дисциплины «лишь только в строю» вызывало недоумение у командного состава. «Ваше превосходительство» и «ваше благородие» теперь в армии не услышишь, только: «господин генерал» и «господин полковник».

- 1) Укажите год, когда происходили эти события.
- 2) Как назывался орган власти, издавший документ, приведший к ситуации, о которой идёт речь?
- 3) Что стало следствием описанной ситуации?

Содержание верного ответа и указания по оцениванию (допускаются иные формулировки ответа, не искажающие его смысла)	Баллы
Правильный ответ должен содержать следующие <u>элементы</u> : 1) <u>год</u> – 1917; 2) <u>орган власти</u> – Петроградский совет рабочих и солдатских депутатов; 3) <u>следствие</u> , например: произошло резкое падение дисциплины и боеспособности российской армии. (Может быть названо другое верное следствие.)	
Правильно названы три элемента ответа	3
Правильно названы два любых элемента ответа	2
Правильно назван один любой элемент ответа	1
Ответ неверный	0
<i>Максимальный балл</i>	3

6 Оглашение завещания огорчило двух братьев. Как ни велико отцовское наследство, и земли богатые, и работников на них хватает, и жить с земель этих можно всем в достатке, но не позволяет закон дробить их, всё отходит к брату старшему. Придётся остальным братьям из гнезда родного в город подаваться, «искать чинов».

1. Назовите монарха, в период правления которого было введено указанное ограничение в праве наследования.
2. Почему закон устанавливал право наследования только за одним сыном?
3. Как назывался документ, согласно которому была установлена эта норма?

Содержание верного ответа и указания по оцениванию (допускаются иные формулировки ответа, не искажающие его смысла)	Баллы
Правильный ответ должен содержать следующие <u>элементы</u> : 1) <u>монарх</u> – Пётр I; 2) <u>причина</u> , например: – предотвратить разорение и обнищание дворянства из-за дробления имений; – укрепить положение дворянства как опоры власти; – побудить дворян проявлять интерес к службе (Может быть названа другая верная причина.) 3) <u>документ</u> – указ о единонаследии	
Правильно указаны три элемента ответа	3
Правильно указаны два любых элемента ответа	2
Правильно указан один любой элемент ответа	1
Ответ неправильный	0
<i>Максимальный балл</i>	3

7 Толпа горожан, возмущённых деятельностью бояр и богатых купцов, обвиняемых в тайных связях с врагом, ведшим в это время войну против России, – Речью Посполитой, устремилась к загородному дворцу царя в Коломенском. Царь был вынужден выйти к народу. Простолюдины окружили царя, держали его за пуговицы, но, когда царь дал слово расследовать дело, начали расходиться. Однако вскоре в Коломенское пришла другая, более воинственная толпа москвичей. Царь приказал подоспевшим стрельцам рубить мятежников. Бунт был подавлен, однако правительство, испугавшись новых выступлений, вынуждено было исправить ситуацию, сложившуюся в денежной системе страны. Ведь именно она была настоящей причиной бунта.

1. Укажите царя, о котором идёт речь.
2. Укажите год, когда произошли описанные события.
3. Какая была принята мера для исправления ситуации, сложившейся в денежной системе страны?

Содержание верного ответа и указания по оцениванию (допускаются иные формулировки ответа, не искажающие его смысла)	Баллы
Правильный ответ должен содержать следующие <u>элементы</u> : 1) <u>царь</u> – Алексей Михайлович Романов; 2) <u>год</u> – 1662 г.; 3) <u>мера</u> – правительство изъяло медные деньги из обращения и отказалось от их выпуска	
Правильно указаны три элемента ответа	3
Правильно указаны два любых элемента ответа	2
Правильно указан один любой элемент ответа	1
Ответ неправильный	0
<i>Максимальный балл</i>	3

8 Выступая на съезде тайного общества, генерал, который семь лет назад принимал капитуляцию Парижа, потребовал от соратников права «действовать по своему усмотрению». Он был готов поднять свою дивизию и двинуть её на Москву с целью провозгласить временное правительство. Он верил, что его выступление поддержит Кавказская армия. Также на сторону восставших могли перейти гвардейские полки, где было сильно влияние офицеров-заговорщиков. Продуманный в деталях план генерала был отвергнут как преждевременный.

1. Назовите с точностью до четверти века период, к которому относятся описываемые события.
2. Укажите название, под которым вошли в историю России участники тайных обществ, одно из которых упоминается в тексте.
3. Чем было вызвано появление тайных обществ в среде русского офицерства в описываемое время?

Содержание верного ответа и указания по оцениванию (допускаются иные формулировки ответа, не искажающие его смысла)	Баллы
Правильный ответ должен содержать следующие <u>элементы</u> : 1) <u>период</u> – первая четверть XIX в.; 2) <u>название</u> – декабристы; 3) <u>ответ на вопрос</u> , например: появление тайных обществ было вызвано осознанием необходимости отмены крепостного права и ограничения самодержавия после Отечественной войны 1812 г. и Заграничного похода русской армии. (Может быть дан другой ответ на вопрос.)	
Правильно указаны три элемента ответа	3
Правильно указаны любые два элемента ответа	2
Правильно указан любой один элемент ответа	1
Ответ неправильный	0
<i>Максимальный балл</i>	3

9 19 августа <...> года в Берлине было подписано соглашение о предоставлении Советскому Союзу 200-миллионного кредита под 4,5% годовых. И в тот же день советское правительство дало согласие на прибытие в Москву И. Риббентропа.

- 1) Укажите год, пропущенный в условии задания.
- 2) Назовите документ, подписанный в ходе визита в Москву упоминаемого государственного деятеля.
- 3) Укажите любую одну причину, побудившую СССР пойти на подписание данного документа.

Содержание верного ответа и указания по оцениванию (допускаются иные формулировки ответа, не искажающие его смысла)	Баллы
<p>Правильный ответ должен содержать следующие <u>элементы</u>:</p> <p>1) <u>год</u> – 1939 г.;</p> <p>2) <u>документ</u> – Договор о ненападении между СССР и Германией (Пакт Молотова – Риббентропа);</p> <p>3) <u>причина</u>, например:</p> <ul style="list-style-type: none"> – подписание Договора было вызвано стремлением выиграть время для перевооружения Красной армии; – подписание Мюнхенских соглашений продемонстрировало стремление западных держав подтолкнуть Германию к войне с СССР и требовало от СССР ответных мер; – англо-франко-советские переговоры о подписании военного соглашения завершились безрезультатно. <p>(Может быть указана другая причина.)</p>	
Правильно указаны год, документ и причина	3
Правильно указаны два любых элемента	2
Правильно указан один любой элемент	1
Ответ неверный	0
<i>Максимальный балл</i>	3