

Утверждено Приказом директора ФГБНУ «ФИПИ»
от 15.11.2022 г. № 390-П

СПЕЦИФИКАЦИЯ
экзаменационных материалов для проведения в 2023 году
государственного выпускного экзамена по образовательным
программам основного общего образования (устная форма)
по МАТЕМАТИКЕ

1. Назначение экзаменационной работы

Государственный выпускной экзамен (ГВЭ) представляет собой форму государственной итоговой аттестации по образовательным программам основного общего образования, проводимой в целях определения соответствия результатов освоения обучающимися образовательных программ основного общего образования соответствующим требованиям федерального государственного образовательного стандарта. ГВЭ проводится для обучающихся, осваивающих образовательные программы основного общего образования в специальных учебно-воспитательных учреждениях закрытого типа, а также в учреждениях, исполняющих наказание в виде лишения свободы, а также для обучающихся, экстернов с ограниченными возможностями здоровья, обучающихся, экстернов – детей-инвалидов и инвалидов, осваивающих образовательные программы основного общего образования.

ГВЭ проводится в соответствии с Федеральным законом от 29.12.2012 № 273-ФЗ «Об образовании в Российской Федерации» и Порядком проведения государственной итоговой аттестации по образовательным программам основного общего образования, утверждённым приказом Минпросвещения России и Рособнадзора от 07.11.2018 № 189/1513 (зарегистрирован Минюстом России 10.12.2018, регистрационный № 52953).

2. Документы, определяющие содержание экзаменационной работы

Содержание экзаменационной работы определяется на основе федерального государственного образовательного стандарта основного общего образования (приказ Минобрнауки России от 17.12.2010 № 1897) с учётом Примерной основной образовательной программы основного общего образования (одобрена решением федерального учебно-методического объединения по общему образованию (протокол от 08.04.2015 № 1/15)).

В экзаменационной работе обеспечена преемственность проверяемого содержания с федеральным компонентом государственного образовательного стандарта основного общего образования (приказ Минобрнауки России от 05.03.2004 № 1089 «Об утверждении федерального компонента государственных образовательных стандартов начального общего, основного общего и среднего (полного) общего образования»).

3. Структура и содержание экзаменационной работы

Комплект экзаменационных материалов по математике для ГВЭ-9 в устной форме состоит из 15 билетов. Участникам экзамена должна быть предоставлена возможность выбора экзаменационного билета, при этом номера и содержание задания экзаменационных билетов не должны быть известны участнику экзамена в момент выбора экзаменационного билета из предложенных.

Задания построены с учётом в том числе следующих предметных результатов освоения основной образовательной программы основного общего образования:

«15) для слепых и слабовидящих обучающихся:

- владение правилами записи математических формул и специальных знаков рельефно-точечной системы обозначений Л. Брайля;
- владение тактильно-осязательным способом обследования и восприятия рельефных изображений предметов, контурных изображений геометрических фигур и т.п.;
- умение читать рельефные графики элементарных функций на координатной плоскости, применять специальные приспособления для рельефного черчения».

Каждый билет содержит 5 заданий, контролирующих элементы содержания курсов математики:

1. *Математика*. 5–6 классы;
2. *Алгебра*. 7–9 классы;
3. *Геометрия*. 7–9 классы;
4. *Вероятность и статистика*. 7–9 классы.

В таблице приведено распределение заданий по основным содержательным разделам.

*Распределение заданий
по основным содержательным разделам (темам) курса математики*

Содержательные блоки по темам курса	Количество заданий
Алгебра, вероятность и статистика	3
Геометрия	2
<i>Итого</i>	5

При проверке математической подготовки участников экзамена оценивается уровень, на котором сформированы следующие умения:

- воспроизводить определения математических объектов, формулировки теорем и их доказательства, сопровождая их необходимыми чертежами, рисунками, схемами;
- использовать изученную математическую терминологию и символику;
- приводить примеры геометрических фигур и конфигураций, примеры применения изученных свойств, фактов и методов;

- отвечать на вопросы, связанные с изученными математическими фактами, понятиями и их свойствами, с методами решения задач;
- чётко, грамотно, логично излагать свои мысли;
- проводить по известным формулам и правилам преобразования буквенных выражений, включающих степени, радикалы;
- отвечать на вопросы, связанные с изученными графиками функций и их свойствами;
- решать линейные, квадратные, дробно-рациональные уравнения и неравенства;
- решать геометрические задачи на нахождение геометрических величин (длин, углов, площадей);
- проводить доказательные рассуждения в ходе решения задач.

4. Продолжительность подготовки ответа на задания билета

Для подготовки ответа на вопросы билета участнику экзамена предоставляется 60 минут.

5. Дополнительные материалы и оборудование

Перечень дополнительных материалов и оборудования, использование которых разрешено при проведении ГВЭ-9, утверждается приказом Минпросвещения России и Рособнадзора.

Необходимые справочные материалы выдаются вместе с текстом билета. При выполнении заданий ГВЭ-9 в устной форме разрешается пользоваться линейкой.

6. Система оценивания ответов участников экзамена

Ответы на каждое задание оцениваются максимально 2 первичными баллами.

Обобщённая схема оценивания устного ответа каждого задания включает две составляющих:

- 1) озвученная последовательность рассуждений или логика решения;
- 2) озвученный ответ.

Оценивание каждого задания на экзамене по математике осуществляется в соответствии со следующими критериями.

Содержание критерия	Баллы
Ответ экзаменуемого характеризуется смысловой цельностью, речевой связностью и последовательностью изложения: логические ошибки отсутствуют, последовательность изложения не нарушена, получен верный ответ, ИЛИ допущена одна ошибка/неточность в рассуждении, которая не привела к неверному ответу	2
Ответ экзаменуемого характеризуется смысловой цельностью, связностью и последовательностью изложения, но допущены ошибки/неточности, при этом получен верный ответ, ИЛИ при верной последовательности рассуждений (логике решения) получен неверный ответ	1
Озвучен только верный ответ, ИЛИ другие случаи, не соответствующие указанным выше критериям	0
<i>Максимальный балл</i>	<i>2</i>

Максимальный первичный балл за выполнение экзаменационной работы – 10.

Перевод первичных баллов, полученных участником экзамена за выполнение всех заданий билета, в пятибалльную систему оценки осуществляется с учётом приведённой ниже шкалы перевода.

Шкала перевода первичных баллов в пятибалльную отметку

Отметка по пятибалльной шкале	«2»	«3»	«4»	«5»
Диапазон первичных баллов	0–4	5–6	7–8	9–10

7. Изменения в экзаменационных материалах 2023 года по сравнению с 2022 годом

Изменения структуры и содержания экзаменационных материалов ГВЭ-9 по математике отсутствуют.

Перечень теоретических вопросов и примеры практических заданий для ГВЭ-9 в устной форме представлены в «Сборнике тренировочных материалов для подготовки к государственному выпускному экзамену по МАТЕМАТИКЕ для обучающихся по образовательным программам ОСНОВНОГО общего образования», который опубликован на сайте ФГБНУ «ФИПИ».


**Образец экзаменационного билета
ГВЭ-9 (устная форма) 2023 года
по МАТЕМАТИКЕ**

1

Выполните одно из двух заданий.

а) Найдите значение выражения $\frac{1}{2} - \frac{9}{25}$.

Ответ: _____.

б) На координатной прямой точки A , B , C и D соответствуют числам $-0,502$; $0,25$; $0,205$; $0,52$.Какой точке соответствует число $0,25$?

Ответ: _____.

2

Выполните одно из трёх заданий.

а) Решите уравнение $x^2 - 20 = x$.

Ответ: _____.

б) Найдите значение выражения $\frac{xy + y^2}{7} \cdot \frac{9}{x + y}$ при $x = 0$, $y = 21$.

Ответ: _____.

в) Решите неравенство $x^2 - 64 \geq 0$.

Ответ: _____.

3

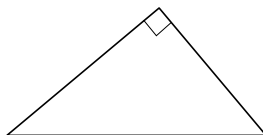
Выполните одно из трёх заданий.

а) Катеты прямоугольного треугольника равны 30 и 40. Найдите длину гипотенузы этого треугольника.

Ответ: _____.

б) Периметр квадрата равен 32. Найдите площадь этого квадрата.

Ответ: _____.



в) Какие из следующих утверждений верны?

- 1) Косинус острого угла прямоугольного треугольника равен отношению гипотенузы к прилежащему к этому углу катету.
- 2) Диагонали ромба перпендикулярны.
- 3) Существуют три прямые, которые проходят через одну точку.

Ответ: _____.

4

Выполните одно из трёх заданий.

а) В таблице приведены расстояния от Солнца до четырёх планет Солнечной системы.

Планета	Венера	Нептун	Уран	Юпитер
Расстояние (в км)	$1,082 \cdot 10^8$	$4,497 \cdot 10^9$	$2,871 \cdot 10^9$	$7,781 \cdot 10^8$

Какая из этих планет находится дальше от Солнца?

Ответ: _____.

б) После уценки телевизора его новая цена составила $0,57$ старой цены. На сколько процентов уменьшилась цена телевизора в результате уценки?

Ответ: _____.

в) На тарелке лежат одинаковые на вид пирожки: 1 с творогом, 12 с мясом и 3 с яблоками. Ваня наугад берёт один пирожок. Найдите вероятность того, что пирожок окажется с мясом.

Ответ: _____.

5

Выполните одно из двух заданий.

а) Два бегуна одновременно стартовали в одном направлении из одного и того же места круговой трассы. Спустя 1 час, когда одному из них оставалось 4 км до окончания первого круга, ему сообщили, что второй бегун пробежал первый круг 6 минут назад. Найдите скорость первого бегуна, если известно, что она на 6 км/ч меньше скорости второго.

б) Окружности с центрами в точках E и F пересекаются в точках C и D , причём точки E и F лежат по одну сторону от прямой CD . Докажите, что прямые CD и EF перпендикулярны.

СПРАВОЧНЫЕ МАТЕРИАЛЫ ПО МАТЕМАТИКЕ

АЛГЕБРА

- Формула корней квадратного уравнения:

$$x = \frac{-b \pm \sqrt{D}}{2a}, \text{ где } D = b^2 - 4ac.$$

- Если квадратный трёхчлен $ax^2 + bx + c$ имеет два корня x_1 и x_2 , то

$$ax^2 + bx + c = a(x - x_1)(x - x_2);$$

если квадратный трёхчлен $ax^2 + bx + c$ имеет единственный корень x_0 , то

$$ax^2 + bx + c = a(x - x_0)^2.$$

- Абсцисса вершины параболы, заданной уравнением $y = ax^2 + bx + c$:

$$x_0 = -\frac{b}{2a}.$$

- Формула n -го члена арифметической прогрессии (a_n) , первый член которой равен a_1 и разность равна d :

$$a_n = a_1 + d(n - 1).$$

- Формула суммы первых n членов арифметической прогрессии:

$$S_n = \frac{(a_1 + a_n)n}{2}.$$

- Формула n -го члена геометрической прогрессии b_n , первый член которой равен b_1 , а знаменатель равен q :

$$b_n = b_1 \cdot q^{n-1}$$

- Формула суммы первых n членов геометрической прогрессии:

$$S_n = \frac{(q^n - 1)b_1}{q - 1}.$$

- Формулы сокращённого умножения:

$$(a + b)^2 = a^2 + 2ab + b^2;$$

$$(a - b)^2 = a^2 - 2ab + b^2;$$

$$a^2 - b^2 = (a - b)(a + b).$$

- Свойства арифметического квадратного корня:

$$\sqrt{ab} = \sqrt{a} \cdot \sqrt{b} \text{ при } a \geq 0, b \geq 0;$$

$$\sqrt{\frac{a}{b}} = \frac{\sqrt{a}}{\sqrt{b}} \text{ при } a \geq 0, b > 0.$$

- Свойства степени при $a > 0, b > 0$

$$a^{-n} = \frac{1}{a^n};$$

$$a^n \cdot a^m = a^{n+m};$$

$$\frac{a^n}{a^m} = a^{n-m};$$

$$(a^n)^m = a^{nm};$$

$$(ab)^n = a^n \cdot b^n;$$

$$\left(\frac{a}{b}\right)^n = \frac{a^n}{b^n}.$$

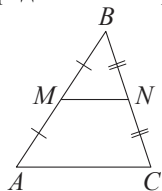
Таблица квадратов двузначных чисел

		Единицы									
		0	1	2	3	4	5	6	7	8	9
Десятки	1	100	121	144	169	196	225	256	289	324	361
	2	400	441	484	529	576	625	676	729	784	841
	3	900	961	1024	1089	1156	1225	1296	1369	1444	1521
	4	1600	1681	1764	1849	1936	2025	2116	2209	2304	2401
	5	2500	2601	2704	2809	2916	3025	3136	3249	3364	3481
	6	3600	3721	3844	3969	4096	4225	4356	4489	4624	4761
	7	4900	5041	5184	5329	5476	5625	5776	5929	6084	6241
	8	6400	6561	6724	6889	7056	7225	7396	7569	7744	7921
	9	8100	8281	8464	8649	8836	9025	9216	9409	9604	9801

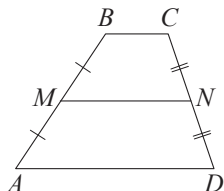
ГЕОМЕТРИЯ

Сумма углов выпуклого n -угольника равна $180^\circ(n-2)$.

Средняя линия треугольника и трапеции

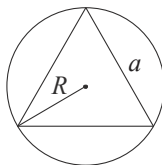


MN — ср. лин.
 $MN \parallel AC$
 $MN = \frac{AC}{2}$

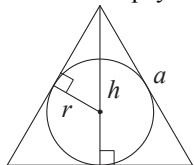


$BC \parallel AD$
 MN — ср. лин.
 $MN \parallel AD$
 $MN = \frac{BC + AD}{2}$

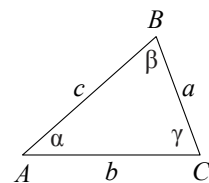
Описанная и вписанная окружности правильного треугольника



$R = \frac{a\sqrt{3}}{3}$
 $S = \frac{a^2\sqrt{3}}{4}$



$r = \frac{a\sqrt{3}}{6}$
 $h = \frac{a\sqrt{3}}{2}$



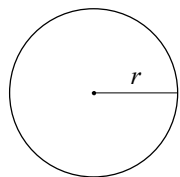
Для треугольника ABC со сторонами $AB=c$, $AC=b$, $BC=a$:

$$\frac{a}{\sin A} = \frac{b}{\sin B} = \frac{c}{\sin C} = 2R,$$

где R — радиус описанной окружности.

Для треугольника ABC со сторонами $AB=c$, $AC=b$, $BC=a$:

$$c^2 = a^2 + b^2 - 2ab \cos C.$$

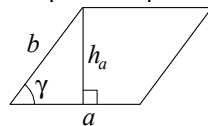


Длина окружности $C = 2\pi r$

Площадь круга $S = \pi r^2$

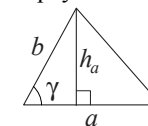
Площади фигур

Параллелограмм



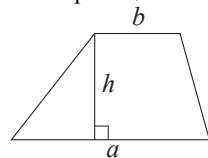
$S = ah_a$
 $S = ab \sin \gamma$

Треугольник



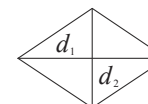
$S = \frac{1}{2} ah_a$
 $S = \frac{1}{2} ab \sin \gamma$

Трапеция



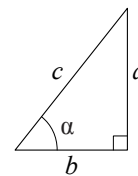
$S = \frac{a+b}{2} \cdot h$

Ромб



d_1, d_2 — диагонали
 $S = \frac{1}{2} d_1 d_2$

Прямоугольный треугольник



$\sin \alpha = \frac{a}{c}$
 $\cos \alpha = \frac{b}{c}$
 $\operatorname{tg} \alpha = \frac{a}{b}$

Теорема Пифагора: $a^2 + b^2 = c^2$

Основное тригонометрическое тождество: $\sin^2 \alpha + \cos^2 \alpha = 1$

Некоторые значения тригонометрических функций

α	градусы	0°	30°	45°	60°	90°	180°	270°	360°
$\sin \alpha$		0	$\frac{1}{2}$	$\frac{\sqrt{2}}{2}$	$\frac{\sqrt{3}}{2}$	1	0	-1	0
$\cos \alpha$		1	$\frac{\sqrt{3}}{2}$	$\frac{\sqrt{2}}{2}$	$\frac{1}{2}$	0	-1	0	1
$\operatorname{tg} \alpha$		0	$\frac{\sqrt{3}}{3}$	1	$\sqrt{3}$	—	0	—	0